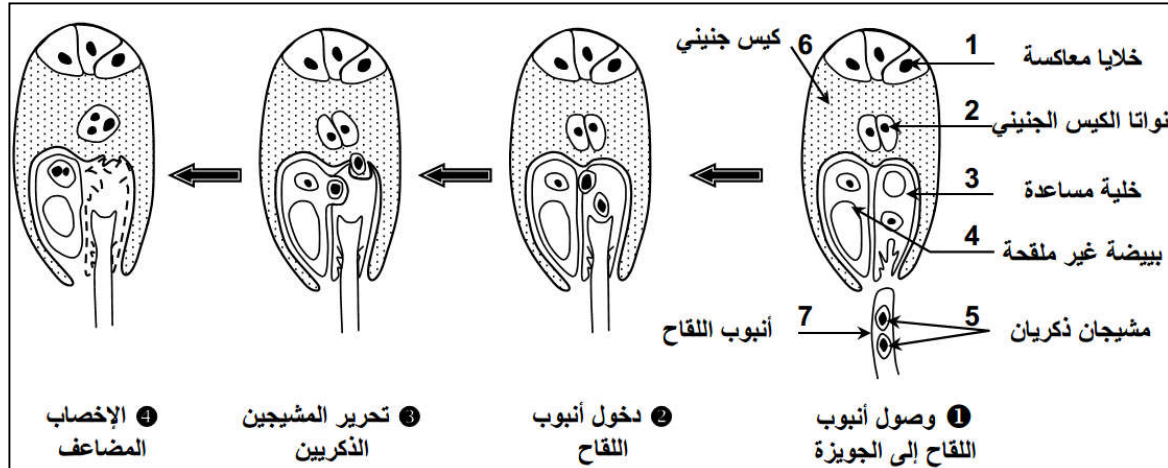


بعد الأبر تتعرض حبوب اللقاح للإنبات وتشهد تكون حبيبين مثبريين يشكلان المشيجين الذكريين. للتعرف على مصير الحبيبين المنبريين والكيس الجنيني الذي يضم المشيج الأثوي نقتراح دراسة المعطيات التالية:

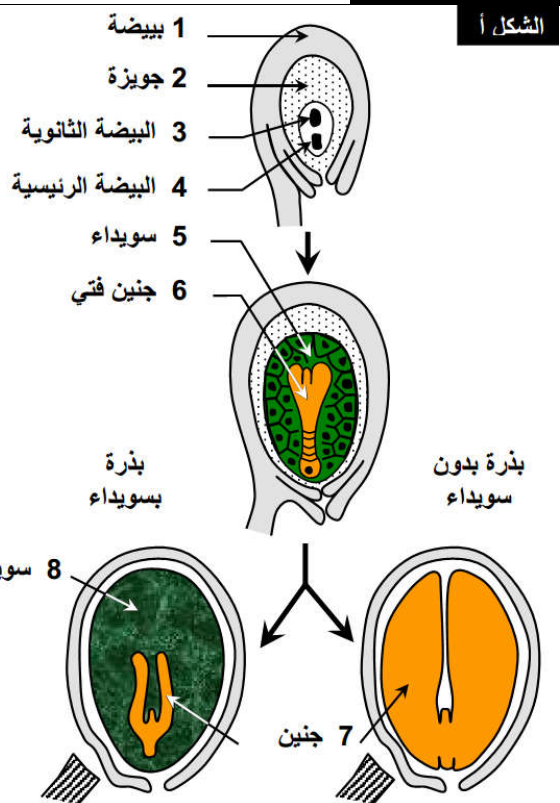
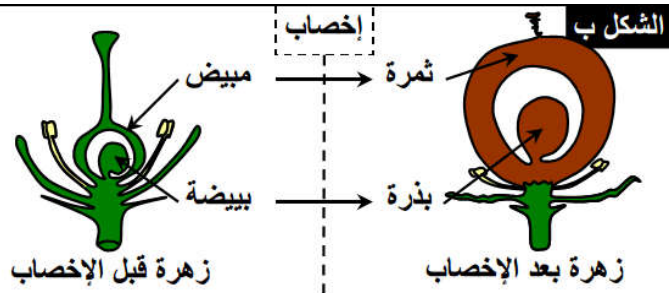
المعطيات

الوثيقة 1: مصير الحبيبين المنبريين و البيضة الملقحة

تبين الوثيقة ظاهرة بيولوجية تحدث على مستوى البيضة عند وصول أنبوب اللقاح إلى الكيس الجنيني



الوثيقة 2: تكون البذرة



الشكل ج: فقدان الماء عند بذور الذرة

عدد الأيام بعد الإزهار	21	42	63	77	91
كتلة الماء ب g في كل 50 بذرة	8	10.5	8	6.3	4.4

الشكل د: التركيب الكيميائي لبعض البذور

ماء	دهنيات	بروتينات	سكريات	
14	2	25	55	بذور الفاصوليا
7	60	20	10	بذور الخروع
12	5	11	70	بذور الذرة

استثمار المعطيات

- 1- صف مراحل الظاهرة البيولوجية التي تبرزها الوثيقة 1.
- 2- بماذا **تنعت** الظاهرة المبينة في الوثيقة، **علل** إجابتك.
- 3- من خلال استثمارك معطيات وثيقة 2 **حدد** التحولات التي تعرفها الزهرة بعد الإخصاب المضاعف.