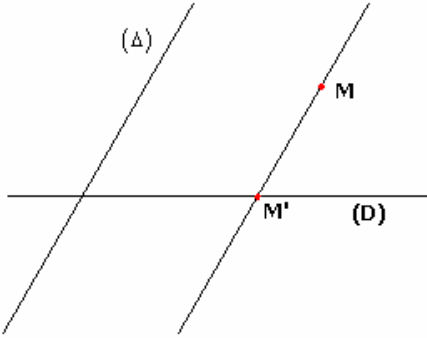


القدرات المنتظرة

*- الترجمة المتجهية لمبرهنة طاليس.

1- مسقط نقطة على مستقيم

ليكن (D) و (Δ) مستقيمين متقاطعين و M نقطة من المستقيم (Δ) يوجد مستقيم وحيد مار من M و يوازي (D) . هذا المستقيم يقطع (D) في نقطة وحيدة M' النقطة M' تسمى مسقط M على (D) بتواز مع (Δ)



تعريف

ليكن (D) و (Δ) مستقيمين متقاطعين و M نقطة من المستوي مسقط النقطة M على (D) بتواز مع (Δ) هو نقطة تقاطع (D) مع المستقيم الموازي للمستقيم (Δ) و المار من M

ملاحظة: إذا كانت $M \in (D)$ فان مسقط M على (D) بتواز مع (Δ) هو نفسها.

2- الإسقاط على مستقيم بتواز مع آخر

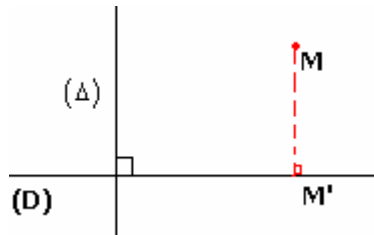
أ- تعريف

(D) و (D') مستقيمان متقاطعان الطريقة التي تربط كل نقطة M من المستوي بمسقطها M' على المستقيم (D) بتواز مع المستقيم (Δ) تسمى الإسقاط على (D) بتواز مع (Δ) .

ب- الإسقاط العمودي على مستقيم

تعريف 1

الإسقاط على مستقيم (D) بتواز مع مستقيم عمودي عليه يسمى الإسقاط العمودي على (D)

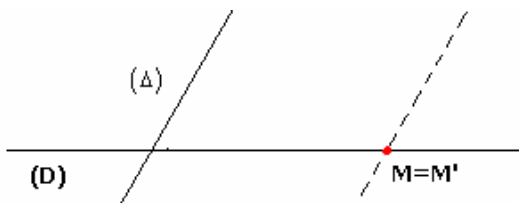


تعريف 2

مسقط النقطة M على المستقيم (D) بتواز مع مستقيم عمودي عليه يسمى المسقط العمودي للنقطة M على (D)

3- خاصيات أولية

أ- خاصية 1



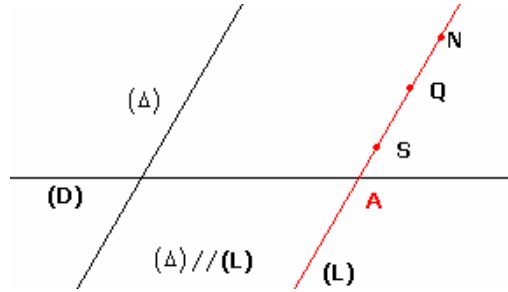
- كل نقطة من (D) منطبقة مع مسقطها على (D) بتواز مع (Δ) .
- كل نقطة منطبقة مع مسقطها على (D) بتواز مع (Δ) تنتمي إلى (D)

مفردات

- إذا كان مسقط النقطة M هي نفسها على (D) بتواز مع (Δ) نقول إن M صامدة بالإسقاط على (D) بتواز مع (Δ) .
 - المستقيم (D) صامدة بالإسقاط على (D) بتواز مع (Δ) .
- نمبر عن الخاصية 1 بالتعبير التالي:

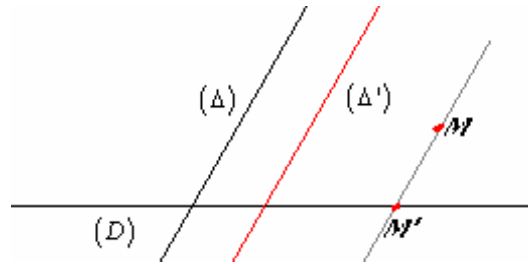
مجموعة النقط الصامدة بالإسقاط على (D) بتواز مع (Δ) هي المستقيم (D)

ب- خاصية 2



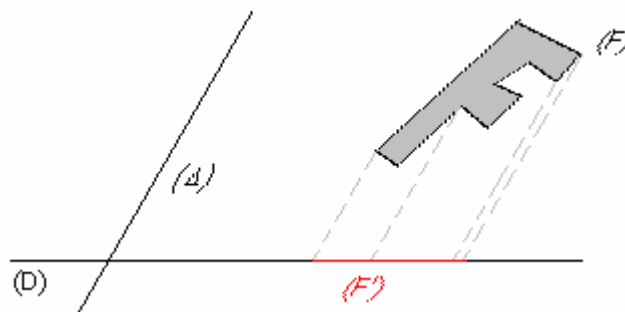
لتكن A نقط من مستقيم (D) .
مجموعة النقط التي لها نفس المسقط A على (D) بتواز مع (Δ) هي المستقيم المار من A و الموازي للمستقيم (Δ)

ج- خاصية 3



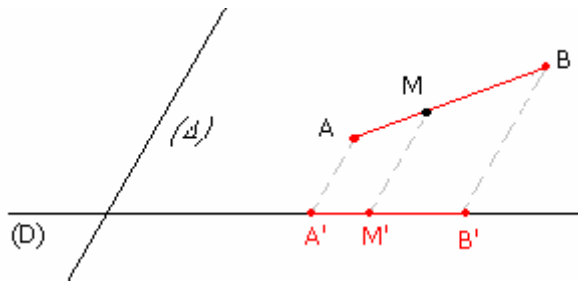
إذا كان مستقيم (Δ') يوازي (Δ) فإن الإسقاط على (D) بتواز مع (Δ) هو الإسقاط على (D) بتواز مع (Δ')
نقول إن الإسقاط على (D) بتواز مع (Δ) لا يتغير بتعويض (Δ) بمستقيم له نفس الاتجاه.

4- مسقط شكل



أ- تعريف

- ليكن (D) و (Δ) مستقيمين متقاطعين و (F) شكلا من المستوى و (F') جزء من المستقيم (D) نقول إن (F') مسقط الشكل (F) إذا وفقط إذا تحقق:
- مسقط كل نقطة من (F) على (D) بتواز مع (Δ) ينتمي إلى (F') .
 - كل نقطة من (F') هي مسقط نقطة على الأقل من (F) على (D) بتواز مع (Δ) .



خاصية (مقبولة)

لتكن A و B نقطتين مختلفتين و A' و B' مسقطيهما على مستقيم (D) بتواز مع مستقيم (Δ) بالتوالي. مسقط $[AB]$ هو $[A'B']$

ملاحظة:

إذا كان $(AB) \parallel (\Delta)$ فإن $A' = B'$ ومنه مسقط $[AB]$ هي القطعة المنعدمة $[A'A']$.

ج- مسقط منتصف قطعة خاصة

إذا كان A' و B' مسقطي النقطتين A و B على مستقيم (D) بتواز مع مستقيم (Δ) بالتوالي فإن: مسقط منتصف القطعة $[AB]$ هو منتصف $[A'B']$.
نبر عن هذا بقولنا: الإسقاط على (D) بتواز مع (Δ) يحافظ على المنتصف.

5- ميرهن طاليس المباشرة و العكسية متجهيا - الإسقاط ومعامل الاستقامية لمتجهتين أ- نشاط 1

ليكن (D) و (Δ) مستقيمين متقاطعين

$A ; B ; C ; D$ نقط من المستوى حيث $A \neq B$.

$A' ; B' ; C' ; D'$ مساقطها على (D) بتواز مع (Δ) .

1- لنفترض أن $A ; B ; C$ نقط مستقيمة حيث $\vec{AC} = \lambda \vec{AB}$

بين أن $\frac{AC}{AB} = \frac{A'C'}{A'B'}$ و أن $\vec{A'C'} = \lambda \vec{A'B'}$

2- لنفترض أن $\vec{AB} = \vec{CD}$ بين أن $\vec{A'B'} = \vec{C'D'}$

3- لنفترض أن $\vec{CD} = \alpha \vec{AB}$ بين أن $\vec{C'D'} = \alpha \vec{A'B'}$

تذكير لمبرهنة طاليس المباشرة في المثلث

ليكن ABC مثلثا و M و N نقطتين من (AB) و (AC) على التوالي

إذا كان $(BC) \parallel (MN')$ فإن $\frac{AM}{AB} = \frac{AN}{AC}$

تصحيح النشاط

1- نبين أن $\frac{AC}{AB} = \frac{A'C'}{A'B'}$ و $\vec{A'C'} = \lambda \vec{A'B'}$

نعتبر المستقيم المار من A' و الموازي لـ (AB) ويقطع

(BB') و (CC') على التوالي في E و F

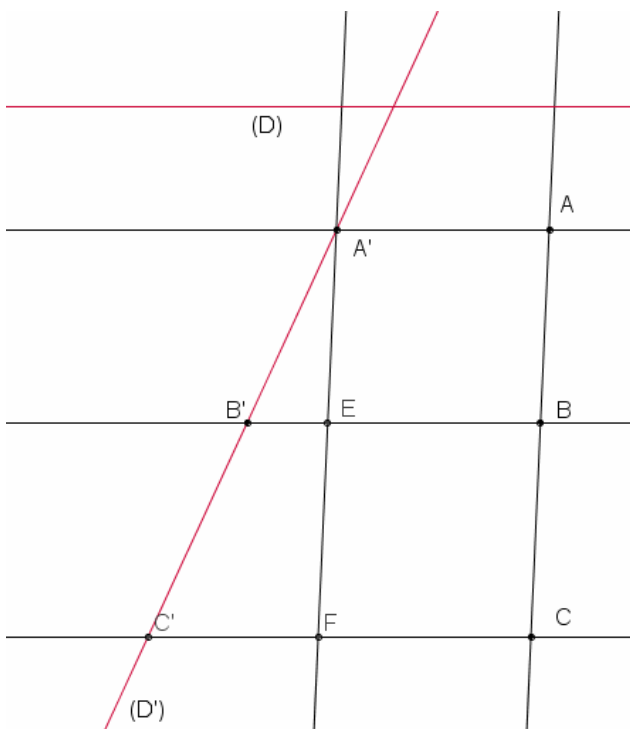
باعتبار المثلث $A'BE$ و التوازي (BE) مع (CF)

وتطبيق خاصية طاليس نحصل على $\frac{A'F}{A'E} = \frac{A'C'}{A'B'}$

$ABEA'$ و $ACFA'$ متوازي الأضلاع

و منه $A'E = AB ; A'F = AC$

حسب طاليس فإن $\frac{AC}{AB} = \frac{A'C'}{A'B'}$

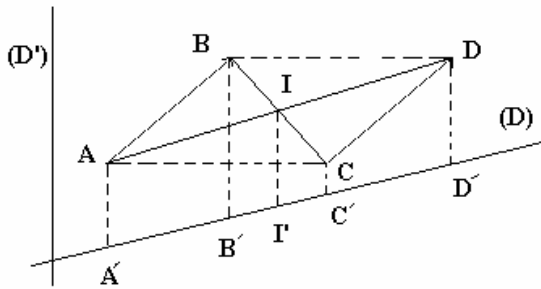


وحيث أن $\overline{AC} = \lambda \overline{AB}$ فإن $\frac{AC}{AB} = \frac{A'C'}{A'B'} = |\lambda|$

ومنه $A'C' = |\lambda| A'B'$

وحيث أن النقط A ; B ; C والنقط A' ; B' ; C' في نفس الترتيب و $\overline{AC} = \lambda \overline{AB}$ فإن $\overline{A'C'} = \lambda \overline{A'B'}$

2- نبين أن $\overline{A'B'} = \overline{C'D'}$



$\overline{AB} = \overline{CD}$ تكافئ متوازي الأضلاع

ليكن I مركز $ABDC$ و I' مسقطها على (D) بتواز (D')

لدينا $\overline{IB} = -\overline{IC}$; $\overline{IA} = -\overline{ID}$

ومنه حسب (1) $\overline{I'B'} = -\overline{I'C'}$; $\overline{I'A'} = -\overline{I'D'}$

إذن $\overline{A'B'} = \overline{C'D'}$

3- نبين أن $\overline{C'D'} = \alpha \overline{A'B'}$

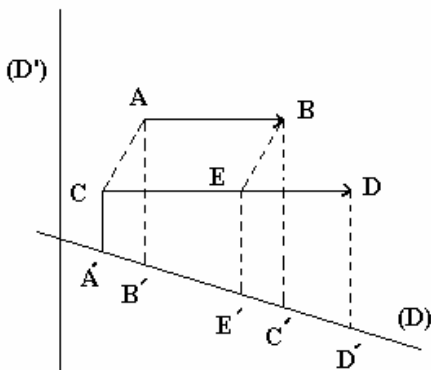
لدينا $\overline{CD} = \alpha \overline{AB}$ نعتبر E حيث $\overline{AB} = \overline{CE}$

ومنه $\overline{CD} = \alpha \overline{CE}$

وبالتالي حسب (1) و(2) نستنتج $\overline{A'B'} = \overline{C'E'}$

و $\overline{C'D'} = \alpha \overline{C'E'}$

إذن $\overline{C'D'} = \alpha \overline{A'B'}$



ب- مبرهنة طاليس المباشرة متجهيا

ليكن (D) و (Δ) مستقيمين متقاطعين و A ; B ; C نقط مستقيمة حيث $A \neq B$
إذا كان A' ; B' ; C' مساقط A ; B ; C بالتوالي على (D) بتواز مع (Δ) و كان

$$\overline{AC} = \lambda \overline{AB} \text{ فإن } \overline{A'C'} = \lambda \overline{A'B'}$$

ج- الإسقاط و تساوي متجهتين مبرهنة

A ; B ; C ; D نقط من المستوى و A' ; B' ; C' ; D' مساقطها بالتوالي

$$\overline{CD} = \overline{AB} \text{ فإن } \overline{C'D'} = \overline{A'B'}$$

د- الإسقاط ومعامل الاستقامة لمتجهتين مبرهنة

A ; B ; C ; D نقط من المستوى و A' ; B' ; C' ; D' مساقطها بالتوالي

على مستقيم (D) بتواز مع مستقيم (Δ)

$$\overline{CD} = \alpha \overline{AB} \text{ فإن } \overline{C'D'} = \alpha \overline{A'B'}$$

نعبر عن هذا بقولنا الإسقاط يحافظ على معامل استقامة متجهتين

تمرين

ليكن ABC مثلثا و E و F نقطتين حيث $\overline{AE} = \frac{1}{4} \overline{AB}$; $\overline{AF} = \frac{1}{4} \overline{AC}$ نعتبر (Δ) مستقيم يقطع

(AC) و لا يوازي (BC) لتكن E' و F' و B' و C' المساقط العمودية بالتوالي E و F و B و C على (Δ)

$$\text{بين أن } \overline{E'F'} = \frac{1}{4} \overline{B'C'}$$

ليكن ABC مثلثا و I منتصف $[BC]$ و E و F نقطتين حيث $\overrightarrow{AE} = \frac{-1}{4}\overrightarrow{AB}$ و $\overrightarrow{AF} = \frac{3}{4}\overrightarrow{AC}$

نعتبر J تقاطع (AI) و (EF) و B' و C' مسقطا B و C على (AI) بتواز مع (EF)

1- بين أن I منتصف $[B'C']$

2- بين أن $\overrightarrow{AJ} = \frac{3}{4}\overrightarrow{AC'}$ و $\overrightarrow{AJ} = \frac{-1}{4}\overrightarrow{AB'}$

3- بين أن $2\overrightarrow{AI} = \overrightarrow{AB'} + \overrightarrow{AC'}$ و استنتج \overrightarrow{AI} بدلالة \overrightarrow{AJ}

ذ- نتائج

الإسقاط و المسافة

نتيجة

ليكن (D) و (Δ) مستقيمين متقاطعين و A ; B ; C نقط مستقيمية حيث $A \neq B$ و (AB) لا يوازي (Δ)

إذا كان A' ; B' ; C' مساقط A ; B ; C بالتوالي على (D) بتواز مع (Δ)

$$\text{فان } \frac{AC}{AB} = \frac{A'C'}{A'B'}$$

ملاحظة يمكن أن يكون $AB \neq A'B'$ نعبّر عن هذا بقولنا الإسقاط لا يحافظ على المسافة

الإسقاط و المحور

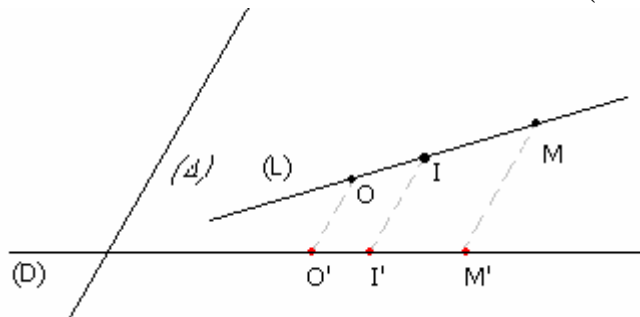
نشاط

ليكن (D) و (Δ) مستقيمين متقاطعين و $L(O;I)$ محور حيث (L) و (Δ) غير متوازيين

و O' و I' مسقطي O و I بالتوالي على (D) بتواز مع (Δ)

x أفصول نقطة M في المحور $L(O;I)$ و M' مسقطها على (D) بتواز مع (Δ)

حدد M' في المحور $\Delta(O';I')$



نتيجة

ليكن (D) و (Δ) مستقيمين متقاطعين و $L(O;I)$ محور حيث (L) و (Δ) غير متوازيين

و O' و I' مسقطي O و I بالتوالي على (D) بتواز مع (Δ) .

M نقطة من (L) و M' مسقطها على (D) بتواز مع (Δ) .

إذا كان x أفصول M في المحور $L(O;I)$ فان x هو أفصول النقطة M' في المحور $\Delta(O';I')$

ر- مبرهنة طاليس العكسية متجهيا

نشاط

ليكن (D) و (Δ) مستقيمين متقاطعين و A ; B ; C نقط من مستقيم (L)

حيث $\overrightarrow{AC} = \lambda\overrightarrow{AB}$ و A' ; B' مسقطي A و B بالتوالي على (D) بتواز مع (Δ)

$$\text{و } \overrightarrow{A'C'} = \lambda\overrightarrow{A'B'}$$

لتكن C_1 مسقط C على (D) بتواز مع (Δ) .

بين أن $C_1 = C'$

المبرهنة العكسية

ليكن (D) و (Δ) مستقيمين متقاطعين و $A ; B ; C$ نقط مستقيمة حيث $A \neq B$
 إذا كان $A' ; B' ; C'$ مسقطي A و B بالتوالي على (D) بتواز مع (Δ) و كان $\overline{AC} = \lambda \overline{AB}$ و
 $\overline{A'C'} = \lambda \overline{A'B'}$ فإن C' مسقط C على (D') بتواز مع (Δ)

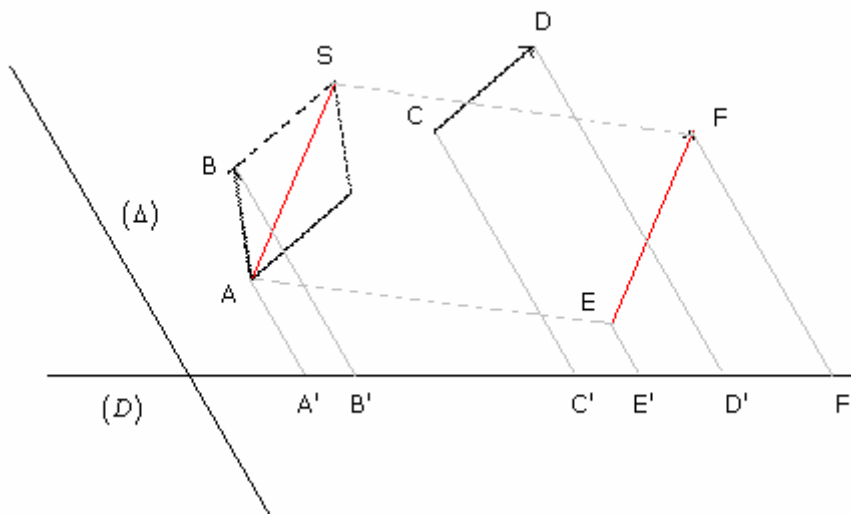
6- الإسقاط و مجموع متجهين نشاط

ليكن (D) و (Δ) مستقيمين متقاطعين

$A ; B ; C ; D ; E ; F$ نقط من المستوى حيث $\overline{AB} + \overline{CD} = \overline{EF}$
 $A' ; B' ; C' ; D' ; E' ; F'$ مساقطها على (D) بتواز مع (Δ)
 لتكن S نقطة حيث $\overline{CD} = \overline{BS}$ و S' مسقطها على (D) بتواز مع (Δ)

1- بين أن $\overline{C'D'} = \overline{B'S'}$ و $\overline{E'F'} = \overline{A'S'}$

2- استنتج أن $\overline{A'B'} + \overline{C'D'} = \overline{E'F'}$



مبرهنة

ليكن (D) و (Δ) مستقيمين متقاطعين و $A ; B ; C ; D ; E ; F$ نقط من
 المستوى و $A' ; B' ; C' ; D' ; E' ; F'$ مساقطها على (D) بتواز مع (Δ)
 إذا كان $\overline{AB} + \overline{CD} = \overline{EF}$ فإن $\overline{A'B'} + \overline{C'D'} = \overline{E'F'}$
7- أفصول المسقط العمودي لنقطة على محور



خاصية

إذا كان H المسقط العمودي لنقطة M على المحور $D(O;I)$ حيث $(OI = 1)$ و α قياس الزاوية
 (\widehat{IOM}) فإن أفصول H هو:

* $OM \cos \alpha$ إذا كان $0 \leq \alpha \leq 90^\circ$

* $-OM \cos(180^\circ - \alpha)$ إذا كان $90^\circ < \alpha \leq 180^\circ$

تمارين

تمرين 1

ليكن $ABCD$ متوازي الأضلاع (\widehat{DAB}) زاوية منفرجة) و E و F نقطتين

$$\overrightarrow{AF} = \frac{2}{3}\overrightarrow{AD} \quad \overrightarrow{AE} = -\frac{1}{3}\overrightarrow{AB} \quad \text{حيث}$$

ليكن K تقاطع (AC) و (EF) . نعتبر B' و D' مسقطا B و D على (AC) بتواز مع (EF)

1- بين أن $[AC]$ و $[B'D']$ لهما نفس المنتصف

$$2- \text{ بين أن } \overrightarrow{AK} = \frac{2}{3}\overrightarrow{AD} \quad \overrightarrow{AK} = -\frac{1}{3}\overrightarrow{AB}$$

3- عبر عن \overrightarrow{AC} بدلالة \overrightarrow{AK}

تمرين 2

ليكن $ABCD$ شبه منحرف قاعدتيه $[AB]$ و $[CD]$ حيث $CD = 2AB$ و I تقاطع قطريه.

نعتبر E مسقط I على (CD) بتواز مع (BC) و F مسقط I على (CD) بتواز مع (AD)

$$1- \text{ بين أن } \overrightarrow{BI} = \frac{1}{3}\overrightarrow{BD} \quad \text{و} \quad \overrightarrow{AI} = \frac{1}{3}\overrightarrow{AC}$$

2- بين أن $\overrightarrow{EC} = \overrightarrow{DF}$ استنتج أن $[CD]$ و $[EF]$ لهما نفس المنتصف

تمرين 3

ليكن ABC مثلثا و M نقطة بحيث $\overrightarrow{AM} = \alpha \cdot \overrightarrow{AB}$ و $\alpha \in \mathbb{R}^* - \{1\}$. نعتبر N مسقط M على

(AC) بتواز مع (BC) و H المسقط العمودي للنقطة A على (BC) .

ليكن I تقاطع (MN) و (AH)

$$1- \text{ بين أن } \overrightarrow{AI} = \alpha \cdot \overrightarrow{AH} \quad \text{و} \quad \overrightarrow{MN} = \alpha \cdot \overrightarrow{BC}$$

2- بين أن $\frac{S}{S'} = \alpha^2$ حيث S و S' مساحتا المثلثين ABC و AMN على التوالي