

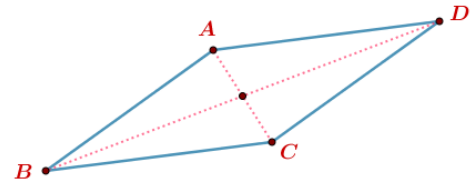
Exercice N°1

ABCD est un parallélogramme : $AB=4$, $AC=7$; $AD=5$.
(la figure n'est pas tracée en varies dimensions)

1) Montrer que $\vec{BC} \cdot \vec{BA} = \frac{1}{2}(BC^2 + BA^2 - AC^2)$.

en déduire $\vec{BC} \cdot \vec{BA}$ et $\vec{AB} \cdot \vec{AD}$.

2) Calculer BD.



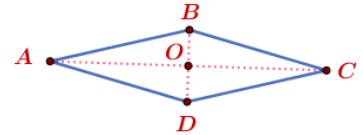
Exercice N°2

ABCD est un losange de centre O tel que : $AC=10$ et $BD=6$.

1) Calculer BA^2 en déduire AD^2 .

2) Calculer $\vec{AB} \cdot \vec{AD}$.

3) P est la projection orthogonale du point D sur (AB) calculer AP.



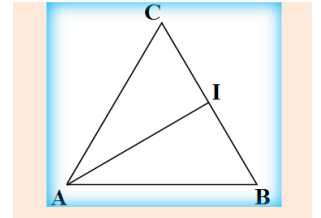
Exercice N°3

ABC est un triangle équilatéral de côté $a=5$ et I le milieu de [BC].

1) Calculer $\vec{BA} \cdot \vec{BC}$ en déduire $\vec{BA} \cdot \vec{BI}$.

2) Calculer $\vec{AB} \cdot \vec{AC}$ en déduire $\vec{AI} \cdot \vec{AB}$ et $\vec{AI} \cdot \vec{AC}$

3) Calculer la distance AI.

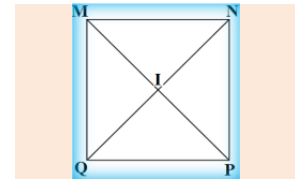


Exercice N°4

MNPQ est un carré de centre I tel que : $MN=5$.

Calculer:

a) NI	b) $\vec{MN} \cdot \vec{QP}$ et $\vec{MN} \cdot \vec{PN}$.	c) $\vec{IN} \cdot \vec{IP}$	d) $\vec{QL} \cdot \vec{NI}$
-------	---	------------------------------	------------------------------



Exercice N°5

ABC est un triangle tel que $AB=1$ et $AC=3$ et $\hat{A} = \frac{\pi}{3}$.

1) Calculer le produit scalaire $\vec{AB} \cdot \vec{AC}$.

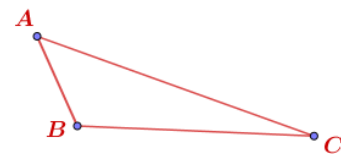
2) Démontrer que $BC = \sqrt{7}$.

3) E et F deux points tels que : $\vec{AE} = 2\vec{AB}$ et $7\vec{CF} = 6\vec{CE}$

a) Démontrer que $\vec{AF} = \frac{12}{7}\vec{AB} + \frac{1}{7}\vec{AC}$

b) Démontrer que $\vec{CE} = 2\vec{AB} - \vec{AC}$

c) Démontrer que $(CE) \perp (AF)$



Exercice N°6

ABC est un triangle tel que $AB=6$ et $AC=5$ et $BC=7$.

1) Calculer le produit scalaire $\vec{AB} \cdot \vec{AC}$ en déduire $\vec{BA} \cdot \vec{BC} = 30$.

2) Démontrer que $\cos \hat{A} = \frac{1}{5}$.

3) Soit H la projection orthogonale de A sur (BC), calculer BH.

