

Nom, Prénom:.....

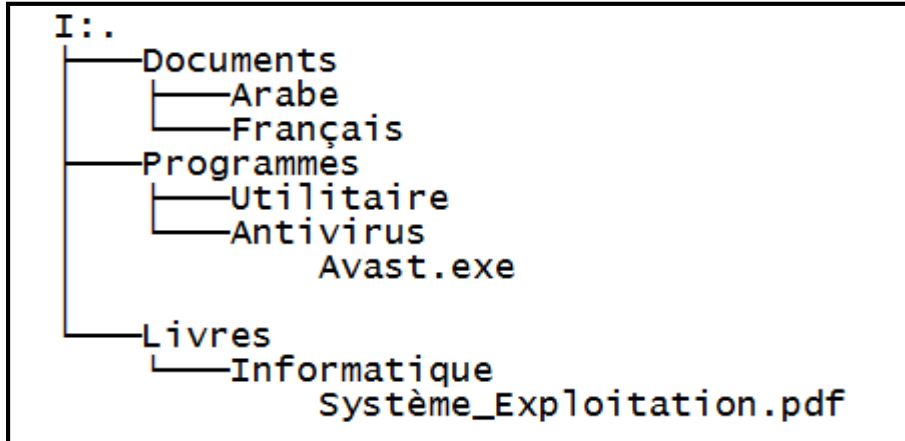
Semestre I
Contrôle n° 2 - Durée 45 Minutes -

Note : /20

Matière : Informatique — Pr: Brahim

Exercice 2 : (9 pts)

Afin d'organiser sa clé usb pour y stocker tous les documents qu'il a produits, un élève de tronc commun adopte la Structure organisationnelle suivante visualisée sous DOS :



I. Comment appelle-t-on cette structure ? (1Pts)

.....

II. Quel est le dossier parent du dossier **Informatique** ? (1Pts)

.....

III. Quel est le contenu du dossier **Programmes** ? (2Pts)

.....

IV. Quel est le contenu du dossier **Antivirus**? (1Pts)

.....

V. Donner le chemin d'accès au dossier **Français**? (1,5Pts)

.....

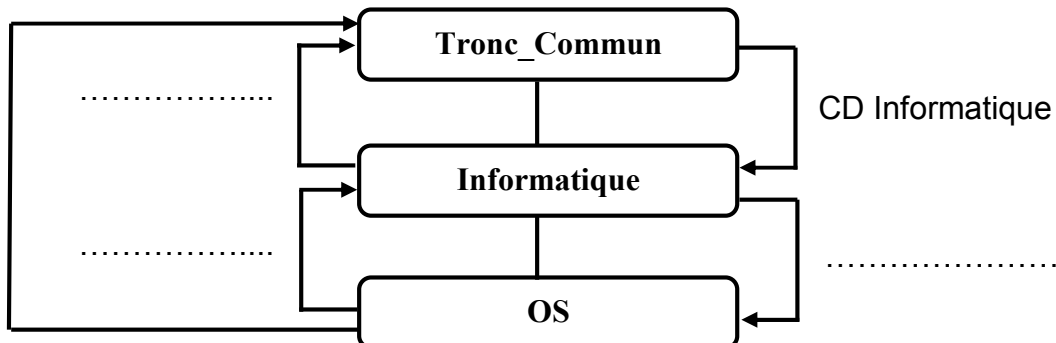
VI. Donner le chemin d'accès au fichier **Avast.exe**? (1,5Pts)

.....

VII. Quelle est la racine de cette structure organisationnelle ? (1Pts)

.....

Exercice 2 : (4pts) : Complétez le schéma suivant :



Exercice 3 : (3pts)

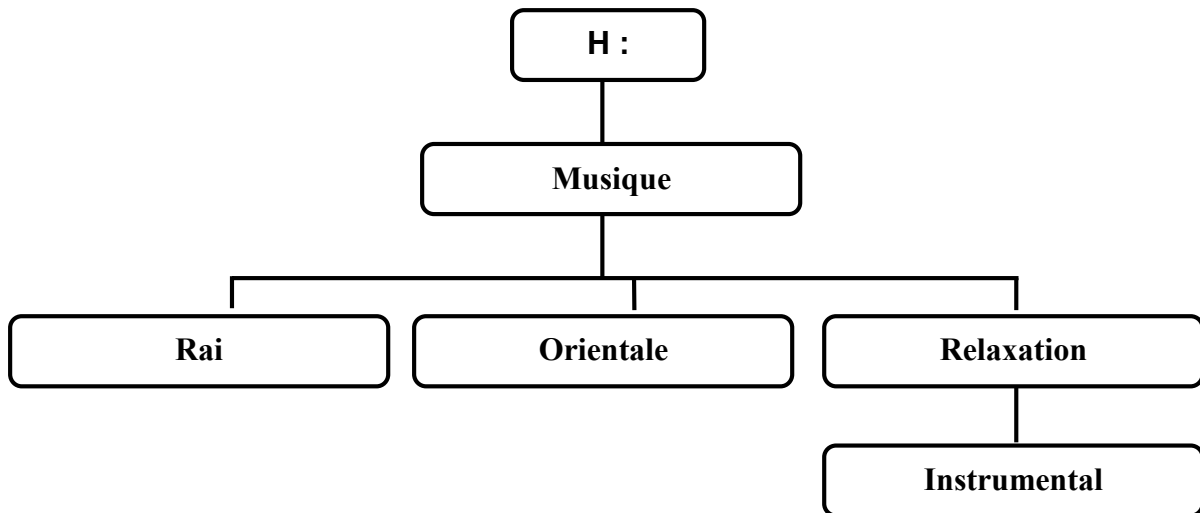
Corrigez les commandes erronées :

```
>H
>mdArabe
>dir /E
>cd Arabe.txt
>tree /S
>Edit Lettre.txt
>Ren Lettre Article.txt
```

```
>.....
>.....
>.....
>.....
>.....
>.....
>.....
>.....
```

Exercice 4 : (4pts)

Soit la structure organisationnelle suivante :



Donner les commandes **dos** qui permettent de créer les la structure organisationnelle ci-dessus :

```
.....
.....
.....
.....
.....
.....
.....
.....
```