

بسم الله الرحمن الرحيم

الموسم الدراسي 2010/2009

المادة: التاريخ والجغرافيا.

إعداد: الأستاذ محمد بلماحي

الثانوية التأهيلية طه حسين

الفرض الكتابي رقم 1

مادة التاريخ

اجب عن احد الموضوعين 9

الموضوع الأول

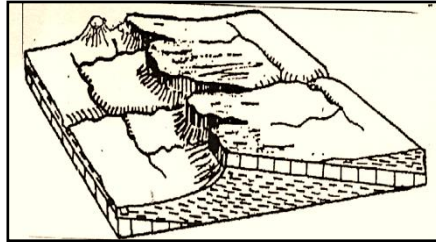
شهد القرن 16 بأوروبا الغربية ظهور الإصلاح الديني . في هذا الإطار اكتب مقالا تاريخيا توضح فيه الأسباب التي كانت وراء ذلك والنتائج التي خلفها.

الموضوع الثاني.

ساهمت الحركة الإنسية في ظهور الفكر الحداثي بأوروبا. وضح ذلك.

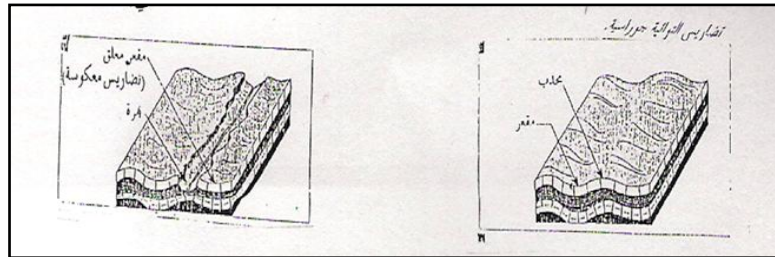
مادة الجغرافيا

1 - حدد نوع الشكل التضاريسي وخصائصه البنيوية والمجاري المائية التي يتضمنها انطلاقا من الشكل أسفله. 2ن



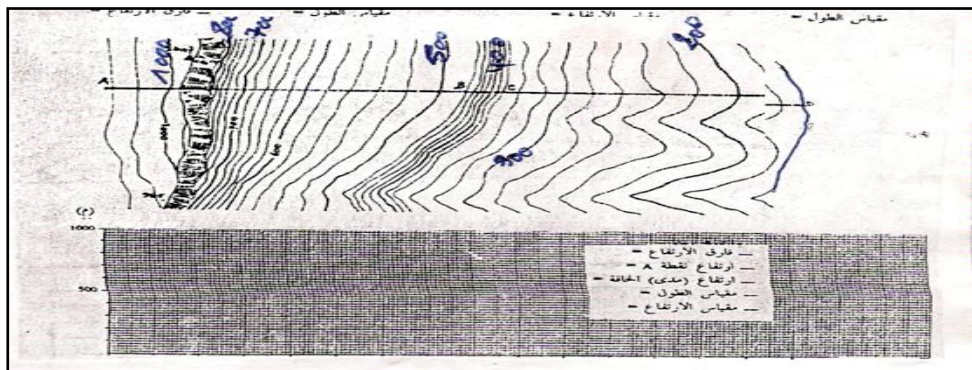
2ن

2 - حدد الفرق بين التضاريس المعكوسة والجوراسية انطلاقا من الشكل التالي.



3ن

3 - اتم رسم المقطع الطبوغرافي وحدد الهدف منه



4ن

4- حدد موضع وموقع مدينة تاوانات.

4ن

5- حدد الفرق بين الإحداثيات الجغرافية والإحداثيات الكارطوغرافية.

4ن

6- حدد خطوات التوطن الجغرافي.