

خاص بكتابة الامتحان		الامتحان الوطني الموحد للبكالوريا الدورة الاستدراكية 2020		المملكة المغربية وزارة التربية الوطنية والتكوين المهني والتعليم العالي والبحث العلمي المركز الوطني للتقويم والامتحانات	
TTTTTTTTTTTTTTTTTTTT		***I	الموضوع -	RS 53	
رقم الامتحان:		الإسم الشخصي والعائلي:			
		تاريخ ومكان الأحياد:			
3	المعامل	2	مدة الإنجاز	المادة الشعبة والمسلك الاقتصاد العام والإحصاء شعبة العلوم الاقتصادية والتدبير : مسلك علوم التدبير المحاسباتي	

خاص بكتابة الامتحان		النقطة النهائية على 20: بالأرقام والحروف		المدة: الاقتصاد العام والإحصاء الشعبة والمسلك: شعبة العلوم الاقتصادية والتدبير : مسلك علوم التدبير المحاسباتي	
		(على المصحح التأكد من أن النقطة النهائية على 20)		ورقة الإجابة	
الصفحة: 1 على 9		اسم المصحح وتوقيعه:		RS 53	

DOSSIER I : MARCHES ET DYSFONCTIONNEMENTS

DOCUMENT 1 : Les biscuitiers au four et au moulin

Bien que le marché de la biscuiterie au Maroc compte une trentaine d'opérateurs, il demeure dominé par deux : Mondelez et Best Biscuits Maroc avec respectivement 33% et 29% de parts de marché. Un marché fortement concurrentiel, mais qui a toujours un potentiel de croissance important comparativement à d'autres pays. La consommation moyenne du marocain en biscuits ne dépasse pas les 3 kg par an, alors qu'elle s'élève à 8,5 kg en France.

Le projet de loi de finances 2020 a prévu une diminution des droits d'importation sur des intrants (matières premières) de biscuits (amandes, noisettes ...) de 40% à 2,5%, mais que les députés ont refusé sous prétexte de défendre les petites entreprises et coopératives pour lesquelles ces produits représentent une part importante du chiffre d'affaires.

Sources : www.economie-entreprises.com (mai 2019) et www.aujourd'hui.ma au 03/12/2019 (Texte adapté)

DOCUMENT 2 : Maroc, l'inflation à son plus bas niveau en 2019

Pour le Haut-Commissariat au plan, **l'inflation a connu une forte décélération** en 2019 pour terminer l'année avec une moyenne de 0,2% contre 1,9% en 2018. Cela s'explique par le mouvement de repli des prix des produits alimentaires et la décélération des prix des produits énergétiques, après une année 2018 marquée par une inflation énergétique relativement élevée.

Sa composante sous-jacente, a atteint **0,6%** en 2019 et augmenterait à 1,3% en 2020, et ce sous l'effet de l'amélioration prévue de la demande intérieure.

Source : www.leconomiste.com au 22/01/2020 (Texte adapté)

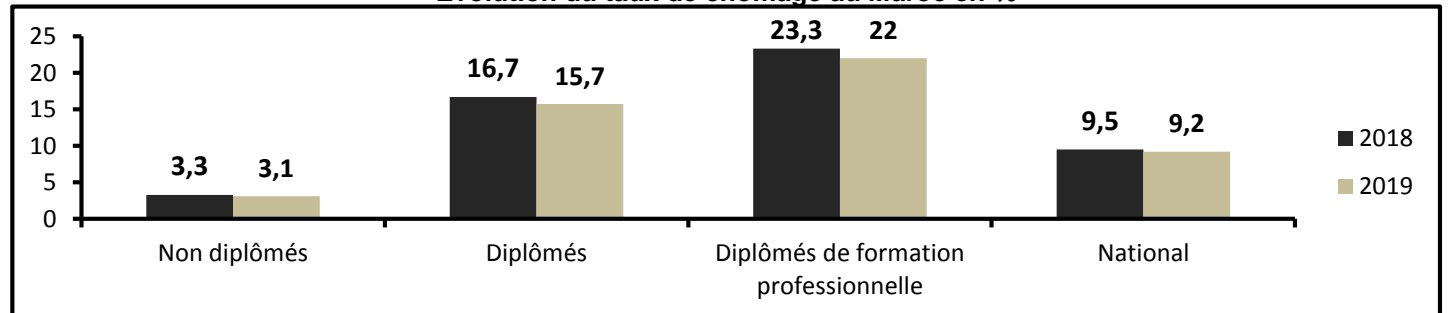
DOCUMENT 3 : Maroc, légère détente du chômage en 2019

Après avoir atteint 1 137 000 personnes en 2018, le nombre de chômeurs a diminué de 30 000 personnes en 2019. Le taux de chômage a légèrement baissé, mais continue de toucher fortement les jeunes urbains et les diplômés.

Les taux de chômage les plus élevés sont relevés, en particulier, parmi les jeunes âgés de 15 à 24 ans avec 24,9% contre 7% parmi les personnes âgées de 25 ans et plus.

En milieu urbain, le taux de chômage des jeunes de 15-24 ans a légèrement baissé, passant de 41,8% à **39,2%**, alors que **le taux de chômage croît avec le niveau de qualification.**

Evolution du taux de chômage au Maroc en %



Sources : www.medias24.com au 06/02/2020 et www.hcp.ma (Texte adapté)

لا يكتب أي شيء في هذا الإطار



الصفحة : 2 على 9

RS 53

الامتحان الوطني الموحد للبكالوريا - الدورة الاستدراكية 2020 - الموضوع
مادة: الاقتصاد العام والإحصاء - شعبة العلوم الاقتصادية والتدبير : مسلك علوم التدبير
المحاسباتي

TRAVAIL A FAIRE :

(11,25 points)

Document de référence	N°	Questions	Barème
ANNEXE 1	1	Complétez l'ANNEXE n°1, page 4.	1,5 pt
Document 1	2	Complétez l'ANNEXE n°2, page 5.	2,25 pts
Document 2	3	Complétez l'ANNEXE n°3, page 5.	2 pts
Document 3	4	Complétez l'ANNEXE n°4, pages 5 et 6.	3 pts
ANNEXE 5	5	Complétez l'ANNEXE n°5, page 6.	2,5 pts

DOSSIER II : AGREGATS DE LA COMPTABILITE NATIONALE ET POLITIQUES CONJONCTURELLES

DOCUMENT 4 : Maroc, inquiétante flambée du cash

Le rythme élevé de la croissance de la circulation fiduciaire a accentué le besoin en liquidité des banques. Tout ce cash (liquide) en circulation, c'est autant d'argent en moins dans les dépôts bancaires, réduisant ainsi la capacité des banques à transformer ces dépôts en créances sur l'économie.

Dans ce sens, Bank Al-Maghrib, présentant que la situation pourrait se poursuivre même en 2020, a eu recours à une opération de swap de change et a décidé de ramener le taux de la réserve monétaire de 4% à 2%, injectant ainsi dans le circuit bancaire 11 milliards de DH supplémentaires.

La baisse de 2 points de la réserve monétaire devrait, en principe, stimuler la distribution du crédit et peut-être la croissance.

Sources : www.fnh.ma au 01/10/2019 et www.bkam.ma (Texte adapté)

DOCUMENT 5 : Maroc, budget 2020

Pour faire face à la dégradation financière des comptes publics, la loi de finances (LF) 2020 a prévu une combinaison de réductions des dépenses publiques et d'accroissements des recettes fiscales.

Dans ce sens, elle prévoit une dotation globale de 13,6 milliards de DH (MMDH) au titre de la compensation du gaz butane, du sucre et de la farine de blé tendre. Cette dotation est en baisse par rapport à celle de 2019 qui était de 17,6 MMDH.

Avec une enveloppe budgétaire de 78,2 MMDH prévue pour les dépenses d'investissement, le SBG HEA (*) serait déficitaire en 2020 de 71,7 MMDH.

Pour combler ce déficit, le gouvernement prévoit de recourir à de nouveaux emprunts d'un montant de 97,2 MMDH dont 29 MMDH seront consacrés au paiement des intérêts et des commissions découlant de sa dette.

Le budget 2020 vise ainsi un allègement du déficit budgétaire au détriment de l'accélération de la croissance et la protection du pouvoir d'achat.

(*) Solde du budget général (hors recettes d'emprunt et hors amortissement de la dette publique à moyen et long termes)

Sources : www.barlamane.com au 01/12/2019 et www.ecoactu.ma au 23/12/2019 (Texte adapté)

لا يكتب أي شيء في هذا الإطار

الصفحة : 3 على 9

RS 53

الامتحان الوطني الموحد للبكالوريا - الدورة الاستدراكية 2020 - الموضوع
مادة: الاقتصاد العام والإحصاء - شعبة العلوم الاقتصادية والتدبير : مسلك علوم التدبير
المحاسباتي

DOCUMENT 6 : Maroc, une croissance économique faible en 2019

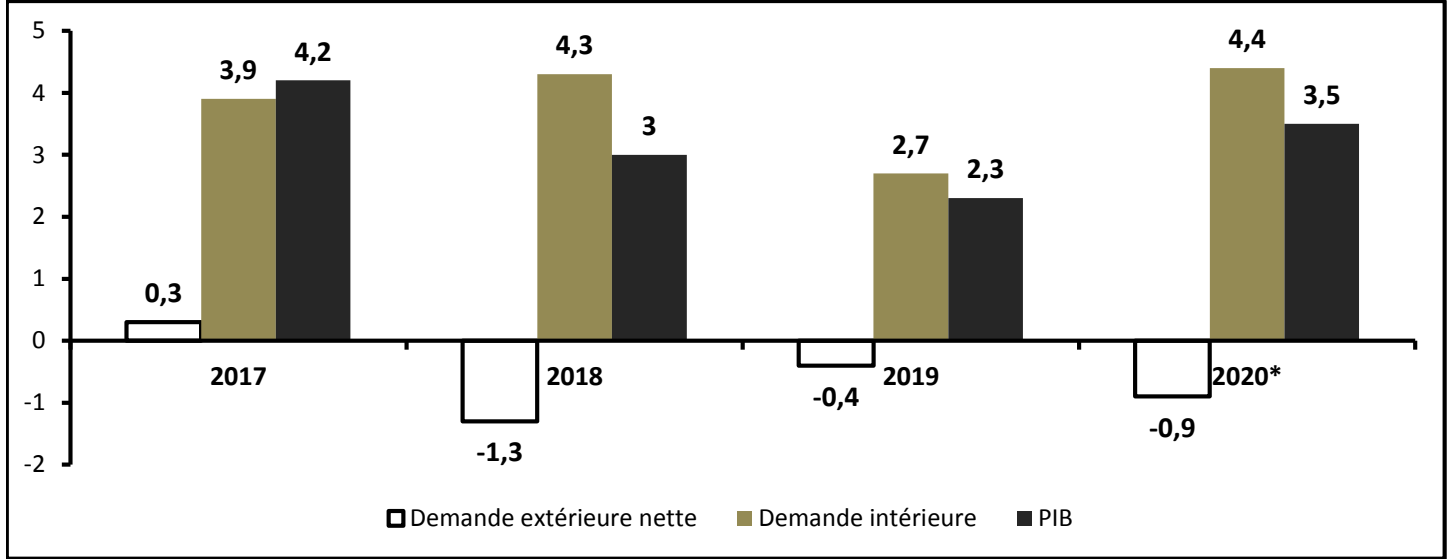
Sans surprise, la croissance économique en 2019 s'est établie à **2,3%** au lieu de 3% en 2018. **Une croissance économique portée par la demande intérieure et affaiblie par la demande extérieure nette.**

Données de la comptabilité nationale marocaine aux prix courants (en milliards de DH)

Eléments	2019 (*)
Produit intérieur brut (PIB)	1 144,8
Dépenses de consommation finale (DCF)	880,3
Demande extérieure nette (DEN)	-108,3
Revenus et transferts nets en provenance de l'étranger (RTNE)	53,7

(*) Estimations

Evolution de la contribution (en points de %) de la demande extérieure nette et intérieure au PIB



Sources : www.lavieeco.com au 17/01/2020 et budget économique prévisionnel 2020 (Texte adapté)

TRAVAIL A FAIRE :

(8,25 points)

Document de référence	N°	Questions	Barème
Annexe	5	Complétez l'ANNEXE n°6, page 7.	2 pts
Document 4	6	Complétez l'ANNEXE n°7, page 8.	1,5 pt
Document 5	7	Complétez l'ANNEXE n°8, page 8.	1,5 pt
Document 6	8	Complétez l'ANNEXE n°9, page 9.	3,25 pts

لا يكتب أي شيء في هذا الإطار



الصفحة : 4 على 9

RS 53

الامتحان الوطني الموحد للبكالوريا - الدورة الاستدراكية 2020 - الموضوع
مادة: الاقتصاد العام والإحصاء - شعبة العلوم الاقتصادية والتدبير : مسلك علوم التدبير
المحاسباتي

ANNEXES A COMPLETER ET A RENDRE OBLIGATOIREMENT AVEC LA COPIE


DOSSIER I : MARCHES ET DYSFONCTIONNEMENTS

ANNEXE N°1 : Répondez par vrai ou faux en mettant une croix, justifiez.

(1,5 pt)

Propositions	Vrai	Faux	Justification
Le circuit économique fermé retrace les flux économiques entre les ménages, les administrations, les sociétés non financières et celles financières.			
Le taux d'épargne mesure la part du revenu national brut disponible consacrée à l'épargne.			
La dépréciation de la monnaie nationale peut favoriser l'entrée des devises pour le pays.			
Le taux de croissance économique correspond à la variation relative annuelle du PIB aux prix constants, multipliée par 100.			
Les créances sur l'économie sont une composante de la masse monétaire.			
L'homogénéité des produits désigne la libre entrée et sortie sur un marché de concurrence pure et parfaite (CPP).			

لا يكتب أي شيء في هذا الإطار

		
RS 53	الصفحة : 5 على 9	الامتحان الوطني الموحد للبكالوريا - الدورة الاستدراكية 2020 - الموضوع مادة: الاقتصاد العام والإحصاء - شعبة العلوم الاقتصادية والتدبير : مسلك علوم التدبير المحاسباتي

ANNEXE N°2 : (Référence : Document n°1)

(2,25 pts)

a- Caractérissez le marché de la biscuiterie au Maroc (une caractéristique par composante) ;		(1 pt)
Offre	Demande	
b- Identifiez, en justifiant, le régime du marché marocain de la biscuiterie ;		(0,75 pt)
Régime	Justification	
c- Montrez un effet attendu de la mesure douanière proposée dans le projet de loi de finances 2020 sur la compétitivité des entreprises marocaines de la biscuiterie.		(0,5 pt)

ANNEXE N°3 : (Référence : Document n°2)

(2 pts)

a- Lisez la donnée en gras encadrée ;	(0, 5 pt)
0,6% :	
b- Nommez l'expression en gras soulignée ;	(0,5 pt)
c- Expliquez l'évolution du niveau d'inflation en 2019.	(1 pt)

ANNEXE N°4 : (Référence : Document n°3)

(3pts)

a- Lisez la donnée en gras soulignée ;	(0,5 pt)
39,2% :	
b- Relevez en illustrant deux caractéristiques du chômage au Maroc en 2019 ;	(1 pt)
Caractéristiques	Illustration

لا يكتب أي شيء في هذا الإطار



الصفحة : 6 على 9

RS 53

الامتحان الوطني الموحد للبكالوريا - الدورة الاستدراكية 2020 - الموضوع
مادة: الاقتصاد العام والإحصاء - شعبة العلوم الاقتصادية والتدبير : مسلك علوم التدبير
المحاسباتي

c- Calculez la population active au Maroc en 2019 ;

(0,75 pt)

Formule	Application numérique	Résultat

d- Illustrez le passage en gras souligné.

(0,75 pt)

ANNEXE N°5 : (Complétez l'annexe)

(2,5pts)

Soit l'évolution des prix et des quantités de trois produits exportés par le Maroc

(Données élaborées à partir du Rapport de Bank Al-Maghrib en 2018)

	Valeurs en millions de DH			
	Q ₁₇ x P ₁₇	Q ₁₇ x P ₁₈	Q ₁₈ x P ₁₇	Q ₁₈ x P ₁₈
Total	175 918,34	190 010,35	183 975,62	198 333,53

a- Calculez l'indice de Paashe des quantités en 2018 base 100 en 2017 ;

(1,5pt)

Formule	Application numérique	Résultat

b- Lisez le résultat obtenu.

(1pt)

لا يكتب أي شيء في هذا الإطار



الصفحة : 7 على 9

RS 53

الامتحان الوطني الموحد للبكالوريا - الدورة الاستدراكية 2020 - الموضوع
مادة: الاقتصاد العام والإحصاء - شعبة العلوم الاقتصادية والتدبير : مسلك علوم التدبير
المحاسباتي

DOSSIER II : AGREGATS DE LA COMPTABILITE NATIONALE ET POLITIQUES CONJONCTURELLES

ANNEXE N° 6 : Mettez une croix dans la case appropiée

(2 pts)

1- La condition de l'atomicité du marché de concurrence pure et parfaite signifie que :

- Le nombre d'offreurs est supérieur au nombre de demandeurs ;
- Le nombre d'offreurs est inférieur au nombre de demandeurs ;
- Le nombre d'offreurs et demandeurs est si nombreux et petits relativement à la taille du marché qu'une décision individuelle de leur part est sans effets sur le reste ;
- Le nombre d'offreurs égal au nombre de demandeurs.

2- Le MADEX est un indice composé des valeurs :

- Les plus actives de type action cotées à la bourse de Casablanca ;
- Les moins actives de type action cotées à la bourse de Casablanca ;
- Les plus actives de type obligation cotées à la bourse de Casablanca ;
- Les moins actives de type obligation cotées à la bourse de Casablanca.

3- Le taux de chômage de la population urbaine exprime :

- La part des chômeurs urbains dans la population active totale ;
- La part des chômeurs urbains dans la population active urbaine ;
- La part des chômeurs urbains dans la population active inoccupée ;
- La part des chômeurs urbains dans la population totale urbaine.

4- La demande intérieure est exprimée par :

- DCF + FBC + variation des stocks;
- DCF + FBC;
- DCF + FBCF - variation des stocks + importations des biens et services ;
- DCF + FBC + variation des stocks + exportations des biens et services.

5- L'indice de Laspeyres prix exprime :

- L'évolution des prix de l'année courante pondérés par les quantités de l'année de base ;
- L'évolution des prix de l'année courante pondérés par les quantités de l'année courante ;
- L'évolution des quantités de l'année courante pondérées par les prix de l'année de base ;
- L'évolution des quantités de l'année courante pondérées par les prix de l'année courante.

6- L'oligopole désigne une forme de marché caractérisée par :

- Un petit nombre d'offreurs face à un seul demandeur ;
- Un grand nombre d'offreurs face à un nombre réduit de demandeurs ;
- Un petit nombre d'offreurs face à une multitude de demandeurs ;
- Un petit nombre d'offreurs face à un nombre réduit de demandeurs.

7- Le chômage frictionnel est lié :

- Aux délais nécessaires à une personne pour trouver un autre emploi.
- Aux structures économiques d'un pays ;
- Aux progrès techniques ;
- Au ralentissement temporaire de l'activité économique.

8- Les billets de trésorerie sont des titres de créances négociables émis par :

- Les banques ;
- L'Etat ;
- Les sociétés non financières ;
- Les ISBL.

لا يكتب أي شيء في هذا الإطار



الصفحة : 8 على 9

RS 53

الامتحان الوطني الموحد للبكالوريا - الدورة الاستدراكية 2020 - الموضوع
مادة: الاقتصاد العام والإحصاء - شعبة العلوم الاقتصادية والتدبير : مسلك علوم التدبير
المحاسباتي

ANNEXE N°7 : (Référence : Document n°4)

(1,5 pt)

a- Relevez :

(1 pt)

Une composante de la masse monétaire	Une contrepartie de la masse monétaire	Une action de politique monétaire sur la liquidité bancaire	Un objectif final de la politique monétaire

b- Expliquez le passage en gras souligné ;

(0,5 pt)

--

ANNEXE N°8 : (Référence : Document n°5)

(1,5 pt)

a- Relevez :

(0,5 pt)

Deux actions budgétaires	Un passage faisant allusion à l'effet boule de neige

b- Calculez et lisez :

(1pt)

Elément	Formule	Application numérique	Résultat	Lecture
Indice d'évolution des dépenses de compensation (DC) en 2020 base 100 en 2019				
Solde ordinaire (SO) prévu en 2020				

لا يكتب أي شيء في هذا الإطار



الصفحة : 9 على 9

RS 53

الامتحان الوطني الموحد للبكالوريا - الدورة الاستدراكية 2020 - الموضوع
مادة: الاقتصاد العام والإحصاء - شعبة العلوم الاقتصادية والتدبير : مسلك علوم التدبير
المحاسباتي

ANNEXE n°9 : (Référence : Document n°6)

(3,25 pts)

a- Lisez la valeur en gras encadrée ;

(0,5 pt)

2,3% :

b- Illustrez le passage en gras souligné ;

(0,75 pt)

c- Calculez et lisez pour 2019 :

(2 pts)

Élément	Formule	Application numérique	Résultat	Lecture
Formation brute du capital (FBC)				
Epargne nationale brute (ENB)				

0,5 pt est consacré à la présentation soignée de la copie