

الامتحان الوطني الموحد
للبيكالوريا
الدورة العادية 2014

NS 53

ⵜⴰⴳⴷⴰⵏⵜ ⵏ ⵎⴰⴷⵓⵏ
ⵜⴰⵎⴳⴷⴰⵏⵜ ⵏ ⵔⵉⵔⵉⵏⵜ ⵏ ⵎⴰⴷⵓⵏ
ⵏ ⵔⵉⵔⵉⵏⵜ ⵏ ⵎⴰⴷⵓⵏ



المملكة المغربية
وزارة التربية الوطنية
والتكوين المهني

المركز الوطني للتقويم والامتحانات والتوجيه

2	مدة الإنجاز	الاقتصاد العام والإحصاء	المادة
3	المعامل	شعبة علوم الاقتصاد والتدبير : مسلك علوم التدبير المحاسباتي	الشعبة أو المسلك

L'utilisation de la machine à calculer non programmable est autorisée
Pour les calculs, reprenez deux chiffres après la virgule, sauf mention contraire
La page 5 est à rendre obligatoirement avec la copie
Évitez les ratures et les surcharges, mentionnez le numéro du dossier puis celui de la question
0,5 point de la note sur 20 est réservé à la présentation de la copie

DOSSIER 1 : MARCHES, DYSFONCTIONNEMENTS ET OUVERTURE ECONOMIQUE

DOCUMENT 1 Secteur du ciment au Maroc : y a - t - il entente sur les prix ?

La consommation nationale baisse drastiquement en octobre. Parallèlement, les prix s'inscrivent à la hausse.

La consommation nationale de ciments a atteint 12,3 millions de tonnes au titre des dix premiers mois de l'année 2013, soit une baisse de 9,13% par rapport à la même période de l'année précédente.

En principe, la baisse des volumes vendus et l'entrée de nouvelles capacités de production de la société « ciments de l'Atlas » devraient avoir une incidence sur le chiffre d'affaires et les marges des autres cimenteries, à savoir Holcim, Lafarge et Ciments du Maroc.

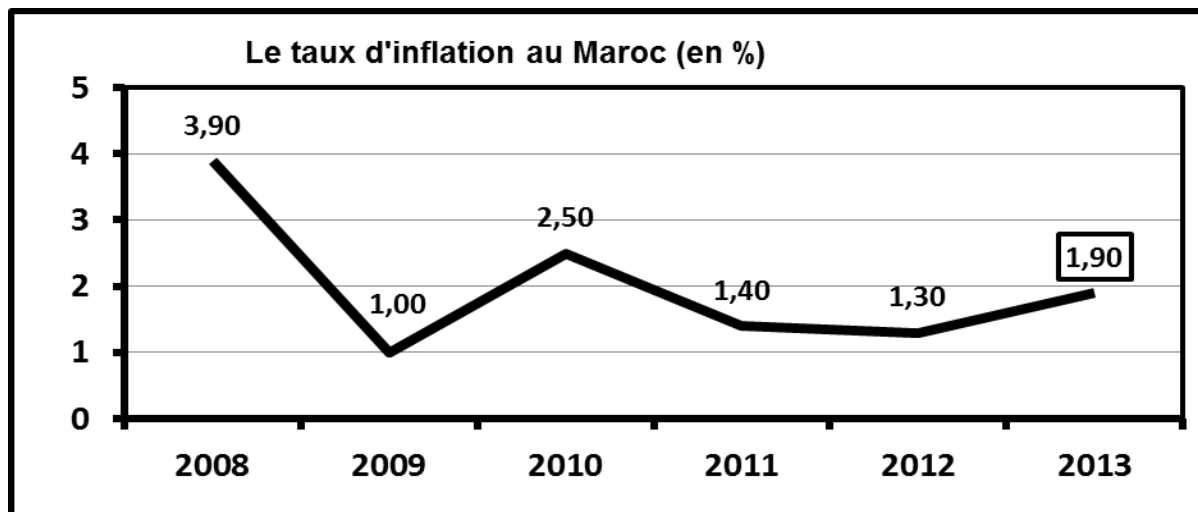
Or, on constate que le chiffre d'affaires de Ciments du Maroc n'a baissé que de 0,5%, alors que celui de Lafarge s'est replié de seulement 1,1%. Cette évolution se traduit par un effet prix positif, c'est-à-dire une baisse des volumes accompagnée par une hausse des prix de vente. En effet, la faible baisse du chiffre d'affaires de Lafarge résulte de la diminution de 7,9% des volumes conjuguée à une hausse de 6,8% du prix de vente...

Selon un analyste, la hausse des prix de vente peut s'expliquer par une entente sur les prix par les différents cimentiers (nombre très réduit d'entreprises). Les acteurs ont peut-être décidé de revoir les prix à la hausse leur permettant de garder leurs marges à des niveaux confortables.

Source : Finances News Hebdo du 21.11.2013 (texte adapté)

DOCUMENT 2 : L'inflation contenue à 1,9% en 2013

L'Indice des prix à la consommation (IPC) a fini l'année 2013 sur une hausse de 1,9%. En comparaison avec l'exercice 2012, l'évolution des prix de détail à la consommation est tirée par l'accroissement des prix des produits alimentaires, qui ont pris 2,4%, et ceux des produits non- alimentaires, en hausse de 1,5%.



Source : L'Economiste du 22/01/2014.

DOCUMENT 3 : Le chômage en hausse au Maroc

Avec 11 900 000 personnes, au deuxième trimestre de l'année 2013, la population active âgée de 15 ans et plus a connu un accroissement de 2,1% par rapport au même trimestre de l'année 2012.

Le volume du chômage au niveau national s'élève à 949 000 chômeurs au deuxième trimestre de l'année 2012. Ce volume a augmenté de 100 000 personnes durant la même période de l'année 2013.

En conséquence, le taux de chômage est passé, entre les deux périodes, de 8,1% à ?.... au niveau national, de 12,3% à 13,8% en milieu urbain et de 3,5% à 3,2% en milieu rural. A noter que les taux de chômage les plus élevés sont enregistrés chez les diplômés **15,8%** et chez les jeunes âgés de 15 à 24 ans (18,4%).

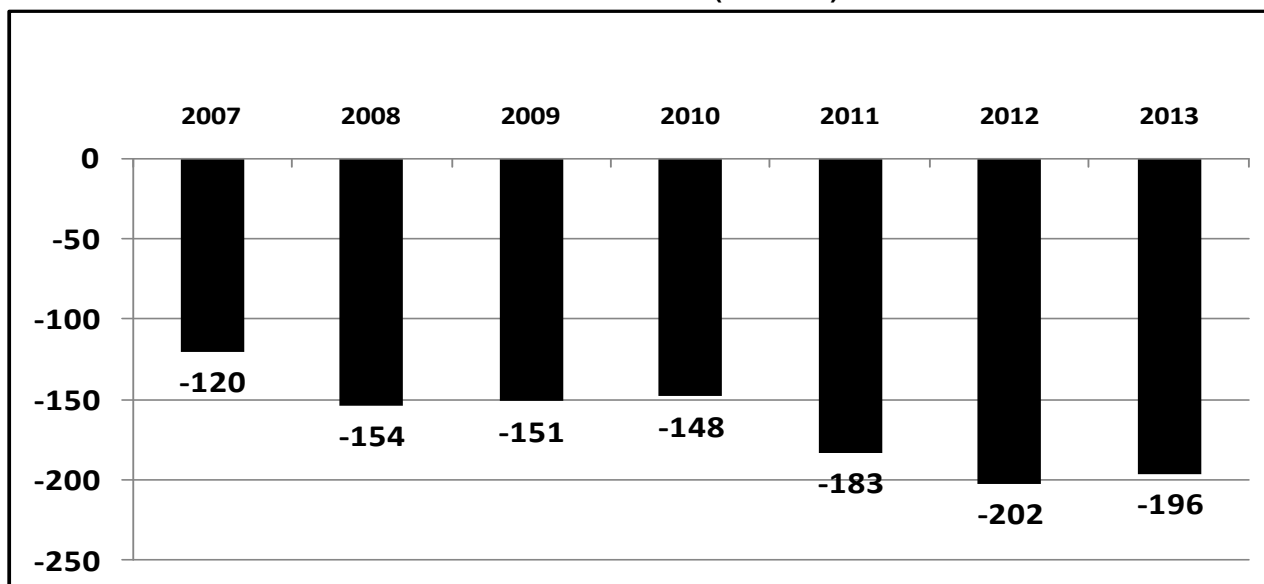
Source : www.hcp.ma (Activité, Emploi et Chômage : Deuxième trimestre 2013) (Texte adapté)

DOCUMENT 4 : Maroc : allègement du déficit commercial

Bonne nouvelle pour le Maroc qui voit son déficit commercial reculer en 2013 par rapport à 2012 : Les importations ainsi que les exportations ont marqué le pas. Les premières ont baissé de 2,7% alors que les secondes n'ont reculé que de 1,2%.

L'allègement du déficit commercial est dû à la baisse de la facture énergétique, au recul des importations concernant certains produits alimentaires et à la hausse des exportations dans le secteur de l'automobile et de l'aéronautique.

Solde de la balance commerciale marocaine (de biens) en milliards de dirhams



Sources : L'Economiste Maghrébin du 21/06/2013 et Office Des Changes (indicateurs des échanges extérieurs)

DOSSIER N°1

9,75 pts

QUESTIONS

BAREME

N°	QUESTIONS	BAREME
1	En vous basant sur le document 1 : a- Identifiez le type de marché selon l'objet . b- Caractérissez : b1- la demande de ciments au Maroc ; (Une caractéristique) b2- L'offre de ciment au Maroc. (Une caractéristique) c- Liez cette hausse anormale des prix du ciment au régime de marché.	0,5 pt 0,5 pt 0,75 pt 0,75 pt
2	A partir du document 2 : a- Lisez la donnée encadrée du graphe. b- Illustrez à partir du graphe la notion de désinflation entre 2011 et 2013. c- Calculez l'IPC en 2013 sachant que l'IPC pour l'année 2012 est de 110,8. (Retenez un chiffre après la virgule). d- Déterminez l'équation de la droite d'ajustement linéaire $y = ax + b$, selon la méthode des moindres carrés (Méthode développée), sachant que : x_i = les années ; y_i = taux d'inflation en % ; $\sum x_i y_i = 36,9$; $\sum x_i^2 = 91$; $\bar{x} = 3,5$ (Retenez deux chiffres après la virgule). e- Interprétez l'évolution du taux d'inflation sur la base de l'équation de la droite d'ajustement.	0,25pt 0,50pt 0,75pt 1,50 pt 0,50pt

الصفحة 3 5	NS 53	الامتحان الوطني الموحد للبكالوريا - الدورة العادية 2014 - الموضوع - مادة : الاقتصاد العاوم والإحصاء - شعبة علوم الاقتصاد والتدبير : ممالك علوم التدبير المحاسباتي
3	Sur la base du document 3 : a- Calculez le taux de chômage manquant dans le texte. (Retenez un chiffre après la virgule). b- Lisez la donnée en gras encadrée. c- Relevez trois caractéristiques du chômage au Maroc.	0,75 pt 0,50 pt 0,75 pt
4	En vous référant au document 4 : a- Calculez, à partir du graphe, le taux de variation qui illustre le passage souligné du texte. b- Interprétez l'évolution du solde commercial marocain entre 2007 et 2013. c- Expliquez le recul du déficit commercial en 2013.	0,75 pt 0,50 pt 0,50 pt

DOSSIER 2 : POLITIQUES ECONOMIQUES CONJONCTURELLES ET CROISSANCE ECONOMIQUE

DOCUMENT 5 : Agrégats de la comptabilité nationale au Maroc en millions de DH courants

Eléments	2011	2012
Produit Intérieur Brut (PIB)	802 607	...?...
Valeur ajoutée agricole au prix de base	106 342	102 572
Valeur ajoutée hors agriculture au prix de base	636 077	665 830
Impôts sur les produits nets des subventions	...?...	59 767

Source : www.hcp.ma (Les comptes nationaux)

DOCUMENT 6 : Loi des finances 2014 : place à la rigueur...

A l'exception de la masse salariale, toutes les autres dépenses du budget général de l'Etat sont soit en baisse, soit en stagnation. Malgré la suppression de certaines exonérations ou la hausse des taux de TVA de certains produits, les recettes reculeraient par rapport à 2013.

... Une chose paraît néanmoins évidente: dans un contexte de rupture des équilibres macroéconomiques, il était difficile de poursuivre les politiques de relance suivies jusque-là.

Sources : La Vie Économique du 28/10 et du 02/12 /2013

Quelques indicateurs économiques du Maroc

Indicateurs économiques	Loi des finances 2013	Loi des finances 2014	Taux de variation en %
Masse salariale (en milliards de dh)	98	104	6,12
Charges de compensation (en milliards de dh)	49,3	41,65	-15,52
Dépenses d'investissement (en milliards de dh)	58,90	49,5	-15,96
Nombre d'emplois publics à créer (en nombre d'actifs)	24 000	18 000	-25
Déficit budgétaire prévu en % du PIB	5,5%	4,9%	
Taux de croissance économique prévu (en%)	4,8%	4,2%	

Sources : L'Economiste du 21/10/2013 et Note de Présentation de la loi des finances 2014

DOCUMENT 7 : Politique monétaire : Que peut faire Bank Al-Maghrib face à la crise ?

A travers ses choix de politique budgétaire prévus pour 2014, l'Etat renonce à lutter à court terme contre le ralentissement de l'économie marocaine et contre la dégradation des indicateurs sociaux. Bank Al-Maghrib (BAM) représente une alternative à la politique attentiste du gouvernement.

En effet, à l'instar de la BCE (la banque centrale européenne), une politique monétaire plus dynamique et plus interventionniste de BAM peut aider les entreprises et les ménages à passer le cap difficile de la rigueur.

... En réponse au blocage des marchés monétaires et à la récession quasi- mondiale, certaines banques centrales ont baissé massivement leurs taux directeurs, parfois jusqu'à zéro. La FED (banque centrale américaine) a, ainsi, maintenu son taux directeur entre 0 et 0,25%, de peur de freiner l'économie. La BCE a également suivi les pas de son homologue américain et a baissé son taux directeur pour le fixer à 1%. La conséquence en est que le coût de l'argent au niveau du marché interbancaire est bas.

A l'instar de la BCE et la FED, la banque centrale marocaine doit revoir rapidement à la baisse son principal taux directeur, qui demeure fixé à un niveau relativement élevé, pour stimuler la croissance au lieu de viser seulement la stabilité des prix (taux directeur de 3% depuis mars 2012). Une diminution importante du taux directeur est de nature à baisser les taux d'intérêt à long terme et à donner un coup de fouet aux investissements et partant relancer la machine économique.

Tableau des avances moyennes hebdomadaires de BANK AL-MAGHRIB en milliards de DH

Années	2006	2007	2008	2009	2010	2011	2012
Avances de BAM	0	5	15	17	7	39	63

Source : Les ECO du 9 et 27 décembre 2013 (Texte adapté)

DOSSIER N°2

9,75 pts

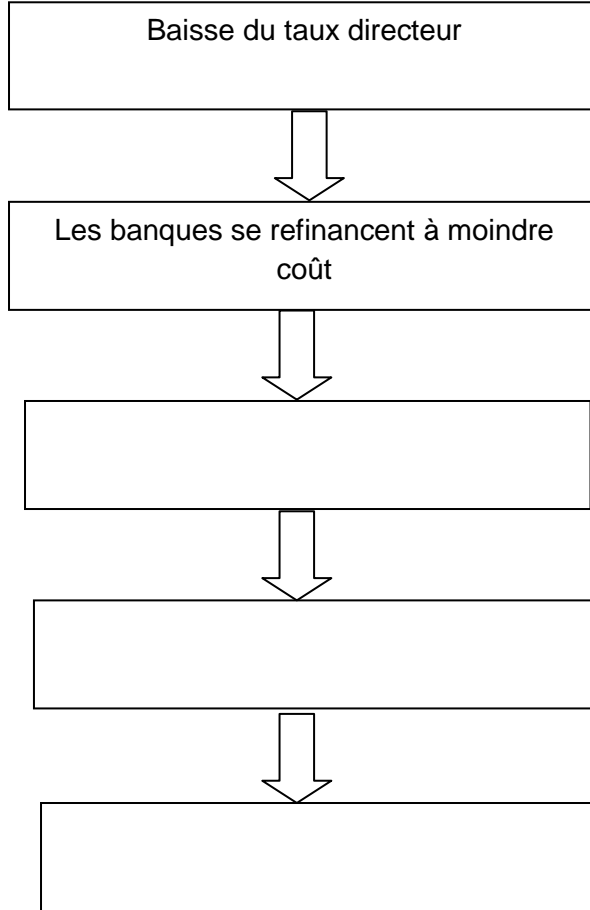
N°	QUESTIONS	BAREME
5	Calculez les montants manquants dans le document 5 .	1,50 pt
6	En vous référant au document 6 : a- Lisez les données en gras soulignées du tableau. b- Relevez et quantifiez deux composantes des dépenses de fonctionnement du budget de l'Etat de 2014. c- Illustrez le titre du document : « Loi des finances 2014: place à la rigueur ». (Trois éléments)	0,50 pt 0,50 pt 0,75 pt
7	Sur la base du document 7 : a- Précisez une conséquence de la baisse éventuelle du taux directeur de BAM sur le marché monétaire. b- Complétez les annexes : b ₁ - Annexe 1 : à partir des expressions suivantes : stimulation de la demande globale, encouragement des crédits, baisse des taux d'intérêt des crédits consentis aux clients. b ₂ - Annexe 2 : à partir du texte (document 7).	0,50 pt 1,50 pt 1,50 pt
8	Question de synthèse : (Exploitez le dossier 2, vos réponses et connaissances acquises) Vu la difficulté pour l'Etat marocain de poursuivre sa politique budgétaire de relance, comme en témoignent les mesures restrictives adoptées dans la loi des finances 2014, la politique monétaire est appelée à jouer un rôle plus dynamique dans la relance de l'économie marocaine. Après avoir précisé et apprécié les actions menées par BAM en matière de politique monétaire ces dernières années, montrez les effets potentiels d'une politique monétaire expansive par la baisse du taux directeur sur l'économie marocaine. Plan : Introduction 1- Actions de politique monétaires au Maroc et leur appréciation (Deux actions) ; 2- Effets potentiels d'une politique monétaire de relance (un effet positif et un autre négatif) ; Conclusion	3 pts

0,5 pt pour la présentation

ANNEXES A COMPLETER ET A REMETTRE AVEC LA COPIE

Politique monétaire expansive ou de relance

ANNEXE 1 :



ANNEXE 2:

Banque centrale	Action de politique monétaire	Objectif final
Banque centrale européenne		
FED		
Bank AL-Maghrib		