

الصفحة:
1 / 4

الامتحان الوطني الموحد للبكالوريا
الدورة العادية 2009
الموضوع



C:NS34

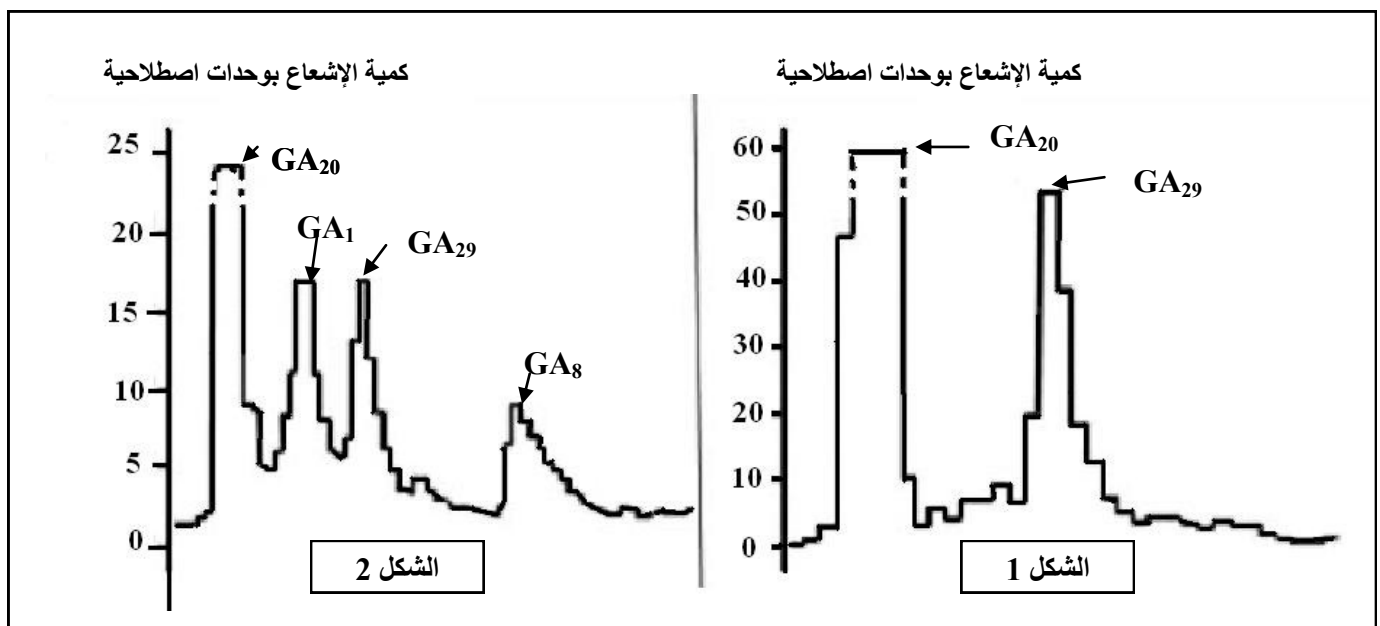
المادة:	علوم الحياة والأرض
المعامل:	5
الشعب(ة) أو المسلك:	شعبة العلوم التجريبية مسلك العلوم الفيزيائية
مدة الإنجاز:	3

التمرين الأول (4 نقط)

يترتب عن النمو المتزايد للسكان وتطور العادات الاستهلاكية ارتفاع في إنتاج النفايات المنزلية، تلحق هذه النفايات عدة أضرار بالبيئة وبالصحة، مما يتطلب تدبيرها باعتماد تقنيات متعددة .
بين، من خلال عرض واضح و منظم، آثار النفايات المنزلية على البيئة و على صحة الإنسان، وأذكر أهم طرق تدبيرها.

التمرين الثاني (6 نقط)

I- نصادف، عند نبات الجلبان، نباتات ذات سيقان طويلة وأخرى ذات سيقان قصيرة. للكشف عن بعض أسباب اختلاف طول السيقان عند هذا النبات، نقترح استثمار المعطيات التالية:
A- مكن استعمال تقنية التحليل الكروماتوغرافي بالإيسام الإشعاعي من الكشف، عند نبات الجلبان، عن وجود أربعة أنواع من هرمون نباتي يدعى الجبريلين Gibbérelline، وهي: GA_1 و GA_8 و GA_{20} و GA_{29} . تبين الوثيقة 1 نتائج استعمال هذه التقنية عند نبات الجلبان ذي سيقان قصيرة (الشكل 1) وعند نبات الجلبان ذي سيقان طويلة (الشكل 2).




الوثيقة 1

ملحوظة: تشير كل قمة من قمم المنحنى إلى وجود نوع من الجبريلين.

الصفحة
2
4

موضوع الامتحان الوطني الموحد للبكالوريا 2009 - الدورة العادية - مادة: علوم الحياة والأرض، الشعب (ة) أو المسلك: شعبة العلوم التجريبية مسلك العلوم الفيزيائية



الوثيقة 2

B - تقدم الوثيقة 2 سلسلة تفاعلات تركيب مختلف أنواع الجبرلين. تعبر الأسهم عن تفاعلات تتحكم فيها أنزيمات نوعية.

C - تتحكم في تركيب الأنزيم 3 β -hydroxylase مورثة توجد على شكل حليلين: الحليل (Le) الموجود عند نبات الجلبان ذي سيقان طويلة، والحليل (Led) الموجود عند نبات الجلبان ذي سيقان قصيرة. تمثل الوثيقة 3 جزء من متتالية النكليوتيدات لكل من الحليل (Le) والحليل (Led).

120	121	122	123	124	125	126	127	128	129	
CCT	TTC	GCA	TAT	CGC	ATC	CGT	GGT	TCT	TCG	جزء من متتالية النكليوتيدات للحليل (Le)
CCT	TTC	GCA	TAT	CGC	ATC	GTG	GTT	CTT	CGA	جزء من متتالية النكليوتيدات للحليل (Led)

الوثيقة 3

- 1- استنتج من مقارنة معطيات الوثيقة 1، سبب اختلاف النمو في طول سيقان نبتة الجلبان. (1 ن)
- 2- باستثمار معطيات الوثائق 1 و 2 و 3، فسر اختلاف طول سيقان نبات الجلبان. (1.75 ن)

ملحوظة: يمثل النوع GA₈ الهرمون الفعال لنمو نبات الجلبان.

II - تتحكم في طول الساق ولون الأزهار عند نبات الجلبان عوامل وراثية. لمعرفة كيفية انتقال هاتين الصفتين من جيل لآخر، نقترح دراسة نتائج ثلاثة تزاوجات أنجزت بين كل من النباتات A و B و C التي لها نفس المظهر الخارجي (ساق طويلة وأزهار حمراء) ونبتة D ذات ساق قصيرة وأزهار بيضاء. يقدم الجدول التالي نتائج التزاوجات الثلاث المنجزة.

التزاوج الثالث: C x D	التزاوج الثاني: B x D	التزاوج الأول: A x D	نوع التزاوج المنجز
25% نباتات ذات ساق طويلة وأزهار حمراء	50% نباتات ذات ساق قصيرة وأزهار حمراء	100% نباتات ذات ساق طويلة وأزهار حمراء	النتائج
25% نباتات ذات ساق قصيرة وأزهار حمراء			
25% نباتات ذات ساق قصيرة وأزهار بيضاء	50% نباتات ذات ساق طويلة وأزهار حمراء		
25% نباتات ذات ساق طويلة وأزهار بيضاء			

- 3- ماذا تستنتج من نتائج كل واحد من التزاوجات الثلاث؟ (1.75 ن)
- 4- باستعمال الرمز (R و r) للتعبير عن صفة لون الأزهار والرمز (N و n) للتعبير عن صفة طول الساق:

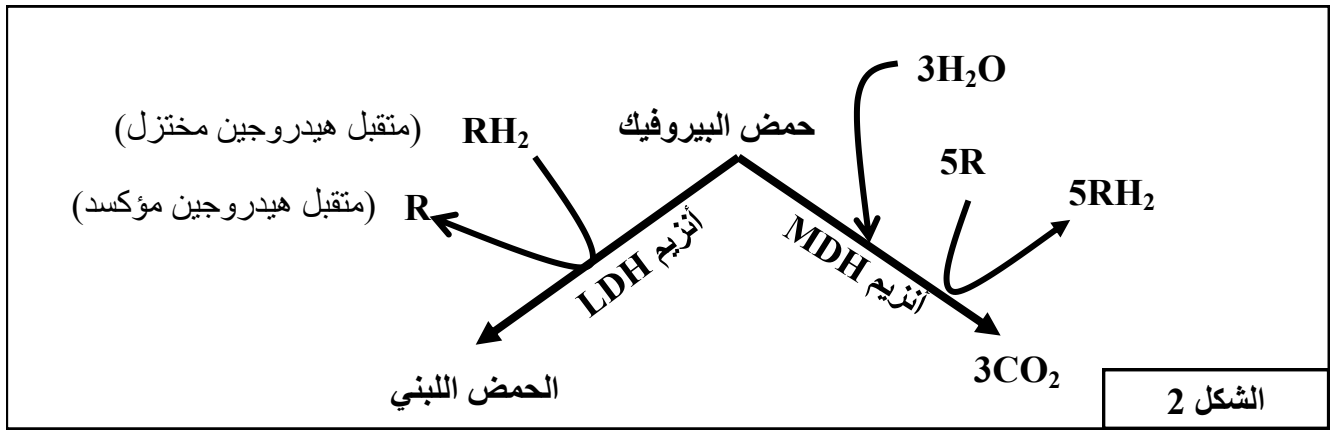
- أ- أعط الأنماط الوراثية للنباتات A و B و C و D. (1 ن)
- ب- أنجز شبكة التزاوج بالنسبة للتزاوج الثاني. (0.5 ن)

التمرين الثالث (5 نقط)

تعتبر مادة EPO إحدى المنشطات التي يستعملها الرياضيون المتخصصون في المسافات الطويلة كالمارتون. لتوضيح كيفية تأثير مادة EPO على تحسين أداء عدائي المسافات الطويلة، نقترح استثمار المعطيات التالية:
- تتوفر العضلة الهيكلية على نوعين من الألياف العضلية، يختلف عدد كل نوع حسب التخصص الرياضي. يقدم الشكل 1 من الوثيقة 1 بعض خصائص الألياف المهيمنة عند كل من عدائي المسافات الطويلة (الألياف 1) و عدائي المسافات القصيرة (الألياف 2). يبرز الشكل 2 من الوثيقة 1 دور الأنزيمات العضليين LDH و MDH.

الألياف المهيمنة عند عدائي المسافات القصيرة (الألياف 2)	الألياف المهيمنة عند عدائي المسافات الطويلة (الألياف 1)	خصائص الألياف العضلية
صغير	كبير	معدل عدد الشعيرات الدموية المحيطة بالألياف
قوي	ضعيف	تركيز أنزيم LDH
ضعيف	قوي	تركيز أنزيم MDH
منخفض	مرتفع	عدد الميتوكوندريات

الشكل 1



الشكل 2

الوثيقة 1

- تبين الوثيقة 2 إحدى حالات استعمال EPO في المجال الطبي.

في إطار علاج المرضى المصابين بالكبد، ينصح الطبيب المختص المريض بتناول مادة *Ribavirine*؛ غير أن هذه المادة تسبب عند المريض أعراضاً ثانوية من بينها ظهور فقر الدم الناتج عن نقص في عدد الكريات الحمراء. من أجل تفادي هذا العرض الثانوي يتناول المريض مادة *Ribavirine* مصحوبة بمادة EPO.

الوثيقة 2

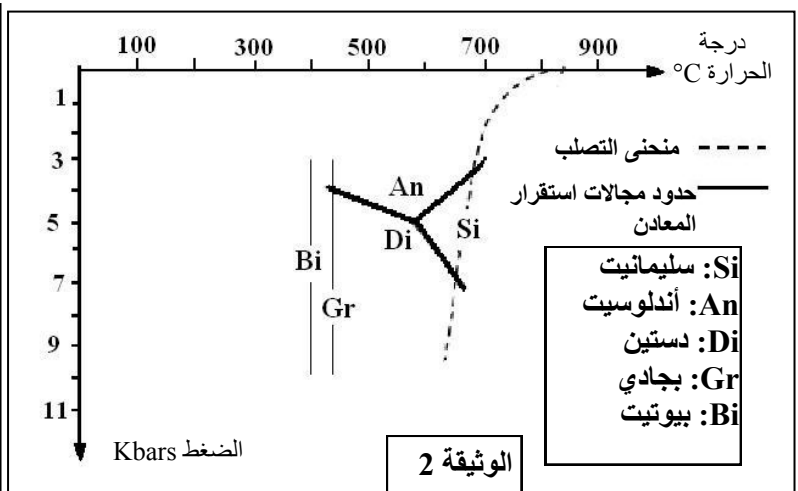
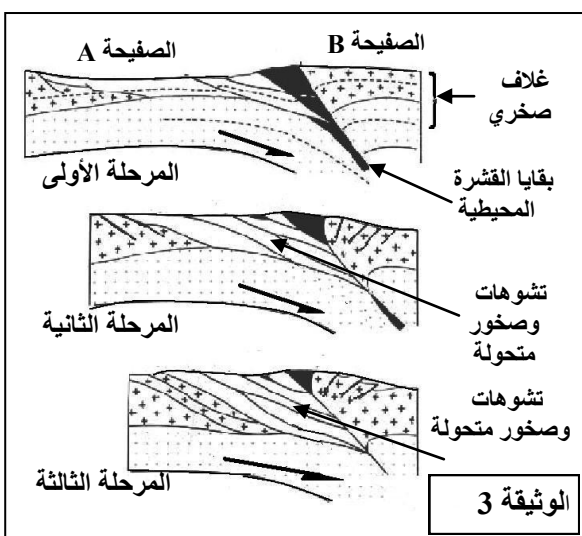
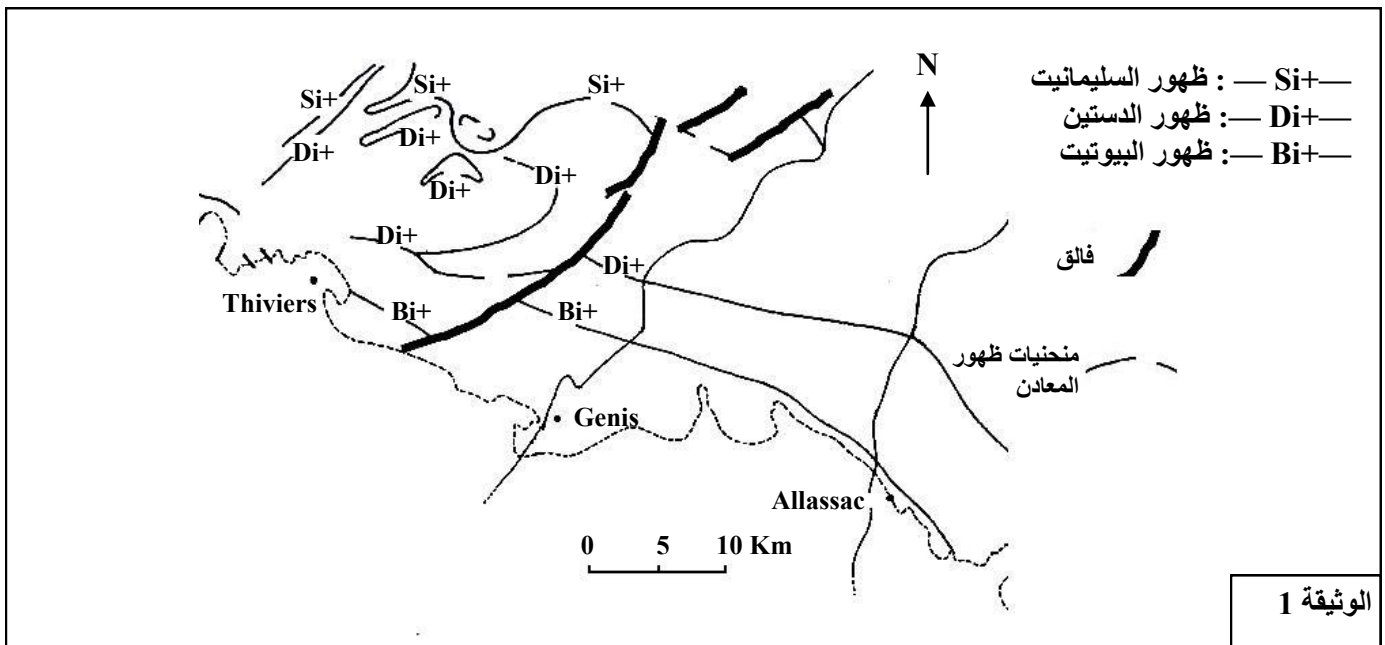
- 1- باستغلالك لمعطيات شكلي الوثيقة 1:
أ- حدد دور كل واحد من الأنزيمات العضليين LDH و MDH مبرزاً موقع عملهما داخل الخلية. (2 ن)
ب- استنتج طبيعة التفاعلات المنتجة للطاقة عند عدائي المسافات الطويلة وعند عدائي المسافات القصيرة. (1ن)
- 2- اعتماداً على معطيات الوثيقة 2 وعلى المعطيات السابقة، فسر كيفية تأثير مادة EPO على إنجازات عدائي المسافات الطويلة. (2 ن)

الصفحة
4
4

موضوع الامتحان الوطني الموحد للبكالوريا 2009 - الدورة العادية -
مادة: علوم الحياة والأرض، الشعب (ة) أو المسلك: شعبة العلوم التجريبية مسلك العلوم الفيزيائية

التمرين الرابع (5 نقط)

- ترافق تشكل السلاسل الجبلية مجموعة من الظواهر الجيولوجية من بينها ظاهرة التحول، لتحديد العوامل المسؤولة عن التحول وعلاقته بدينامية الصفائح، نقترح دراسة الوثائق التالية:
- تمثل الوثيقة 1 خريطة مبسطة لمنطقة Bas Limousin بفرنسا، وقد بينت مجموعة من الدراسات أن الخصائص الجيولوجية لهذه المنطقة مرتبطة بالظواهر الجيولوجية التي عرفتها جبال الألب. تبرز هذه الخريطة منحنيات الظهور المتتالي لبعض المعادن التي تدخل في التركيب العيداني لصخور هذه المنطقة، وذلك عندما نتجه من الجنوب إلى الشمال.
 - تمثل الوثيقة 2 مجالات استقرار بعض المعادن المميزة لظاهرة التحول.
 - تمثل الوثيقة 3 نموذجا تفسيريا للظواهر الجيولوجية المؤدية إلى تشكل صخور المنطقة المدروسة.



- 1- باستغلال معطيات الوثيقتين 1 و 2 :
 - أ- بين كيف تتغير عوامل التحول (الضغط ودرجة الحرارة) عندما نتجه من الجنوب إلى الشمال. (2ن)
 - ب- استنتج، معلا إيجابتك، نمط التحول الذي عرفته المنطقة. (1ن)
- 2- من خلال تحليل معطيات الوثيقة 3، فسر علاقة التحول الذي عرفته المنطقة المدروسة بدينامية الصفائح. (2 ن)