

المادة: علوم الحياة والأرض
مسلك: العلوم الفيزيائية
مدة الإنجاز: 2 ساعات المعامل: 5

الأسدس الأول
الفرض المحروس الثاني
2014-12-15



الاسم الكامل: القسم: الفوج: رقم الامتحان:

المكون الأول: استرداد المعارف (5ن)

I / أسئلة الاختيار من متعدد (1ن)

عين الاقتراح الصحيح من بين الاقتراحات التالية:

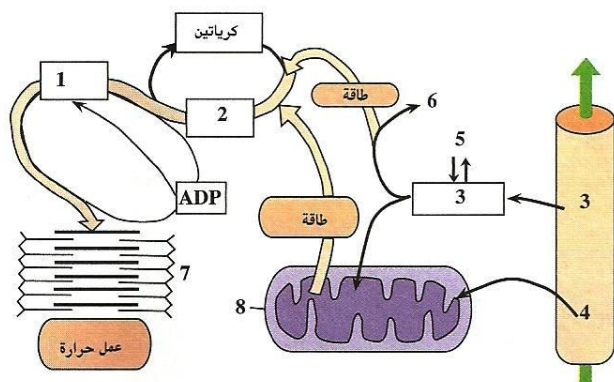
خطأ	صحيح	الجسيم المركزي
		منطقة خاصة من الصبيغي.
		يتحول إلى نجيمة خلال الانقسام غير المباشر.
		عضي مميز للخلية النباتية.
		عضي سيتوبلازمي يتدخل في التركيب البروتيني

II / أسئلة الإجابات القصيرة (4ن)

أ- عرف مايلي:

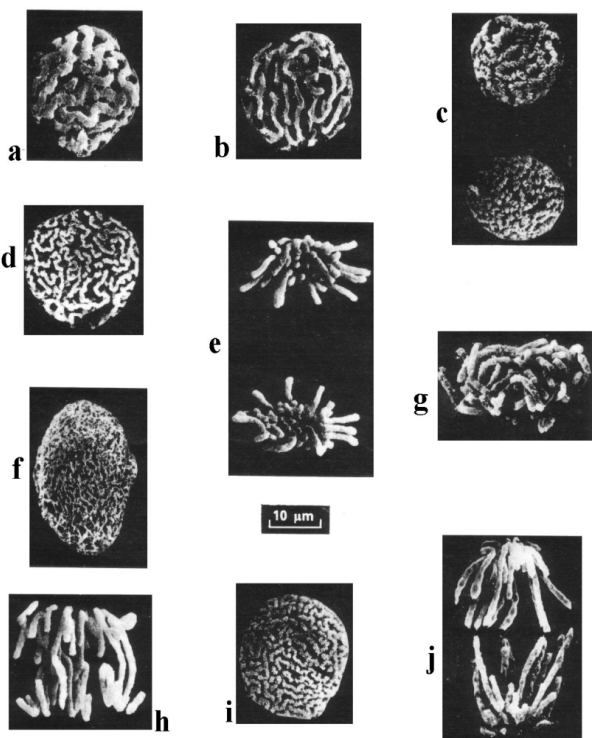
النسخ الجزيئي:

ب- ترتبط الوثيقة التالية بأهم طرق تجديد ATP في مستوى الليف العضلي



أعط الأسماء المناسبة لأرقام الوثيقة جانبه.

- 1-
- 2-
- 3-
- 4-
- 5-
- 6-
- 7-
- 8-



ت- ترتبط الوثيقة التالية بطبيعة الخبر الوراثي

رتب هذه المراحل حسب تسلسلها الزمني

1

ملحوظة: تعاد هذه الورقة مع ورقة التحرير بعد الإجابة عن الأسئلة

المكون الثاني: الاستدلال العلمي والتواصل الكتابي والبياني (15ن)

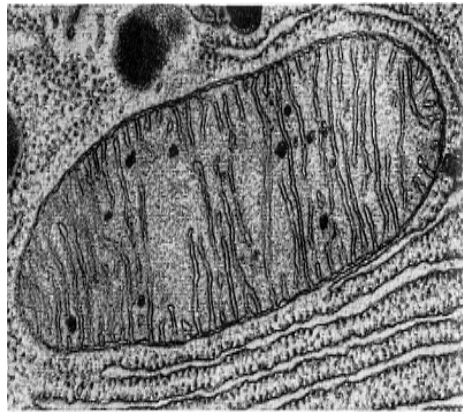
التمرين الأول: 5ن

عند الحيوانات الفقرية، يكون تركيز Na^+ مرتفعا في البلازما ومنخفضا في سيتوبلازم الكريات الحمراء، أما تركيز K^+ فيكون مرتفعا في السيتوبلازم ومنخفضا في البلازما. ويرجع اختلاف التركيز هذا إلى نشاط مضخة Na^+ و K^+ (بروتينات غشائية) التي تتطلب طاقة ATP.

قصد تحديد كيفية تجديد ATP على مستوى الكريات الحمراء عند كل من الإنسان والدجاج نقترح المعطيات التالية:

❖ الكريات الحمراء عند الإنسان هي خلايا غير منواة ولا تحتوي على عضيات سيتوبلازمية، بينما الكريات الحمراء للدجاج، فهي خلايا منواة ويحتوي سيتوبلازمها على عضيات خلوية من بينها العضى X الممثل بالوثيقة 1.

❖ يمثل شكلا الوثيقة 2 نتائج قياس تركيز ايونات Na^+ و K^+ داخل الكريات الحمراء عند الإنسان (الشكل-أ-) وعند الدجاج (الشكل-ب-) قبل وبعد وضعها بالبلازما تحت حرارة $4^{\circ}C$ لمدة سبعة أيام.



الوثيقة 1: صورة إلكتروغرافية للعضى X

الشكل -أ-		
K^+	Na^+	قبل الوضع في حرارة $4^{\circ}C$
126	35	
K^+	Na^+	بعد الوضع في حرارة $4^{\circ}C$
88	82	

الوثيقة 2

الشكل -ب-		
K^+	Na^+	قبل الوضع في حرارة $4^{\circ}C$
150	18	
K^+	Na^+	بعد الوضع في حرارة $4^{\circ}C$
93	94	

1- انطلاقا من تحليل شكلي الوثيقة 2 استنتج تأثير الحرارة المنخفضة على نشاط مضخة Na^+ و K^+(ن1)

❖ تم وضع الكريات الحمراء للإنسان والكريات الحمراء للدجاج في أوساط زودت بمستقلبات مختلفة، وتم قياس تركيز كل من Na^+ و K^+ في ظروف تجريبية مختلفة وتبين الوثيقة 3 ظروف التجارب والنتائج المحصل عليها.

K^+	Na^+	ظروف الوسط
64	91	وسط بدون كليكوز ($37^{\circ}C$)
126	35	وسط به كليكوز ($37^{\circ}C$)
63	92	وسط به حمض البيروفيك ($37^{\circ}C$)
68	95	وسط به كليكوز ($37^{\circ}C$) + مادة كابحة لانحلال الكليكوز
64	93	وسط به حمض البيروفيك ($37^{\circ}C$) + مادة كابحة لانحلال الكليكوز

الوثيقة 3 (الشكل-أ-): تركيز أيونات Na^+ و K^+ داخل الكريات الحمراء للإنسان

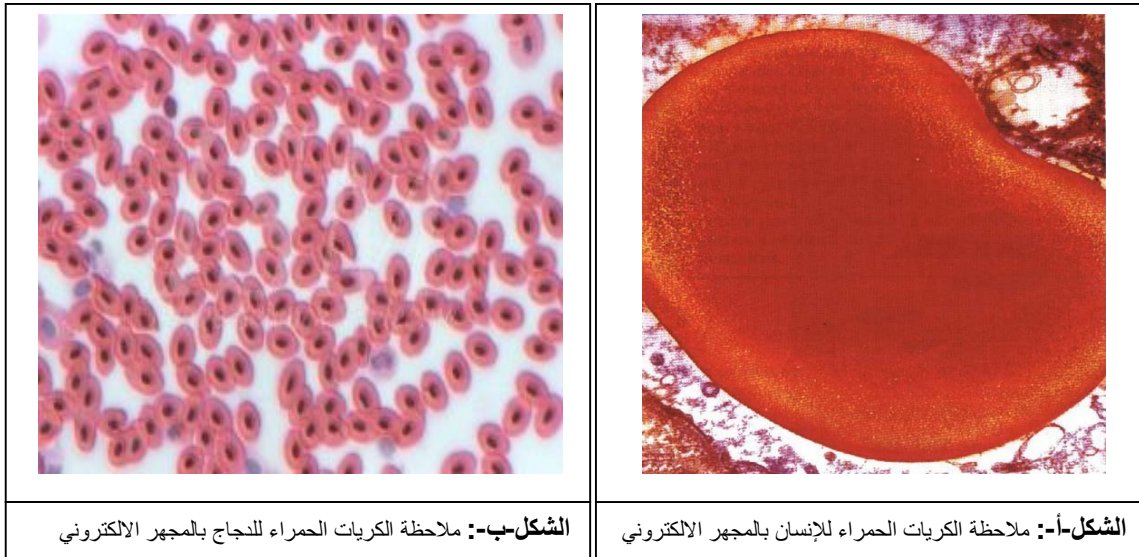
K^+	Na^+	ظروف الوسط
87	77	وسط بدون كليكوز ($37^{\circ}C$)
150	18	وسط به كليكوز ($37^{\circ}C$)
152	18	وسط به حمض البيروفيك ($37^{\circ}C$)
85	77	وسط به كليكوز ($37^{\circ}C$) + مادة كابحة لانحلال الكليكوز
151	18	وسط به حمض البيروفيك ($37^{\circ}C$) + مادة كابحة لانحلال الكليكوز

الوثيقة 3 (الشكل-ب-): تركيز أيونات Na^+ و K^+ داخل الكريات الحمراء للدجاج

ملحوظة: كل التراكيز معبر عنها ب: m.mol/L

2- باعتمادك على معطيات شكلي الوثيقة 3، قارن الآليات التي يتم بواسطتها تجديد ATP الضروري لعمل المضخة عند كل من الكريات الحمراء للإنسان والكريات الحمراء للدجاج.....(ن3)

❖ تبين الوثيقة 4 مظهر الكريات الحمراء للإنسان (الشكل-أ-) والكريات الحمراء للدجاج (الشكل-ب-).



الشكل-ب-: ملاحظة الكريات الحمراء للدجاج بالمجهر الالكتروني

الشكل-أ-: ملاحظة الكريات الحمراء للإنسان بالمجهر الالكتروني

3- بين كيف تمكن معطيات الوثيقتين 4 و 1 من تأكيد جوابك على السؤال 2(ن1)

التمرين الثاني: ن4

لتعرف مختلف الطرق الاستقلابية المسؤولة عن تجديد ATP، تمت معايرة بعض المركبات الكيميائية في العضلة عند عداء مختص في العدو السريع، أثناء قطعه مسافة 100m جريا. يعطي الجدول التالي تغير هذه المركبات حسب المسافة المقطوعة.

تركيز المركبات الكيميائية في العضلة			المسافة المقطوعة جريا
الحمض اللبني ب m.mol/L من الدم	ATP ب m.mol/kg من العضلة	الكرياتين فوسفات ب m.mol/kg من العضلة	
2	5	12	قبل انطلاق الجري
4.5	4.5	6	40m
7.5	4.5	4.4	80m
8	4.2	4	100m

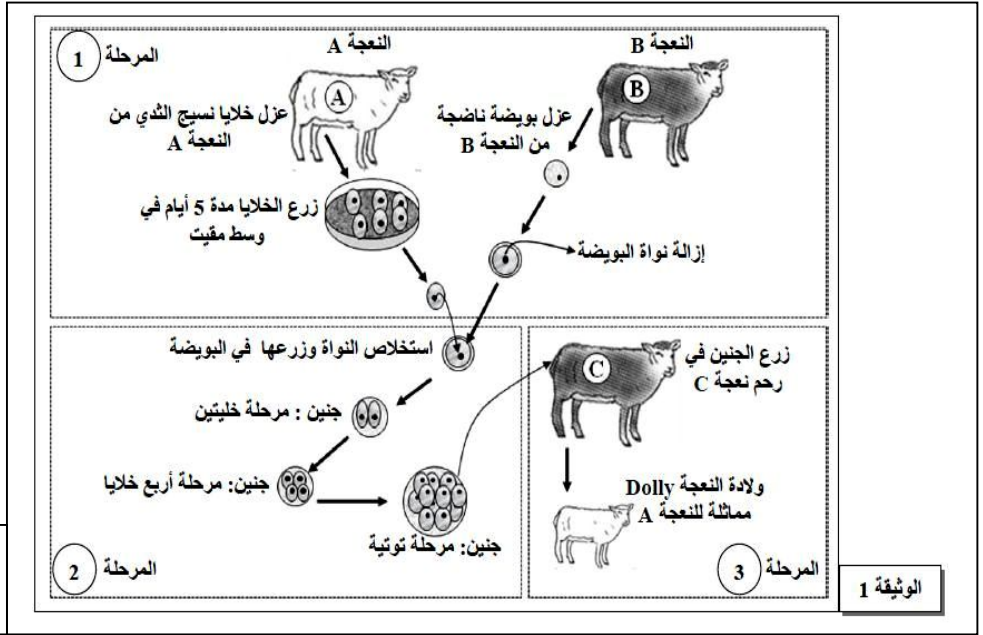
1- مثل على نفس المعلم تغير مختلف المركبات الكيميائية في العضلة حسب المسافة المقطوعة.....(ن2)

2- صف نتائج القياسات المنجزة، واستنتج المسالك الاستقلابية المتدخلة في تجديد ATP.....(ن2)

التمرين الثالث: 6ن

لتحديد بعض مظاهر نقل الخبر الوراثي والحفاظ على ثباته خلال دورة خلوية، نقتراح دراسة المعطيات التالية:

المعطى الأول: في سنة 1996 تمكن أحد الباحثين في اسكتلندا من استنساخ الشاة دولي (Dolly). تمثل الوثيقة 1 مراحل هذا الاستنساخ.



ملحوظة: خلال المرحلة 2 تم زرع الجنين في وسط مقبى في الزجاج.

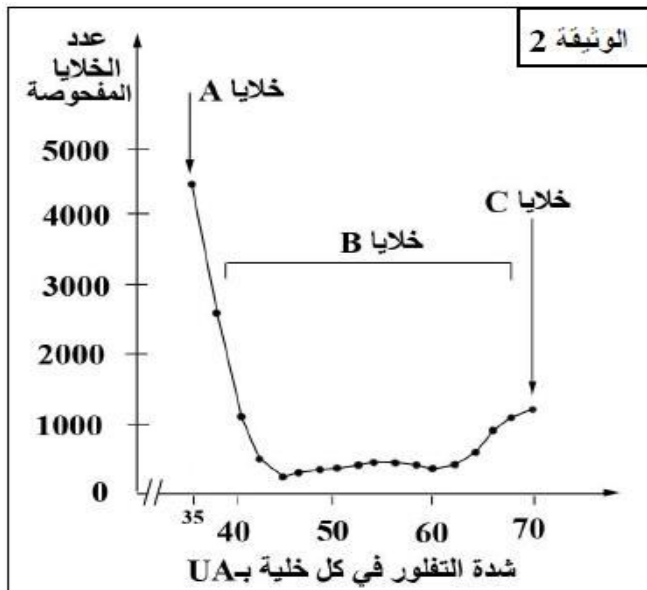
1- بين أهم مراحل استنساخ النعجة Dolly الممثلة في الوثيقة 1 واستنتج دور النواة.....(0.5ن)

المعطى الثاني: تم زرع خلايا حيوانية في أوساط زرع ملائمة، حيث تتكاثر فتشكل بساطا خلويا. يعطي الجدول التالي تطور عدد الخلايا في كل 1cm^2 من البساط الخلوي بدلالة الزمن.

عدد الخلايا	2.5×10^3	10×10^3	40×10^3	160×10^3
الزمن بالساعات	0	40	80	120

2- انطلاقا من معطيات هذا الجدول، حدد، مغللا إجابتك، مدة الدورة الخلوية.....(0.5ن)

• بعد تعريض ADN خلايا البساط الخلوي للتفلور باستعمال ملون خاص (أي إصدار إشعاعات ملونة)، أخذت بانتظام عينات من هذا البساط وتم قياس شدة التفلور في كل خلية من خلايا العينات المأخوذة، ثم صنفت الخلايا إلى عدة مجموعات حسب شدة التفلور التي تميزها. تمثل الوثيقة 2 النتائج الجزئية المحصل عليها.

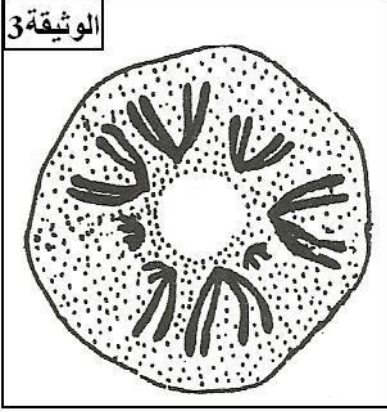


3- علما بأن 35UA تمثل الكمية العادية من ADN:

- أ- قارن شدة التفلور بين الخلايا A والخلايا C ماذا تستنتج؟.....(0.5ن)
- ب- حدد من بين فترات الدورة الخلوية الفترة التي تنتمي إليها كل من الخلايا A و B و C.....(0.75ن)

ملحوظة: تتناسب شدة التفلور مع كمية ADN في نواة الخلية.

الوثيقة 3



- تمثل الوثيقة 3 صورة قطبية بالمجهر الضوئي لإحدى مراحل الانقسام غير المباشر عند خلية حيوانية.

- 4- أ- تعرف على هذه المرحلة معطلا جوابك، ثم أنجز رسما تخطيطيا مفسرا لهذه الخلية في المرحلة الموالية.....(1.5ن)
ب- حدد من بين الخلايا A و B و C تلك التي تطابق هذه المرحلة من الانقسام غير المباشر.....(0.25ن)
5- بين أهمية الظاهرتين الممثلتين في الوثيقتين 2 و 3، في الحفاظ على ثبات الخبر الوراثي من جيل لآخر.....(1.5ن)