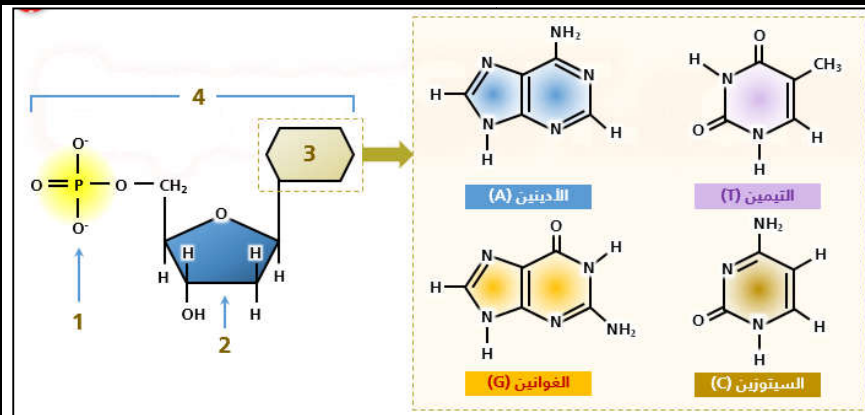


# الكشف عن تركيب وبنية جزيئة ADN

النشاط 4

تمثل جزيئة ADN الدعامة الوراثية للخبر الوراثي عند جميع الكائنات الحية. للتعرف على تركيب وبنية هذه الجزيئة دراسة المعطيات التجريبية التالية:

## المعطيات

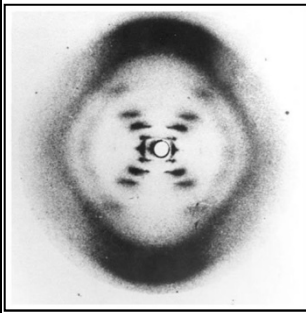


الوثيقة 2 : نتائج تجربة Chargaff (1948)

تمكن Chargaff سنة 1955 من تحديد كمية القواعد الأزوتية بجزيئة ADN عند خلايا كائنات حية متنوعة. ويبين الجدول أسفله النسب المئوية التقريبية للقواعد الأزوتية عند بعض الكائنات الحية.

الوثيقة 3 : نتائج تجربة Wilkin و Franklin (1953)

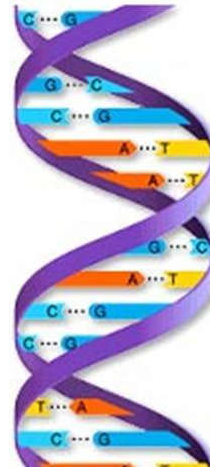
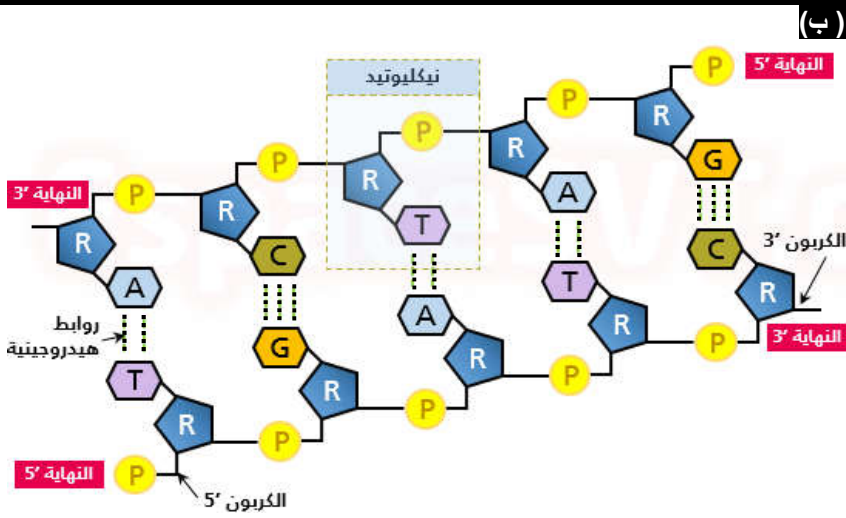
حصل على الصورة بتسليط أشعة X على جزيئة ADN خالص. صرح العالم Watson عند ملاحظته هذه الصورة قائلا: " بمجرد ما شاهدت الصورة انبهرت ... العلامة X التي تتوسط الصورة لا يمكن أن تأتي إلا من بنية لولبية.



الوثيقة 2 : نتائج تجربة Chargaff (1948)

تمكن Chargaff سنة 1955 من تحديد كمية القواعد الأزوتية بجزيئة ADN عند خلايا كائنات حية متنوعة. ويبين الجدول أسفله النسب المئوية التقريبية للقواعد الأزوتية عند بعض الكائنات الحية.

القواعد الأزوتية (%)				الكائنات الحية	
G	C	T	A		
19,9	19,8	29,4	30,9	الانسان	
20,5	21,5	29,2	28,8	الدجاج	
22,7	22,8	27,1	27,3	القمح	
18,7	17,1	32,9	31,3	الخميرة	



## استثمار المعطيات

- 1- تعرف تركيب جزيئة ADN انطلاقا من دراستك لمعطيات الوثيقة 1.
- 2- باعتمادك على نتائج Chargaff الممثلة في جدول الوثيقة 2 احسب بالنسبة لكل كائن حي العلاقة A/T و G/C ثم استنتج.
- 3- تعرف بنية جزيئة ADN بالاعتماد على نتائج تجربة Franklin (وثيقة 3) ونموذج اللولب المضاعف ل Watson و Crick (وثيقة 4).