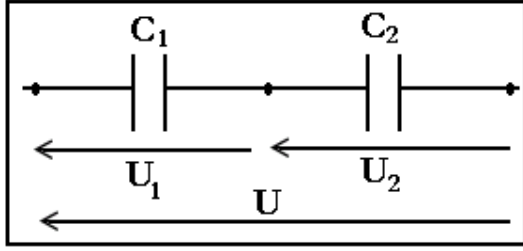


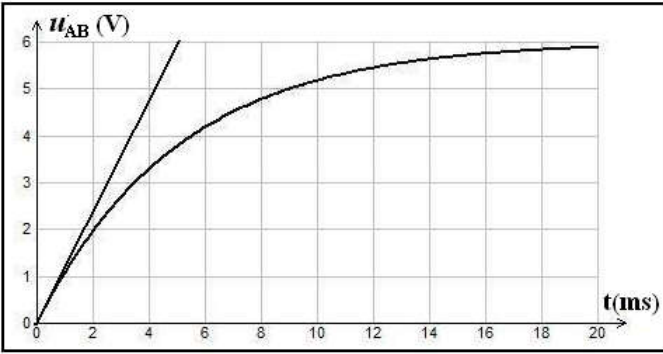
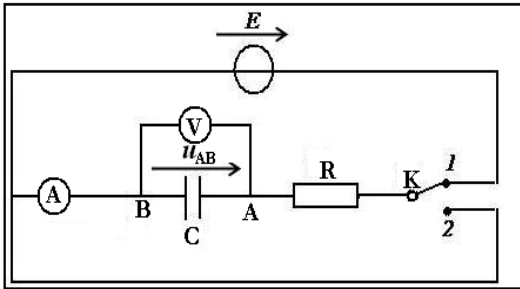
التمرين 1

نطبق توترا $U = 300V$ بين قطبي مجموعة مكونة من مكثفين مركبين على التوالي سعاتهما $C_1 = 1\mu F$ و $C_2 = 2\mu F$.



- (1) حدد التوترين U_1 و U_2 .
- (2) أحسب الشحنتين q_1 و q_2 للمكثفين.
- (3) أحسب الطاقة التي يخزنها كل مكثف.
- (4) أحسب السعة المكافئة للتركيب.
- (5) أحسب الطاقة المخزونة في المكثف المكافئ.

التمرين 2

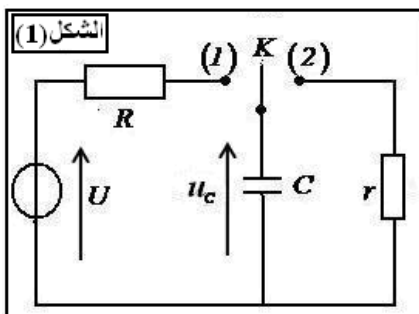


- نعتبر التركيب الممثل في الشكل والذي يتكون من :
- مولد كهربائي قوته الكهرومحرركة ثابتة $E = 6V$.
 - موصل أومي مقاومته $R = 1K \Omega$.
 - مكثف سعته $C = 5\mu F$.
- عند اللحظة $t = 0$ ، نضع قاطع التيار في الموضع (1) ويكون المكثف غير مشحون.

- (1) صف بإيجاز ما يحدث للمكثف.
 - (2) أثبت المعادلة التفاضلية التي يحققها التوتر $u_{AB} = u_C$ وذلك باعتمادك الاصطلاح مستقبلي.
 - (3) أكتب حل هذه المعادلة التفاضلية.
 - (4) يمثل المنحنى جانبه تغيرات التوتر u_{AB} بدلالة الزمن.
- 1.4 عرف ثابتة الزمن ثم أوجد تعبيرها بدلالة R و C وأحسب قيمتها العددية.
- 2.4 أوجد قيمة ثابتة الزمن من جديد وذلك باستعمال المنحنى وبطريقتين مختلفتين.
- 3.4 كم هي المدة الزمنية التي يستغرقها النظام الانتقالي؟
- (5) نؤرجح قاطع التيار من الموضع (1) إلى الموضع (2) عند لحظة نعتبرها أصلا للتواريخ.
- 1.5 صف بإيجاز ما يحدث في المكثف.
 - 2.5 أثبت المعادلة التفاضلية التي يحققها التوتر u_{AB} وذلك باستعمال الاصطلاح مستقبلي.
 - 3.5 أكتب حل هذه المعادلة التفاضلية.
 - 4.5 مثل كيفيا كل من المنحنى الذي يمثل تغيرات التوتر u_{AB} والشدة $i(t)$ للتيار المار بالدائرة. بين على المبيان ثابتة الزمن

التمرين 3

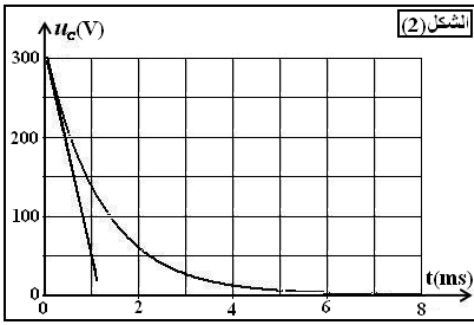
نقرأ على لصيقة آلة تصوير العبارة التالية : < إحذر - خطر - تفادي تفكيك الآلة > . يرتبط هذا التنبيه بوجود مكثف في علبة آلة التصوير، الذي يتم شحنه تحت توتر $U = 300V$ عبر موصل أومي مقاومته R . نحصل على التوتر $U = 300V$ بفضل تركيب إلكتروني مغذى بعمود قوته الكهرومحرركة $E_0 = 1,5V$ وعند أخذ الصور يفرغ المكثف عبر مصباح وامض آلة التصوير خلال جزء من الثانية، فيمكن الواض ذو المقاومة r من إضاءة شديدة في وقت جد قصير.



- يمثل الشكل (1) التركيب المبسط لدارة تشغيل وامض آلة التصوير :
- معطيات : سعة المكثف : $C = 120\mu F$ و $U = 300V$.
- (1) استجابة ثنائي القطب RC لرتبة توتر صاعدة:
- نضع عند اللحظة $t = 0$ قاطع التيار K في الموضع (1)، فيشحن المكثف عبر الموصل الأومي ذي المقاومة R تحت التوتر U .
- 1.1 أثبت أن المعادلة التفاضلية التي يحققها التوتر u_C تكتب على الشكل :

$$u_C + \tau \frac{du_C}{dt} = U$$

استنتج تعبير ثابتة الزمن τ بدلالة بارمترات الدارة.



(2.1) تحقق أن حل المعادلة التفاضلية هو : $u_c(t) = U \cdot (1 - e^{-\frac{t}{\tau}})$

(3.1) حدد قيمة u_c في النظام الدائم .

(4.1) أحسب الطاقة الكهربائية المخزونة في المكثف في النظام الدائم .

(5.1) يتطلب الاشتغال العادي للوأمض طاقة كهربائية محصورة بين $5J$ و $6J$

. هل يمكن شحن المكثف مباشرة بواسطة العمود ذي القوة الكهرومحركة .

? $E_0 = 1,5V$

(2) استجابة ثنائي القطب RC لرتبة توتر نازلة :

نؤرجح قاطع التيار K إلى الموضع (2) عند اللحظة $t = 0$ ، فيفرغ المكثف عبر الموصل الأومي ذي المقاومة r . نسجل بواسطة راسم التذبذب ذاكراتي تغيرات التوتر u_c بين مربطي المكثف بدلالة الزمن ، فنحصل على المنحنى الممثل في الشكل (2) .

(1.2) مثل بعناية تبيانة تركيب تفريغ المكثف ، وبين عليها كيفية ربط راسم التذبذب .

(2.2) عين مبيانيا قيمة ثابتة الزمن τ' لدارة التفريغ .

(3.2) استنتج قيمة r .

التمرين 4

تتميز المكثفات بخاصية تخزين الطاقة الكهربائية وإمكانية استرجاعها عند الحاجة وتمكن هذه الخاصية من استعمال المكثفات في عدة أجهزة منها تشغيل مصباح وامض وبعض آلات التصوير .

(1) الجزء الأول : شحن مكثف

ننجز التركيب التجريبي الممثل في الشكل (1) والمكون من مكثف سعته C غير مشحون بدئيا ، مركب على التوالي مع موصل أومي مقاومته R وقاطع التيار K .

يخضع ثنائي القطب RC لرتبة توتر معرفة كالتالي :

★ بالنسبة لـ $t < 0$ تكون $U = 0$.

★ بالنسبة لـ $t \geq 0$ تكون $U = E$ حيث $E = 12V$.

نغلق الدارة عند اللحظة $t = 0$ ونعين باستعمال وسيط معلوماتي على شاشة حاسوب تغيرات التوتر u_c بين مربطي المكثف بدلالة الزمن ، يعطي الشكل (2) المنحنى $u_c = f(t)$.

(1.1) أثبت المعادلة التفاضلية التي يحققها التوتر u_c .

(2.1) تحقق أن التعبير $u_c(t) = E(1 - e^{-\frac{t}{\tau}})$ حل للمعادلة

التفاضلية بالنسبة لـ $t \geq 0$ ، حيث τ ثابتة الزمن .

(3.1) حدد تعبير τ وبين ، باعتماد معادلة الأبعاد ، أن لها بعدا زمنيا .

(4.1) عين مبيانيا τ واستنتج أن قيمة C هي $C = 100\mu F$.

نعطي : $R = 10K \Omega$.

(5.1) أحسب الطاقة الكهربائية التي يخزنها المكثف في النظام الدائم .

(2) الجزء الثاني : تفريغ مكثف

يتطلب تشغيل وامض آلة تصوير طاقة عالية، لا يمكن الحصول عليها باستعمال المولد السابق. للحصول على الطاقة اللازمة ، يُشحن المكثف بواسطة دارة إلكترونية تُمكن من تطبيق توتر مستمر بين مربطي المكثف قيمته $U_c = 360V$.

نفرغ المكثف، عند اللحظة $t = 0$ ، في مصباح آلة التصوير الذي نمذججه بموصل أومي مقاومته r (أنظر الشكل(3)) فيتغير التوتر بين

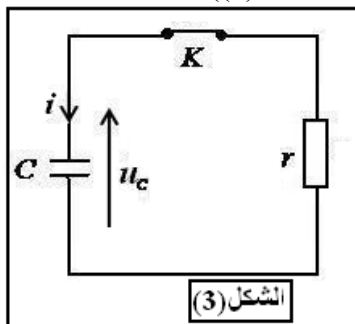
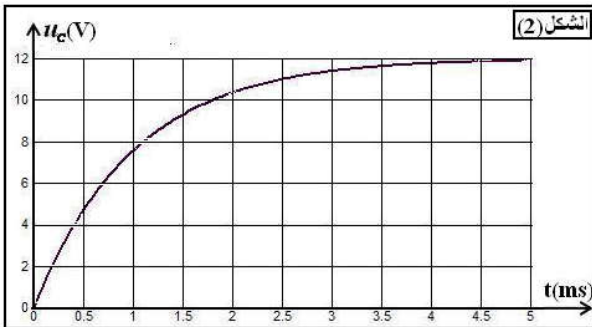
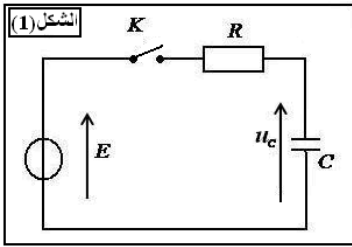
مربطي المكثف وفق المعادلة : $u_c = 360e^{-\frac{t}{\tau'}}$ حيث τ' ثابتة الزمن و $u_c(t)$ معبر عنه

بوحد الفولت (V) .

(1.2) أوجد قيمة r مقاومة مصباح وامض آلة التصوير ، علما أن التوتر بين مربطي المكثف

يأخذ القيمة $u_c(t) = 132,45V$ عند اللحظة $t = 2ms$.

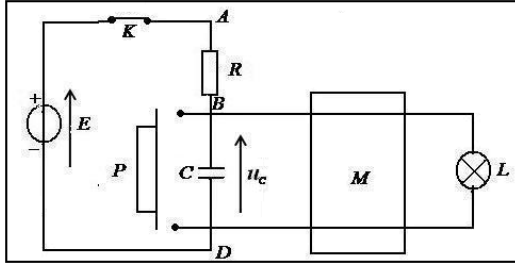
(2.2) اشرح كيف يجب اختيار مقاومة وامض آلة التصوير لضمان تفريغ أسرع للمكثف .



التمرين 1

تمكن المؤقتة من التحكم الأوتوماتيكي في إضاءة مصباح لمدة t_0 قابلة للضبط .
يتكون التركيب الكهربائي للمؤقتة من مولد مؤتمل للتوتر قوته الكهرومحرركة $E = 30V$ ، وقاطع للتيار K ، وموصل أومي مقاومته R ومكثف سعته C وزر P يقوم بدور قاطع التيار لحظة الضغط عليه ، ومركبة إلكترونية M تسمح لمصباح L أن يضيء مادام التوتر بين مربطي المكثف لا يتجاوز قيمة حدية U_L تميز المركبة M .

يمكن نمذجة التركيب الكهربائي للمؤقتة بالدارة الكهربائية المبسطة الممثلة في الشكل أسفله حيث تغذية المركبة M غير ممثلة في النموذج وهي توفر الطاقة اللازمة لإضاءة المصباح L . نقبل أن وجود أو عدم وجود المركبة M لا يؤثر على تصرف ثنائي القطب RC أي أن التوتر u_C بين مربطي المكثف لا يتعلق بالمركبة M .



معطيات : $E = 30V$ و $R = 100K \Omega$ و $U_L = 20V$.

(1) استجابة ثنائي القطب RC لرتبة توتر صاعدة

عند اللحظة $t = 0$ ، نغلق قاطع التيار K مع إبقاء الزر P مفتوحا (أنظر الشكل) ، فيشحن المكثف .

(1.1) أثبت المعادلة التفاضلية التي يحققها التوتر $u_C(t)$ بين مربطي المكثف أثناء عملية الشحن .

(2.1) تحقق أن $u_C(t) = A \cdot (1 - e^{-\frac{t}{\tau}})$ حل للمعادلة

التفاضلية . استنتج تعبير A و τ .

(3.1) سمّ الثابتة τ ثم اعتمادا على التحليل البعدي (معادلة الأبعاد) بين أن τ لها بعد زمن .

(4.1) حدد قيمة $u_C(t)$ في النظام الدائم .

(2) استغلال منحنى الاستجابة $u_C(t)$.

نعين بواسطة راسم التذبذب ذاكراتي التوتر $u_C(t)$ بين مربطي المكثف ، فنحصل على الرسم التذبذبي جانبه .

(1.2) مثل فقط دارة الشحن وبين عليها كيفية ربط راسم التذبذب لمعاينة التوتر $u_C(t)$.

(2.2) عين على منحنى $u_C(t)$ التوتر E والثابتة τ والنظام الانتقالي والنظام الدائم .

(3.2) تحقق أن قيمة سعة المكثف هي $C = 200\mu F$.

(3) كيفية التحكم في قيمة t_0 مدة إضاءة المصباح .

(1.3) عبر بدلالة τ و E و U_L عن مدة إضاءة المصباح التي عندها يؤول التوتر $u_C(t)$ إلى القيمة الحدية U_L

(2.3) أحسب قيمة t_0 . تأكد من القيمة المحصل عليها باستعمال المنحنى $u_C(t)$.

(3.3) نضبط U_L على القيمة $U_L = 20V$ للحصول على مدة الإضاءة t_0 قريبة من τ . لماذا اختيار قيمة t_0 قريبة من قيمة τ يتماشى مع هذا التركيب ؟

(4.3) نريد الزيادة في مدة إضاءة المصباح دون تغيير المولد . حدد بارمترات الدارة التي يمكن تغييرها ؟

(5.3) حدد القيمة التي يجب أن تأخذها المقاومة R للحصول على $\tau = 1min$.

(6.3) نضغط على الزر P ، ما قيمة التوتر u_C ؟ قارن هذه القيمة مع قيمة U_L .

التمرين 2

تعتبر الشمس نجما كباقي النجوم ، إلا أنها ضرورية لضمان استمرارية الحياة على الأرض ... إن الطاقة الشمسية التي تستمدتها الأرض من الشمس تعادل 15000 مرة الطاقة المستهلكة سنويا على كوكبنا !
مقتطف من المركز الجهوي للتوثيق البيداغوجي بنانت . فرنسا

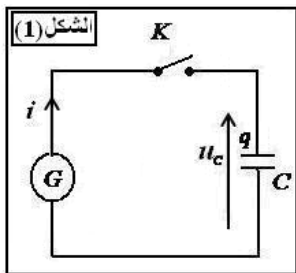
يمكن بواسطة مستقبل شمسي (خلية كهروضوئية) تحويل جزء من هذه الطاقة الشمسية الوافرة إلى طاقة كهربائية يمكن استغلالها عند الحاجة . ندرس في هذا التمرين تخزين الطاقة التي تولدها المستقبلات الشمسية في مكثف ذي سعة هائلة . العلامة التي وضعها الصانع على المكثف

هي : $C = 100000\mu F \pm 10\%$

(1) شحن مكثف بواسطة تيار مستمر.
مميزات الخلية الكهروضوئية التي نشحن بها المكثف هي :

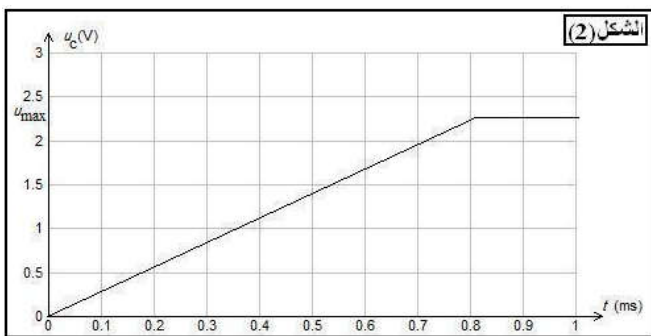
القدرة الكهربائية : $0,6W$	شدة التيار $270mA$	التوتر القصوي : $2,25V$
الكتلة : $0,41Kg$	مجال تغيرات درجة الحرارة : من $-40^{\circ}C$ إلى $60^{\circ}C$	

تتصرف الخلية كمولد كهربائي (G) يزود الدارة بتيار كهربائي شدته $I = 0,27A$ ، شرط ألا يتعدى التوتر بين مربطيه القيمة القصوية $U_{max} = 2,25V$.



نربط قطبي الخلية بمربطي المكثف ، أنظر الشكل (1) .
نغلق القاطع عند لحظة $t = 0$ ونسجل تغيرات التوتر u_c بين مربطي المكثف ، فنحصل على المنحنى الممثل في الشكل (2) .

- 1.1 سم كل من النظامين الملاحظين على المنحنى $u_c(t)$.
- 2.1 أكتب تعبير u_c بدلالة C و q شحنة المكثف .



- 3.1 هل المكثف كان مشحونا في البداية أم لا ؟ أكتب تعبير i شدة التيار بدلالة q عند لحظة t (نعتبر أن توتر المكثف u_c أصغر من القيمة القصوية U_{max}) واستنتج أن التوتر بين

مربطي المكثف يكتب على الشكل التالي $u_c = \frac{I t}{C}$ مادام

$$u_c \leq U_{max}$$

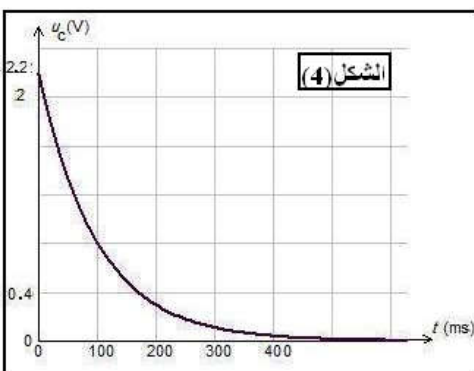
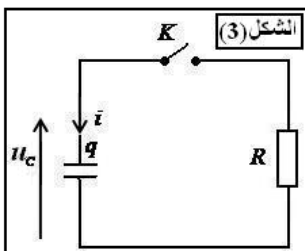
- 4.1 أوجد قيمة وحدة K المعامل الموجه للقطعة المستقيمة من المنحنى التي يتحقق عندها $u_c \leq U_{max}$. تحقق بالاعتماد

- على K من قيمة C سعة المكثف .
- 5.1 ما الطاقة التي يخزنها المكثف عند شحنه كليا ؟

(2) تفريغ المكثف .

يمكن توظيف الطاقة الكهربائية التي يخزنها المكثف في اشتغال مصباح (L) ذي قدرة كهربائية ضعيفة يمكن اعتباره موصلا أوميا مقاومته R .

- نعزل المكثف السابق بعد شحنه كليا ، ثم نركبه مع موصل أومي مقاومته R (الشكل (3)) .
- نغلق القاطع K' عند لحظة $t = 0$ ، ثم نسجل تغيرات التوتر u_c بين مربطي المكثف فنحصل على المنحنى $u_c(t)$ الممثل في الشكل (4) .



- 1.2 باحترام الاصطلاح الوارد في الشكل (3) ، أوجد تعبير شدة التيار i بدلالة u_c والسعة C للمكثف .

- 2.2 أثبت المعادلة التفاضلية التي يحققها التوتر u_c .
- 3.2 بين أن المعادلة السابقة تقبل حلا التعبير التالي :

$$u_c(t) = U_{max} e^{-\frac{t}{RC}}$$

- 4.2 ما إشارة i خلال عملية التفريغ ؟

- 5.2 ذكر بتعبير τ ثابتة الزمن لثنائي القطب RC . ثم عبر بدلالة U_{max} عن التوتر u_c عند لحظة $t = \tau$. أوجد قيمة ثابتة الزمن لثنائي القطب

RC موضحا على الشكل (4) الطريقة المتبعة ثم استنتج قيمة R .

- 6.2 نعتبر دائما أن المصباح (L) عبارة عن موصل أومي وأنه لا يضيء بصفة عادية إلا إذا تجاوز التوتر بين مربطيه القيمة

$1,0V$. أوجد Δt المدة الزمنية التي يشتغل خلالها المصباح بكيفية عادية . ماذا تستنتج فيما يخص دور المكثف