

| سلسلة 2 | الأعداد العقدية حلول مقترحة | السنة 2 بكالوريا علوم رياضية |
|------------------|---|------------------------------|
| تمرين 1 : | | |
| | $z_1 = 3 + 3i = 3(1 + i) = 3\sqrt{2} \left(\frac{1}{\sqrt{2}} + \frac{1}{\sqrt{2}}i \right) = 3\sqrt{2} \left(\cos\left(\frac{f}{4}\right) + i \sin\left(\frac{f}{4}\right) \right) = \left[3\sqrt{2}; \frac{f}{4} \right]$ | |
| | $z_2 = 1 - i = \sqrt{2} \left(\frac{1}{\sqrt{2}} - \frac{1}{\sqrt{2}}i \right) = \sqrt{2} \left(\cos\left(-\frac{f}{4}\right) + i \sin\left(-\frac{f}{4}\right) \right) = \left[\sqrt{2}; -\frac{f}{4} \right]$ | |
| | $z_3 = -\sqrt{3} - i = 2 \left(\frac{-\sqrt{3}}{2} - \frac{1}{2}i \right) = 2 \left(\cos\left(\frac{7f}{6}\right) + i \sin\left(\frac{7f}{6}\right) \right) = \left[2; \frac{7f}{6} \right]$ | |
| | $z_4 = -\sqrt{2} + \sqrt{6}i = 2\sqrt{2} \left(-\frac{1}{2} + \frac{\sqrt{3}}{2}i \right) = 2\sqrt{2} \left(\cos\left(\frac{2f}{3}\right) + i \sin\left(\frac{2f}{3}\right) \right) = \left[2\sqrt{2}; \frac{f}{3} \right]$ | |
| | $z_5 = \frac{1}{7} + \frac{1}{7}i = \frac{1}{7}(1 + i) = \frac{\sqrt{2}}{7} \left(\frac{1}{\sqrt{2}} + \frac{1}{\sqrt{2}}i \right) = \left[\frac{\sqrt{2}}{7}; \frac{f}{4} \right]$ | |
| | $z_6 = -\cos(r) - i \sin(r) = \cos(r + f) + i \sin(r + f) = [1; r + f]$ | |
| | $z_7 = \sin(r) + i \cos(r) = \cos\left(\frac{f}{2} - r\right) + i \sin\left(\frac{f}{2} - r\right) = \left[1; \frac{f}{2} - r \right]$ | |
| | $z_8 = 1 - \cos(2s) + i \sin(2s) = 2\sin^2(s) + 2\sin(s)\cos(s)i = 2\sin(s)(\sin(s) + i \cos(s))$ | |
| | $z_8 = 2\sin(s) \left(\cos\left(\frac{f}{2} - s\right) + i \sin\left(\frac{f}{2} - s\right) \right) = \left[2\sin(s); \frac{f}{2} - s \right]$ | |
| | $(s \in]0, \frac{f}{2}[\Rightarrow 2\sin(s) > 0 : \text{لأن})$ | |
| | $z_9 = \cos(r) + \cos(s) + i(\sin(r) + \sin(s)) = 2\cos\left(\frac{r+s}{2}\right)\cos\left(\frac{r-s}{2}\right) + 2i\cos\left(\frac{r+s}{2}\right)\sin\left(\frac{r-s}{2}\right)$ | |
| | $z_9 = 2\cos\left(\frac{r+s}{2}\right) \left(\cos\left(\frac{r-s}{2}\right) + i \sin\left(\frac{r-s}{2}\right) \right) = \left[2\cos\left(\frac{r+s}{2}\right); \frac{r-s}{2} \right]$ | |
| | $(r, s) \in]0, \frac{f}{2}[^2 \Rightarrow \begin{cases} 0 < r < \frac{f}{2} \\ 0 < s < \frac{f}{2} \end{cases} \Rightarrow 0 < \frac{r+s}{2} < \frac{f}{2} \Rightarrow 2\cos\left(\frac{r+s}{2}\right) > 0 : \text{لأن})$ | |
| | <p>🌟 للتذكير، للحصول على الشكل المثلثي للعدد: $z = a + ib$ نعمل بمعيار العدد z أي نكتب: $z = r \left(\frac{a}{r} + i \frac{b}{r} \right)$</p> | |
| | <p>حيث $r = \sqrt{a^2 + b^2}$ ثم نبعث في جدول القيم الهامة عن الزاوية r التي تحقق: $\cos(r) = \frac{a}{r}$ و $\sin(r) = \frac{b}{r}$</p> | |
| | <p>🌟 ليس من الضروري اتباع الطريقة السابقة في كل الحالات، فمثلا إن تبين لنا عامل مشترك نعمل به أولا ثم نطبق الطريقة على العامل المحصل عليه (مثل z_1 و z_5)</p> | |
| | <p>🌟 حالات خاصة: $\forall a \in \mathbb{R}^{+*} \quad a = [a, 0]; -a = [a, f]; ai = \left[a, \frac{f}{2} \right]; -ai = \left[a, -\frac{f}{2} \right]$</p> | |
| | <p>🌟 يمكن استعمال خاصيات الكتابة المثلثية أحيانا لتحديد الشكل المثلثي لعدد عقدي، مثلا:</p> | |
| | $z_3 = -\sqrt{3} - i = -(\sqrt{3} + i) = -2 \left(\frac{\sqrt{3}}{2} + \frac{1}{2}i \right) = [-2; f] \times \left[1; \frac{f}{6} \right] = [-2; f] \times \left[2 \times 1; f + \frac{f}{6} \right] = \left[2; \frac{5f}{6} \right]$ | |

تمرين 2: $u = \sqrt{2+\sqrt{3}} + i\sqrt{2-\sqrt{3}}$

$$u^2 = 2 + \sqrt{3} + 2i\sqrt{2+\sqrt{3}}\sqrt{2-\sqrt{3}} - (2-\sqrt{3}) = 2\sqrt{3} + 2i = 4\left(\frac{\sqrt{3}}{2} + \frac{1}{2}i\right) = \left[4; \frac{f}{6}\right] \quad 1$$

نضع: $u = [r, r]$ حيث: $r \in]-f; f]$ و $r \in \mathbb{R}^{*+}$

$$\begin{cases} r = 2 \\ r \equiv \frac{f}{12} + kf / k \in \mathbb{Z} \end{cases} \text{ منه } \begin{cases} r = 2 \\ r \equiv \frac{f}{12} [f] \end{cases} \text{ منه } \begin{cases} r^2 = 4 \\ 2r \equiv \frac{f}{6} [2f] \end{cases} \text{ منه } u^2 = [r^2, 2r]$$

$$\begin{cases} r \in]-f; f] \\ r \equiv \frac{f}{12} + kf / k \in \mathbb{Z} \end{cases} \Rightarrow -f < \frac{f}{12} + kf \leq f \Rightarrow -1 - \frac{1}{12} < k \leq 1 - \frac{1}{12} \Rightarrow \frac{-13}{12} < k \leq \frac{11}{12} \quad 2$$

$$\Rightarrow (k=0 \text{ ou } k=-1) \Rightarrow \left(r = \frac{f}{12} \text{ ou } r = \frac{13f}{12}\right)$$

بما أن: $r \cos(r) = \sqrt{2+\sqrt{3}}$ و $r \sin(r) = \sqrt{2-\sqrt{3}}$ فإن: $\cos(r) > 0$ و $\sin(r) > 0$

$$\text{إذن: } r = \frac{f}{12} \text{ (لأن: } \cos\left(\frac{13f}{12}\right) < 0 \Rightarrow \frac{f}{2} < \frac{13f}{12} < \frac{3f}{2} \text{ بالتالي: } u = \left[2, \frac{f}{12}\right]$$

تمرين 3: $v = \frac{\sqrt{2+i\sqrt{2}}}{2}$ ، $u = \frac{\sqrt{3+i}}{2}$

$$v = \frac{\sqrt{2}}{2} + i\frac{\sqrt{2}}{2} = \left[1; \frac{f}{4}\right] \text{ ، } u = \frac{\sqrt{3}}{2} + \frac{1}{2}i = \left[1; \frac{f}{6}\right] \quad 1$$

$$\frac{u}{v} = \left[1; \frac{f}{6} - \frac{f}{4}\right] = \left[1; -\frac{f}{12}\right] \text{ ، وبما أن: } \left(\frac{\sqrt{3+i}}{\sqrt{2+i\sqrt{2}}}\right)^{12} = \left(\frac{\frac{\sqrt{3+i}}{2}}{\frac{\sqrt{2+i\sqrt{2}}}{2}}\right)^{12} = \left(\frac{u}{v}\right)^{12} \text{ لدينا:} \quad 2$$

$$\left(\frac{\sqrt{3+i}}{\sqrt{2+i\sqrt{2}}}\right)^{12} - 1 \text{ بالتالي: } \left(\frac{u}{v}\right)^{12} = \left[1^{12}; 12 \times \frac{-f}{12}\right] = [1; -f] = -1 \text{ فإن:}$$

$$\text{لدينا: } (\sqrt{3+i})^m = 2^m \left(\frac{\sqrt{3+i}}{2}\right)^m = 2^m \left[1; \frac{f}{6}\right]^m = 2^m \left[1; \frac{f}{6}m\right] = 2^m \left(\cos\left(\frac{f}{6}m\right) + i \sin\left(\frac{f}{6}m\right)\right) \text{ إذن:} \quad 3$$

$$(\sqrt{3+i})^m \in \mathbb{R} \Leftrightarrow \text{Im}\left((\sqrt{3+i})^m\right) = 0 \Leftrightarrow \sin\left(\frac{f}{6}m\right) = 0 \Leftrightarrow \frac{f}{6}m = kf / k \in \mathbb{Z} \Leftrightarrow m = 6k / k \in \mathbb{Z}$$

$$\begin{aligned} (1+i)^n + (1-i)^n &= 2^n \left(\left(\frac{1+i}{2}\right)^n + \left(\frac{1-i}{2}\right)^n \right) = 2^n \left(\left[1; \frac{fn}{4}\right] + \left[1; -\frac{fn}{4}\right] \right) \\ &= 2^n \left(\cos\left(\frac{fn}{4}\right) + i \sin\left(\frac{fn}{4}\right) + \cos\left(-\frac{fn}{4}\right) + i \sin\left(-\frac{fn}{4}\right) \right) \text{ لدينا لكل } \forall n \in \mathbb{N} \quad 4 \end{aligned}$$

$$(1+i)^n + (1-i)^n = 2^n \times 2 \cos\left(\frac{fn}{4}\right) = 2^{\left(\frac{n}{2}+1\right)} \cos\left(\frac{fn}{4}\right)$$

$$\text{لدينا: } v = \left[1; \frac{f}{4}\right] \text{ منه: } v^4 = [1; f] = -1 \text{ ، الآن بما أن } v \neq 1 \text{ فإن:} \quad 5$$

$$S = 1 + v + v^2 + v^3 + \dots + v^{2014} = 1 \times \frac{1 - v^{2015}}{1 - v} = \frac{1 - v^{2012} \times v^3}{1 - v} = \frac{1 - (v^4)^{503} \times v^3}{1 - v}$$

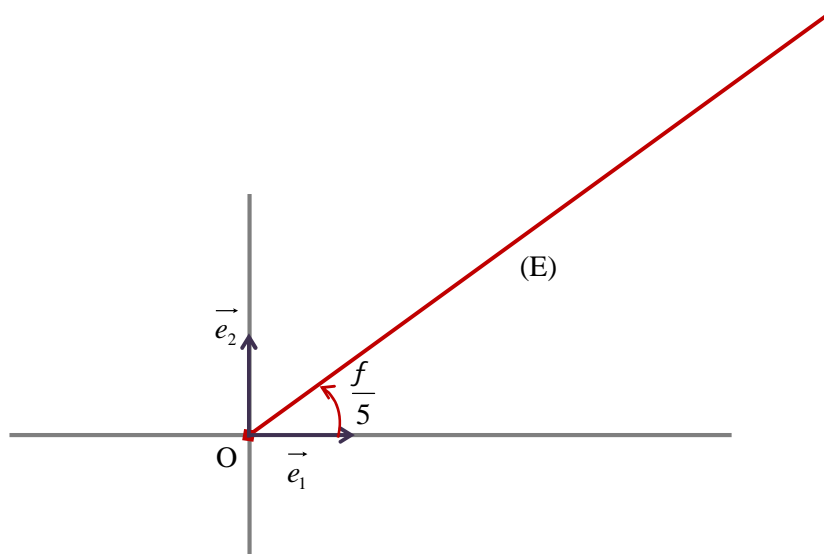
$$S = \frac{1 - (-1)^{503} \times v^3}{1 - v} = \frac{1 + v^3}{1 - v} = \frac{v + v^4}{v(1 - v)} = \frac{v - 1}{v(1 - v)} = \frac{-1}{v} = \frac{[1; f]}{\left[1; \frac{f}{4}\right]} = \left[1; \frac{3f}{4}\right] = \frac{-\sqrt{2}}{2} + i \frac{\sqrt{2}}{2}$$

$$|S| = 1$$

تمرين 4 : المستوى العقدي منسوب إلى م.م.م $(O, \vec{e}_1, \vec{e}_2)$

$$E = \left\{ M(z) / \arg(z) \equiv \frac{f}{5} [2f] \right\} = \left\{ M(z) / (\vec{e}_1, \overrightarrow{OM}) \equiv \frac{f}{5} [2f] \right\}$$

إذن : E هي نصف المستقيم الذي أصله (والمحروم منه) والذي يكون مع \vec{e}_1 الزاوية: $\frac{f}{5}$

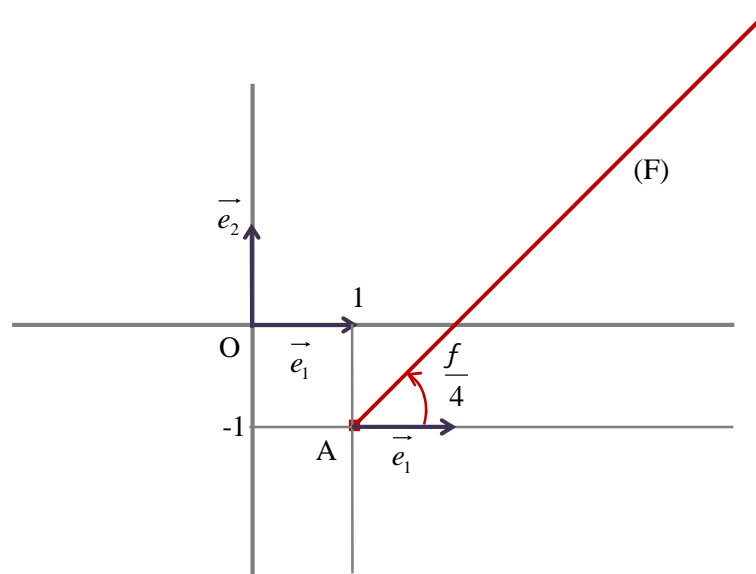


$$F = \left\{ M(z) / \arg(z - 1 + i) \equiv \frac{f}{4} [2f] \right\} = \left\{ M(z) / \arg(z - (1 - i)) \equiv \frac{f}{4} [2f] \right\}$$

نعتبر النقطة: $A(1 - i)$ ، إذن:

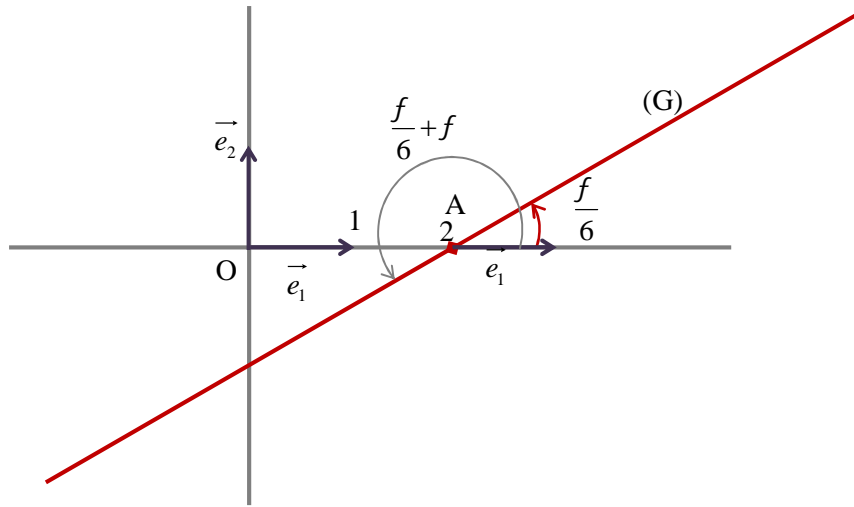
$$F = \left\{ M(z) / (\vec{e}_1, \overrightarrow{AM}) \equiv \frac{f}{4} [2f] \right\}$$

إذن : F هي نصف المستقيم الذي أصله A (والمحروم منه) والذي يكون مع \vec{e}_1 الزاوية: $\frac{f}{4}$



$$G = \left\{ M(z) / \arg(z-2i)^2 \equiv \frac{f}{3} [2f] \right\} = \left\{ M(z) / 2 \arg(z-2i) \equiv \frac{f}{3} [2f] \right\} = \left\{ M(z) / \arg(z-2i) \equiv \frac{f}{6} [f] \right\}$$

إذن باعتبار النقطة $A(2i)$ ، فإننا نستنتج أن G هي المستقيم المار من A (والمحروم منها) والذي يكون مع \vec{e}_1 الزاوية: $\frac{f}{6}$



تمرين 5: المستوى العقدي منسوب إلى م.م.م $(O, \vec{e}_1, \vec{e}_2)$ ، $j = \frac{-1}{2} + i\frac{\sqrt{3}}{2}$

$$\bar{j} = \frac{-1}{2} - i\frac{\sqrt{3}}{2} = \left[1; \frac{4f}{3}\right] ، j = \frac{-1}{2} + i\frac{\sqrt{3}}{2} = \left[1; \frac{2f}{3}\right] \quad 1$$

المثلث ABC متساوي الأضلاع يعني: $AC = BC$ و $\hat{ACB} = \frac{f}{3}$

حيث $A(a)$ و $B(b)$ و $C(c)$ أعداد عقدية معلومة

$$\text{يعني: } AC = BC \text{ و } (\overrightarrow{CA}, \overrightarrow{CB}) = \frac{f}{3} [2f] \text{ أو } AC = BC \text{ و } (\overrightarrow{CA}, \overrightarrow{CB}) = \frac{-f}{3} [2f]$$

$$\text{يعني: } |c-a| = |c-b| \text{ و } \arg\left(\frac{b-c}{a-c}\right) = \frac{f}{3} [2f] \text{ أو } |c-a| = |c-b| \text{ و } \arg\left(\frac{b-c}{a-c}\right) = \frac{-f}{3} [2f]$$

$$\text{يعني: } \left|\frac{c-b}{a-c}\right| = 1 \text{ و } \arg\left(-\left(\frac{c-b}{a-c}\right)\right) = \frac{f}{3} [2f] \text{ أو } \left|\frac{c-b}{a-c}\right| = 1 \text{ و } \arg\left(-\left(\frac{c-b}{a-c}\right)\right) = \frac{-f}{3} [2f]$$

$$\text{يعني: } \left|\frac{c-b}{a-c}\right| = 1 \text{ و } \arg\left(\frac{c-b}{a-c}\right) - f = \frac{f}{3} [2f] \text{ أو } \left|\frac{c-b}{a-c}\right| = 1 \text{ و } \arg\left(\frac{c-b}{a-c}\right) - f = \frac{-f}{3} [2f]$$

$$\text{يعني: } \left|\frac{c-b}{a-c}\right| = 1 \text{ و } \arg\left(\frac{c-b}{a-c}\right) = \frac{4f}{3} [2f] \text{ أو } \left|\frac{c-b}{a-c}\right| = 1 \text{ و } \arg\left(\frac{c-b}{a-c}\right) = \frac{2f}{3} [2f]$$

$$\text{يعني: } \frac{c-b}{a-c} = j \text{ أو } \frac{c-b}{a-c} = \bar{j} ، \text{ يعني: } c-b = j(a-c) \text{ أو } c-b = \bar{j}(a-c)$$

للتذكير، يكون مثلث متساوي الأضلاع إذا وفقط إذا كانت إحدى العبارات التالية صحيحة:

1) جميع أضلاعه متقايسة (2) جميع زواياه متقايسة (3) يوجد ضلعان متقايسان والزاوية المحصورة بينهما قياسها 60°

$$\arg(-z) = \arg(-1 \times z) = \arg(-1) + \arg(z) = f + \arg(z)$$

$$\arg(-z) = \arg\left(\frac{z}{-1}\right) = \arg(z) - \arg(-1) = \arg(z) - f$$

نعتبر في المستوى العقدي: $A(a)$ و $B(b)$ و $C(c)$ و $E(e)$ و $F(f)$ و $G(g)$ حيث a و b و c و e و f و g أعداد عقدية .

لدينا E مماثلة A بالنسبة لـ B إذن A منتصف $[BE]$ منه : $a = \frac{e+b}{2}$ منه : $e = 2a - b$

لدينا F مماثلة B بالنسبة لـ C إذن B منتصف $[CF]$ منه : $b = \frac{f+c}{2}$ منه : $f = 2b - c$

لدينا G مماثلة C بالنسبة لـ A إذن C منتصف $[AG]$ منه : $c = \frac{g+a}{2}$ منه : $g = 2c - a$

بما أن ABC مثلث متساوي الأضلاع فإن : $c - b = j(a - c)$ أو $c - b = \bar{j}(a - c)$

▪ إذا كان : $c - b = j(a - c)$ ، منه : $b = c - j(a - c) = (1 + j)c - ja$

$$\frac{g - f}{e - g} = \frac{2c - a - 2b + c}{2a - b - 2c + a} = \frac{2(c - b) + (c - a)}{3a - 3c - b + c} = \frac{2j(a - c) + (c - a)}{3(a - c) + (c - b)} = \frac{(a - c)(2j - 1)}{3(a - c) + j(a - c)}$$

$$\frac{g - f}{e - g} = \frac{(a - c)(2j - 1)}{(a - c)(3 + j)} = \frac{2j - 1}{3 + j}$$

3

وحيث أن : $j^2 + j + 1 = 0$ (راجع التمرين 3 من السلسلة 1) فإن : $j(3 + j) = 3j + j^2 = 3j - j - 1 = 2j - 1$

$$\frac{g - f}{e - g} = j \quad \text{إذن} \quad \frac{2j - 1}{3 + j} = j$$

▪ إذا كان : $c - b = \bar{j}(a - c)$ ، منه : $b = c - \bar{j}(a - c) = (1 + \bar{j})c - \bar{j}a$

$$\frac{g - f}{e - g} = \frac{2c - a - 2b + c}{2a - b - 2c + a} = \frac{2(c - b) + (c - a)}{3a - 3c - b + c} = \frac{2\bar{j}(a - c) + (c - a)}{3(a - c) + (c - b)} = \frac{(a - c)(2\bar{j} - 1)}{3(a - c) + \bar{j}(a - c)}$$

$$\frac{g - f}{e - g} = \frac{(a - c)(2\bar{j} - 1)}{(a - c)(3 + \bar{j})} = \frac{2\bar{j} - 1}{3 + \bar{j}} = \bar{j}$$

في جميع الحالات نجد أن : $\frac{g - f}{e - g} = j$ أو $\frac{g - f}{e - g} = \bar{j}$ ، بالتالي EFG هو أيضا مثلث متساوي الأضلاع.

التمرين رغم أنه يبدو صعبا لكنه مثال جيد لتوضيح أهمية الأعداد العقدية في حل كثير من المسائل الهندسية في أسطر قليلة، كما يوضح أهمية العدد j الذي أدرجنا بعض خواصه في تمرين سابق والتي من المستحسن حفظها واستعمالها عند الحاجة.