

1ere S Sciences math BIOF

EXERCICES AVEC SOLUTIONS FONCTIONS - Généralités

Exercice 1 : Déterminer l'ensemble de définition des fonctions suivantes définie par

1) $f(x) = 3x^2 - x + 1$. 2) $f(x) = \frac{x^3}{2x-4}$.

3) $f(x) = \frac{2x^4}{x^2-4}$. 4) $f(x) = \frac{7x-1}{x^3-2x}$.

5) $f(x) = \sqrt{-3x+6}$. 6) $f(x) = \frac{x-5}{2x^2-5x-3}$.

7) $f(x) = \sqrt{x^2-3x+2}$. 8) $f(x) = \sqrt{\frac{-3x+9}{x+1}}$.

9) $f(x) = \frac{x+1}{\sqrt{-2x^2+x+3}}$. 10) $f(x) = \frac{|x-5|}{x^2+1}$.

11) $f(x) = \frac{\sqrt{|x|}}{x}$. 12) $f(x) = \frac{\sqrt{x+2}}{x-1}$.

13) $f(x) = 3x^2 - \frac{1}{x} + \sqrt{-x}$.

14) $f(x) = \frac{x}{|2x-4|-|x-1|}$. 15) $f(x) = \frac{2 \sin x}{2 \cos x - 1}$.

16) $f(x) = \sqrt{\frac{-2x^2+2x+13}{x^2-x-6}}$.

17) $f(x) = \sqrt{x^2 + (2\sqrt{3} - \sqrt{2})x - 2\sqrt{6}}$

18) $f(x) = \frac{|x-4|-|x-1|}{x^2+2|x|-3}$

19) $f(x) = \sqrt{2x-1} + \sqrt{3-5x}$.

Solutions

1) $f(x) = 3x^2 - x + 1$

f Est une fonction polynôme donc Un réel a toujours une image. Donc $D_f = \mathbb{R}$

2) $f(x) = \frac{x^3}{2x-4}$.

Pour les fonctions du type fractions rationnelles, l'ensemble de définition est l'ensemble des nombres pour lesquels le dénominateur est non nul.

$D_f = \{x \in \mathbb{R} / 2x-4 \neq 0\}$

$2x-4=0$ ssi $x = \frac{4}{2} = 2$ Donc $D_f = \mathbb{R} - \{2\}$

On dira aussi que 2est une valeur interdite pour la fonction f

3) $f(x) = \frac{2x^4}{x^2-4}$.

$D_f = \{x \in \mathbb{R} / x^2-4 \neq 0\}$

$x^2-4=0$ ssi $x^2-2^2=0$ ssi $(x-2)(x+2)=0$

ssi $x-2=0$ ou $x+2=0$ ssi $x=2$ ou $x=-2$
donc $D_f = \mathbb{R} - \{-2;2\}$

4) $f(x) = \frac{7x-1}{x^3-2x}$.

$D_f = \{x \in \mathbb{R} / x^3-2x \neq 0\}$

$x^3-2x=0$ ssi $x(x^2-2)=0$ ssi $x=0$ ou

$x^2-2=0$ ssi $x=0$ ou $x^2=2$

ssi $x=0$ ou $x=\sqrt{2}$ ou $x=-\sqrt{2}$

donc $D_f = \mathbb{R} - \{-\sqrt{2};0;\sqrt{2}\}$

5) $f(x) = \sqrt{-3x+6}$.

Pour les fonctions du type racine carrée, l'ensemble de définition est l'ensemble des nombres pour lesquels l'intérieur de la racine est positif

$D_f = \{x \in \mathbb{R} / -3x+6 \geq 0\}$

$-3x+6 \geq 0$ ssi $x \leq 2$ ssi $x \leq \frac{-6}{-3}$ ssi $-3x \geq -6$

Donc $D_f =]-\infty;2]$

6) $f(x) = \frac{x-5}{2x^2-5x-3}$.

$D_f = \{x \in \mathbb{R} / 2x^2-5x-3 \neq 0\}$

$2x^2-5x-3=0$ $a=2$ et $b=-5$ et $c=-3$

$\Delta = b^2-4ac = (-5)^2-4 \times 2 \times (-3) = 25+24 = 49 = (7)^2 > 0$

$x_1 = \frac{-b+\sqrt{\Delta}}{2a}$ et $x_2 = \frac{-b-\sqrt{\Delta}}{2a}$

$x_1 = \frac{-(-5)+\sqrt{49}}{2 \times 2} = \frac{7+5}{4} = \frac{12}{4} = 3$ et

$x_2 = \frac{(-5)-\sqrt{49}}{2 \times 2} = \frac{5-7}{4} = \frac{-2}{4} = -\frac{1}{2}$

Donc $D_f = \mathbb{R} - \left\{-\frac{1}{2};3\right\}$

7) $f(x) = \sqrt{2x^2-3x+1}$.

$D_f = \{x \in \mathbb{R} / 2x^2-3x+1 \geq 0\}$ soit Δ son discriminant

$$\Delta = b^2 - 4ac = (-3)^2 - 4 \times 2 \times 1 = 9 - 8 = 1 > 0$$

$$x_1 = \frac{-(-3) + \sqrt{1}}{2 \times 2} = \frac{4}{4} = 1 \quad \text{et} \quad x_2 = \frac{-(-3) - \sqrt{1}}{2 \times 2} = \frac{2}{4} = \frac{1}{2}$$

x	$-\infty$	$1/2$	1	$+\infty$
$P(x)$	$+$	0	$-$	$+$

$$\text{Donc } D_f = \left] -\infty, \frac{1}{2} \right[\cup [1, +\infty[$$

$$8) f(x) = \sqrt{\frac{-9x+3}{x+1}}$$

$$D_f = \left\{ x \in \mathbb{R} / \frac{-9x+3}{x+1} \geq 0 \text{ et } x+1 \neq 0 \right\}$$

$$-9x+3=0 \text{ ssi } x = \frac{1}{3} \text{ ssi } -9x = -3$$

$$x+1=0 \text{ ssi } x = -1$$

x	$-\infty$	-1	$\frac{1}{3}$	$+\infty$
$-9x+3$	$+$	$+$	0	$-$
$x+1$	$-$	0	$+$	$+$
$\frac{-9x+3}{x+1}$	$-$	$+$	0	$-$

$$\text{Donc } D_f = \left] -1, \frac{1}{3} \right[$$

$$9) f(x) = \frac{x+1}{\sqrt{-2x^2+x+3}}$$

$$D_f = \left\{ x \in \mathbb{R} / -2x^2+x+3 > 0 \right\}$$

$$-2x^2+x+3=0 \quad a=-2 \text{ et } b=1 \text{ et } c=3$$

$$\Delta = b^2 - 4ac = (1)^2 - 4 \times (-2) \times 3 = 1 + 24 = 25 = (5)^2 > 0$$

Donc on a deux racines

$$x_1 = \frac{-1+5}{2 \times (-2)} = \frac{4}{-4} = -1 \quad \text{et} \quad x_2 = \frac{-1-5}{2 \times (-2)} = \frac{-6}{-4} = \frac{3}{2}$$

x	$-\infty$	-1	$3/2$	$+\infty$	
$-2x^2+x+3$	$-$	0	$+$	0	$-$

$$\text{Donc } D_f = \left[-1, \frac{3}{2} \right]$$

$$10) f(x) = \frac{|x-5|}{x^2+1} \quad D_f = \left\{ x \in \mathbb{R} / x^2+1 \neq 0 \right\}$$

$$x^2+1=0 \text{ ssi } x^2 = -1$$

Cette équation n'admet pas de solution dans \mathbb{R}

Donc $D_f = \mathbb{R}$

$$11) f(x) = \frac{\sqrt{|x|}}{x}$$

$$f(x) \in \mathbb{R} \text{ ssi } \sqrt{|x|} \in \mathbb{R} \text{ et } x \neq 0$$

Or on sait que $|x| \geq 0$ pour tout $x \in \mathbb{R}$

Donc $f(x) \in \mathbb{R} \text{ ssi } x \neq 0$

$$\text{Donc } D_f = \mathbb{R} - \{0\} = \mathbb{R}^*$$

$$12) f(x) = \frac{\sqrt{x+2}}{x-1} \quad D_f = \{x \in \mathbb{R} / x+2 \geq 0 \text{ et } x-1 \neq 0\}$$

$$D_f = \{x \in \mathbb{R} / x \geq -2 \text{ et } x \neq 1\}$$

$$D_f = [-2, 1[\cup]1, +\infty[$$

$$13) f(x) = 3x^2 - \frac{1}{x} + \sqrt{-x}$$

$$D_f = \{x \in \mathbb{R} / -x \geq 0 \text{ et } x \neq 0\}$$

$$D_f = \{x \in \mathbb{R} / x \leq 0 \text{ et } x \neq 0\}$$

$$D_f =]-\infty, 0[$$

$$14) f(x) = \frac{x}{|2x-4| - |x-1|}$$

$$D_f = \{x \in \mathbb{R} / |2x-4| - |x-1| \neq 0\}$$

$$|2x-4| - |x-1| = 0 \text{ ssi } |2x-4| = |x-1|$$

$$\text{ssi } 2x-4 = x-1 \text{ ou } 2x-4 = -(x-1)$$

$$\text{ssi } 2x-x = 4-1 \text{ ou } 2x-4 = -x+1$$

$$\text{ssi } x = 3 \text{ ou } 2x+x = 4+1$$

$$\text{ssi } x = 3 \text{ ou } 3x = 5 \text{ ssi } x = 3 \text{ ou } x = \frac{5}{3}$$

$$\text{Donc : } D_f = \mathbb{R} - \left\{ \frac{5}{3}; 3 \right\}$$

$$15) f(x) = \frac{2 \sin x}{2 \cos x - 1} \quad D_f = \{x \in \mathbb{R} / 2 \cos x - 1 \neq 0\}$$

$$2 \cos x - 1 = 0 \text{ ssi } \cos x = \frac{1}{2}$$

$$\cos x = \frac{1}{2} \text{ ssi } \cos x = \cos\left(\frac{\pi}{3}\right)$$

$$x = \frac{\pi}{3} + 2k\pi \text{ ou } x = -\frac{\pi}{3} + 2k\pi \text{ où } k \in \mathbb{Z}$$

$$\text{Donc : } D_f = \mathbb{R} - \left\{ -\frac{\pi}{3} + 2k\pi; \frac{\pi}{3} + 2k\pi / k \in \mathbb{Z} \right\}$$

$$16) f(x) = \sqrt{\frac{-2x^2+2x+13}{x^2-x-6}}$$

$$D_f = \left\{ x \in \mathbb{R} / \frac{-2x^2+2x+13}{x^2-x-6} \geq 0 \text{ et } x^2-x-6 \neq 0 \right\}$$

- On détermine les racines du trinôme

$$-2x^2+2x+13:$$

Le discriminant est $\Delta' = 2^2 - 4 \times (-2) \times 13 = 108$ et ses racines sont :

$$x_1 = \frac{-2 - \sqrt{108}}{2 \times (-2)} = \frac{1 + 3\sqrt{3}}{2} \text{ et } x_2 = \frac{-2 + \sqrt{108}}{2 \times (-2)} = \frac{1 - 3\sqrt{3}}{2}$$

- On détermine les racines du trinôme $x^2 - x - 6$:

Le discriminant est $\Delta = (-1)^2 - 4 \times (-6) \times 1 = 25$ et ses racines sont :

$$x_1' = \frac{-(-1) - \sqrt{25}}{2 \times 1} = \frac{1 - 5}{2} = -2 \text{ et}$$

$$x_2' = \frac{-(-1) + \sqrt{25}}{2 \times 1} = \frac{1 + 5}{2} = 3$$

- On obtient le tableau de signe :

x	$-\infty$	$\frac{1-3\sqrt{3}}{2}$	-2	3	$\frac{1+3\sqrt{3}}{2}$	$+\infty$	
$-2x^2+2x+13$	-	0	+	+	+	0	-
x^2-x-6	+	+	0	-	0	+	+
$\frac{-2x^2+2x+13}{x^2-x-6}$	-	0	+	-	+	0	-

$$D_f = \left[\frac{1-3\sqrt{3}}{2}; -2 \right] \cup \left[3; \frac{1+3\sqrt{3}}{2} \right]$$

$$17) f(x) = \sqrt{x^2 + (2\sqrt{3} - \sqrt{2})x - 2\sqrt{6}}$$

$$D_f = \left\{ x \in \mathbb{R} / x^2 + (2\sqrt{3} - \sqrt{2})x - 2\sqrt{6} \geq 0 \right\}$$

$$\Delta = b^2 - 4ac = (2\sqrt{3} + \sqrt{2})^2 - 4 \times 1 \times 2\sqrt{6}$$

$$\Delta = 12 - 4\sqrt{6} + 2 + 8\sqrt{6} = 14 + 4\sqrt{6}$$

$$14 + 4\sqrt{6} = 14 + 2 \times 2\sqrt{3} \times \sqrt{2} = (2\sqrt{3})^2 + 2 \times 2\sqrt{3} \times \sqrt{2} + (\sqrt{2})^2$$

$$14 + 4\sqrt{6} = (2\sqrt{3} + \sqrt{2})^2$$

On a $\Delta = 14 + 4\sqrt{6} > 0$ donc

$$x_1 = \frac{-2\sqrt{3} + \sqrt{2} + \sqrt{14 + 4\sqrt{6}}}{2 \times 1} = \frac{-2\sqrt{3} + \sqrt{2} + |2\sqrt{3} + \sqrt{2}|}{2 \times 1}$$

$$\text{et } x_2 = \frac{-2\sqrt{3} + \sqrt{2} - |2\sqrt{3} + \sqrt{2}|}{2 \times 1}$$

$$x_1 = \frac{-2\sqrt{3} + \sqrt{2} + 2\sqrt{3} + \sqrt{2}}{2 \times 1} = \frac{2\sqrt{2}}{2} = \sqrt{2} \text{ et}$$

$$x_2 = \frac{-2\sqrt{3} + \sqrt{2} - 2\sqrt{3} - \sqrt{2}}{2 \times 1} = \frac{-4\sqrt{3}}{2} = -2\sqrt{3}$$

x	$-\infty$	$-2\sqrt{3}$	$\sqrt{2}$	$+\infty$	
$x^2 + (2\sqrt{3} - \sqrt{2})x - 2\sqrt{6}$	+	0	-	0	+

On a donc : $D_f =]-\infty; -2\sqrt{3}] \cup [\sqrt{2}; +\infty[$

$$18) f(x) = \frac{|x-4| - |x-1|}{x^2 + 2|x| - 3}$$

$$D_f = \{x \in \mathbb{R} / x^2 + 2|x| - 3 \neq 0\}$$

$$x^2 + 2|x| - 3 = 0 \Leftrightarrow |x|^2 + 2|x| - 3 = 0 \text{ on pose}$$

$|x| = X$ donc l'équation devient :

$$X^2 + 2X - 3 = 0$$

Le discriminant est $\Delta = 2^2 - 4 \times 1 \times (-3) = 16$ et ses solutions sont :

$$X_1 = \frac{-2 - \sqrt{16}}{2 \times 1} = -3 \text{ et } X_2 = \frac{-2 + \sqrt{16}}{2 \times 1} = 1$$

Donc on a : $|x| = -3$ et $|x| = 1$

$|x| = -3$ n'a pas de solution

$|x| = 1 \Leftrightarrow x = 1$ ou $x = -1$ donc $D_f = \mathbb{R} - \{-1; 1\}$

$$19) f(x) = \sqrt{2x-1} + \sqrt{3-5x}$$

$$D_f = \{x \in \mathbb{R} / 2x-1 \geq 0 \text{ et } 3-5x \geq 0\}$$

$$D_f = \left\{ x \in \mathbb{R} / x \geq \frac{1}{2} \text{ et } x \leq \frac{3}{5} \right\}$$

$$\text{Donc } D_f = \left[\frac{1}{2}; \frac{3}{5} \right]$$

Exercice 2 : Etudier la parité des fonctions suivantes définie par : 1) $f(x) = 3x^2 - 5$. 2)

$$f(x) = \frac{3}{x}$$

$$3) f(x) = \frac{x^2 - 1}{x} \quad 2) f(x) = x^2 + \frac{1}{x}$$

$$3) f(x) = \frac{|x|}{x^2 - 1} \quad 4) f(x) = \sqrt{1 - x^2}$$

$$5) f(x) = \frac{2x^3}{x^2 + 5} \quad 6) f(x) = |x| - \sqrt{2x^2 + 4}$$

$$7) f(x) = \frac{\sqrt{x}}{2} \quad 8) f(x) = \frac{x}{x-2}$$

Solutions :

1) Soit f une fonction tq : $f(x) = 3x^2 - 5$

Donc $D_f = \mathbb{R}$ car f est une fonction polynôme

- Pour tout réel x , si $x \in \mathbb{R}$, alors $-x \in \mathbb{R}$

$$f(-x) = 3(-x)^2 - 5 = 3x^2 - 5$$

$$f(-x) = f(x)$$

Donc f est une fonction paire,

$$2) f(x) = \frac{3}{x}$$

on a $g(x) \in \mathbb{R}$ ssi $x \neq 0$

donc $D_f = \mathbb{R}^*$

- Pour tout réel x , si $x \in \mathbb{R}^*$, alors $-x \in \mathbb{R}^*$

$$- f(-x) = \frac{3}{-x} = -\frac{3}{x}$$

$$f(-x) = -f(x)$$

Donc f est une fonction impaire,

$$3) f(x) = 2x^3 + x^2$$

h est une fonction polynôme donc Un réel a toujours une image. Donc $D_f = \mathbb{R}$

- Pour tout réel x , si $x \in \mathbb{R}$, alors $-x \in \mathbb{R}$

$$- f(-x) = 2(-x)^3 + (-x)^2 = -2x^3 + x^2$$

$$f(-x) = -(2x^3 - x^2) \neq -f(x)$$

Donc f est une fonction ni paire ni impaire,

$$3) f(x) = \frac{x^2 - 1}{x}$$

on a $f(x) \in \mathbb{R}$ ssi $x \neq 0$ donc $D_f = \mathbb{R}^*$

- Pour tout réel x , si $x \in \mathbb{R}^*$, alors $-x \in \mathbb{R}^*$

$$- f(-x) = \frac{(-x)^2 - 1}{-x} = -\frac{x^2 - 1}{x}$$

$$f(-x) = -f(x)$$

Donc f est une fonction impaire,

$$4) f(x) = x^2 + \frac{1}{x} \text{ on a } f(x) \in \mathbb{R} \text{ ssi } x \neq 0$$

$$\text{donc } D_f = \mathbb{R}^*$$

- Pour tout réel x , si $x \in \mathbb{R}^*$, alors $-x \in \mathbb{R}^*$

$$- f(-x) = (-x)^2 + \frac{1}{-x} = x^2 - \frac{1}{x} = \left(-x^2 + \frac{1}{x}\right)$$

$$f(-x) \neq -f(x)$$

Donc f est une fonction ni paire ni impaire,

$$5) f(x) = \frac{|x|}{x^2 - 1} \text{ on a } f(x) \in \mathbb{R} \text{ ssi } x^2 - 1 \neq 0$$

$$x^2 - 1 = 0 \text{ ssi } x^2 = 1 \text{ ssi } x = 1 \text{ ou } x = -1$$

$$\text{donc } D_f = \mathbb{R} - \{-1; 1\}$$

- Pour tout réel x , si $x \in \mathbb{R} - \{-1; 1\}$, alors

$$-x \in \mathbb{R} - \{-1; 1\}$$

$$- f(-x) = \frac{|-x|}{(-x)^2 - 1} = \frac{|x|}{x^2 - 1}$$

$$f(-x) = f(x)$$

Donc f est une fonction paire

$$6) f(x) = \sqrt{1-x^2}$$

$$D_f = \{x \in \mathbb{R} / 1-x^2 \geq 0\}$$

$$1-x^2 = 0 \text{ ssi } x^2 = 1 \text{ ssi } x = 1 \text{ ou } x = -1$$

x	$-\infty$	-1	1	$+\infty$	
$1-x^2$	$-$	0	$+$	0	$-$

$$\text{Donc } D_f = [-1, 1]$$

- Pour tout réel x , si $x \in [-1, 1]$, alors

$$-x \in [-1, 1]$$

$$- f(-x) = \sqrt{1-(-x)^2} = \sqrt{1-x^2}$$

$$f(-x) = f(x)$$

Donc f est une fonction paire

$$7) f(x) = \frac{2x^3}{x^2 + 5}$$

$$D_f = \{x \in \mathbb{R} / x^2 + 5 \neq 0\}$$

$$x^2 + 5 = 0 \text{ ssi } x^2 = -5 \text{ pas de solutions}$$

$$\text{Donc } D_f = \mathbb{R}$$

- Pour tout réel x , si $x \in \mathbb{R}$, alors $-x \in \mathbb{R}$

$$- f(-x) = \frac{2(-x)^3}{(-x)^2 + 5} = \frac{-2x^3}{x^2 + 5}$$

$$f(-x) = -f(x)$$

Donc f est une fonction impaire

$$8) f(x) = |x| - \sqrt{2x^2 + 4}$$

$$D_f = \{x \in \mathbb{R} / 2x^2 + 4 \geq 0\}$$

Or on sait que $2x^2 \geq 0$ Pour tout réel x , donc

$$2x^2 + 4 \geq 0 + 4 \text{ donc } 2x^2 + 4 \geq 4 \geq 0$$

$$\text{Donc } D_f = \mathbb{R}$$

- Pour tout réel x , si $x \in \mathbb{R}$, alors $-x \in \mathbb{R}$

$$- f(-x) = |-x| - \sqrt{2(-x)^2 + 4} = |x| - \sqrt{2x^2 + 4}$$

$$f(-x) = f(x)$$

Donc f est une fonction paire

$$9) f(x) = \frac{\sqrt{x}}{2} \quad D_f = \{x \in \mathbb{R} / x \geq 0\} \text{ Donc}$$

$$D_f = \mathbb{R}^+ = [0; +\infty[$$

On a $2 \in \mathbb{R}^+$ mais $-2 \notin \mathbb{R}^+$ Donc f est une fonction ni paire ni impaire

$$8) f(x) = \frac{x}{x-2}$$

$$\text{on a } f(x) \in \mathbb{R} \text{ ssi } x-2 \neq 0 \text{ ssi } x \neq 2$$

$$\text{Donc } D_f = \mathbb{R} - \{2\}$$

$$\text{on a } -2 \in D_f \text{ mais } -(-2) = 2 \notin D_f$$

Donc D_f n'est pas symétrique par rapport a O

Donc f est une fonction ni paire ni impaire

Exercice 3 : Soit la fonction définie par :

$$5f(x) + f(-x) = 2x^3 - 3x \text{ Pour tout réel } x$$

1) montrer que f est une fonction impaire

2) donner une expression de $f(x)$ Pour tout réel x

Solution : soit $x \in \mathbb{R}$

$$\text{On a } 5f(x) + f(-x) = 2x^3 - 3x \text{ (1)}$$

Pour tout réel x

On remplaçant x par $-x$ on trouve :

$$5f(-x) + f(x) = 2(-x)^3 - 3(-x)$$

$$\text{Donc : } 5f(-x) + f(x) = -2x^3 + 3x \text{ (2)}$$

(1) + (2) donne : $6(f(-x) + f(x)) = 0$ donc :

$$f(-x) + f(x) = 0$$

$$\text{donc : } f(-x) = -f(x) \quad \forall x \in \mathbb{R}$$

Donc f est une fonction impaire

$$2) \text{ on a : } 5f(x) + f(-x) = 2x^3 - 3x$$

Et puisque f est une fonction impaire donc :

$$5f(x) - f(x) = 2x^3 - 3x$$

$$4f(x) = 2x^3 - 3x \Leftrightarrow f(x) = \frac{1}{2}x^3 - \frac{3}{4}$$

Exercice 4 : Soit la fonction définie par :

$$f(x) = \frac{|x|+1}{2|x|-3} \text{ et } (C_f) \text{ la courbe de } f \text{ Dans le}$$

repère $(0; \vec{i}; \vec{j})$ orthonormé

Montrer que (C_f) symétrique par rapport à l'axe des ordonnées

$$\text{Solution : } D_f = \{x \in \mathbb{R} / 2|x|-3 \neq 0\} = \left\{x \in \mathbb{R} / |x| \neq \frac{3}{2}\right\}$$

$$\text{Donc : } D_f = \mathbb{R} - \left\{-\frac{3}{2}; \frac{3}{2}\right\}$$

Il suffit de montrer que f est une fonction paire

- Pour tout réel x , si $x \in \mathbb{R} - \left\{-\frac{3}{2}; \frac{3}{2}\right\}$ alors

$$-x \in \mathbb{R} - \left\{-\frac{3}{2}; \frac{3}{2}\right\}$$

$$- f(-x) = \frac{|-x|+1}{2|-x|-3} = \frac{|x|+1}{2|x|-3} = f(x)$$

Donc f est une fonction paire

Par suite la (C_f) symétrique par rapport à l'axe des ordonnées

Exercice 5 : étudier les variations des fonctions définies par : 1) $f(x) = 7x - 5$ 2) $g(x) = \frac{2}{x}$

Solution : 1) f est une fonction polynôme donc

$$D_f = \mathbb{R}$$

Soit $x_1 \in \mathbb{R}$ et $x_2 \in \mathbb{R}$ tq $x_1 < x_2$

Donc $7x_1 < 7x_2$ car $7 > 0$

$$\text{Donc } 7x_1 - 5 < 7x_2 - 5$$

Alors $f(x_1) < f(x_2)$ d'où f que est strictement croissante sur \mathbb{R}

2) Soit g une fonction tq : $g(x) = \frac{2}{x}$

$$g(x) \in \mathbb{R} \text{ ssi } x \neq 0 \text{ Donc } D_g = \mathbb{R} - \{0\} = \mathbb{R}^*$$

a) Soit $x_1 \in [0; +\infty[$ et $x_2 \in [0; +\infty[$ tq $x_1 < x_2$

$$\text{Donc } \frac{1}{x_1} > \frac{1}{x_2} \text{ Donc } \frac{2}{x_1} > \frac{2}{x_2} \text{ car } 2 > 0$$

Alors $f(x_1) > f(x_2)$ d'où f que est strictement décroissante sur $[0; +\infty[$

b) Soit $x_1 \in]-\infty; 0]$ et $x_2 \in]-\infty; 0]$ tq $x_1 < x_2$

$$\text{Donc } \frac{1}{x_1} > \frac{1}{x_2} \text{ Donc } \frac{2}{x_1} > \frac{2}{x_2} \text{ car } 2 > 0$$

Alors $f(x_1) > f(x_2)$ d'où f que est strictement décroissante sur $]-\infty; 0]$

b) tableau de variation :

x	$-\infty$	0	$+\infty$
$f(x)$	↘		↘

Exercice 6 : étudier les variations de la fonction définie par: $f(x) = 3x^2 + 2$

Solution : $D_f = \mathbb{R}$

soient $x_1 \in \mathbb{R}$ et $x_2 \in \mathbb{R}$ tq $x_1 \neq x_2$ on a :

$$T(x_1; x_2) = 3(x_1 + x_2)$$

a) Soit $x_1 \in [0; +\infty[$ et $x_2 \in [0; +\infty[$

$$\text{Donc } x_1 \geq 0 \text{ et } x_2 \geq 0 \text{ Donc } x_1 + x_2 \geq 0$$

$$\text{Donc } 3(x_1 + x_2) \geq 0 \text{ car } 3 > 0$$

$$\text{Donc } T(x_1; x_2) = 3(x_1 + x_2) \geq 0$$

d'où f que est croissante sur $[0; +\infty[$

b) Soit $x_1 \in]-\infty; 0]$ et $x_2 \in]-\infty; 0]$

$$\text{Donc } x_1 \leq 0 \text{ et } x_2 \leq 0 \text{ Donc } x_1 + x_2 \leq 0$$

$$\text{Donc } 3(x_1 + x_2) \leq 0 \text{ car } 3 > 0$$

Donc $T(x_1; x_2) = 3(x_1 + x_2) \leq 0$

d'où f que est décroissante sur $]-\infty; 0]$

b) **résumé : tableau de variation :**

$f(0) = 3 \times 0^2 + 2 = 2$

x	$-\infty$	0	$+\infty$
$f(x)$	↘		↗

Exercice 7 : étudier les variations de la fonction

définie par : $g(x) = \frac{x}{x+1}$

Solution : $g(x) = \frac{x}{x+1}$ on a $g(x) \in \mathbb{R}$ ssi

$x+1 \neq 0$ ssi $x \neq -1$

Donc $D_g = \mathbb{R} - \{-1\}$

soient $x_1 \in D_g$ et $x_2 \in D_g$ tq $x_1 \neq x_2$ on a :

$T(x_1; x_2) = \frac{g(x_1) - g(x_2)}{x_1 - x_2}$

$g(x_1) - g(x_2) = \frac{x_1}{x_1+1} - \frac{x_2}{x_2+1} = \frac{x_1(x_2+1) - x_2(x_1+1)}{(x_1+1)(x_2+1)}$

$T(x_1; x_2) = \frac{x_1 - x_2}{(x_1+1)(x_2+1)} \times \frac{1}{x_1 - x_2} = \frac{1}{(x_1+1)(x_2+1)}$

a) sur $I =]-\infty; -1[$

Soit $x_1 \in]-\infty; -1[$ et $x_2 \in]-\infty; -1[$ $x_1 \neq x_2$

Donc $x_1 < -1$ et $x_2 < -1$ Donc $x_1 + 1 < 0$ et

$x_2 + 1 < 0$ Donc $(x_1 + 1)(x_2 + 1) > 0$

Donc $T(x_1; x_2) = \frac{1}{(x_1+1)(x_2+1)} > 0$ sur

$I =]-\infty; -1[$

d'où g que est strictement croissante sur

$I =]-\infty; -1[$

b) sur $J =]-1; +\infty[$

Soit $x_1 \in]-1; +\infty[$ et $x_2 \in]-1; +\infty[$ $x_1 \neq x_2$

Donc $x_1 > -1$ et $x_2 > -1$ Donc $x_1 + 1 > 0$

et $x_2 + 1 > 0$ Donc $(x_1 + 1)(x_2 + 1) > 0$

Donc $T(x_1; x_2) = \frac{1}{(x_1+1)(x_2+1)} > 0$

sur $J =]-1; +\infty[$

d'où g que est strictement croissante sur

$J =]-1; +\infty[$ **tableau de variation :**

x	$-\infty$	-1	$+\infty$
$f(x)$	↗		↗

Exercice 8 : Soit f une fonction : tq : $f(x) = x + \frac{1}{x}$

1) Déterminer D_f et étudier la parité de f

2) Calculer Le taux d'accroissement $T(x_1; x_2)$ de f entre x_1 et x_2 deux éléments de D_f

tq $x_1 \neq x_2$

3) Étudier les variations de f sur $I =]0; 1]$ puis sur $J = [1; +\infty[$

4) En déduire les variations de f sur D_f

5) Dresser le tableau de variations de f sur D_f

Réponses : 1) on a $f(x) \in \mathbb{R}$ ssi $x \neq 0$ Donc

$D_f = \mathbb{R} - \{0\} = \mathbb{R}^*$

- Pour tout réel x, si $x \in \mathbb{R}^*$, alors $-x \in \mathbb{R}^*$

$f(-x) = -x + \frac{1}{-x} = -x - \frac{1}{x} = -\left(x + \frac{1}{x}\right)$

$f(-x) = -f(x)$

Donc f est une fonction impaire,

2) $f(x_1) - f(x_2) = \left(x_1 + \frac{1}{x_1}\right) - \left(x_2 + \frac{1}{x_2}\right) = x_1 + \frac{1}{x_1} - x_2 - \frac{1}{x_2}$
 $= \frac{x_1^2 \times x_2 + x_2 - x_2^2 \times x_1 - x_1}{x_1 \times x_2} = \frac{x_1 \times x_2 (x_1 - x_2) + x_2 - x_1}{x_1 \times x_2}$

$= \frac{(x_1 - x_2)(x_1 \times x_2 - 1)}{x_1 \times x_2}$

$T(x_1; x_2) = \frac{(x_1 - x_2)(x_1 \times x_2 - 1)}{x_1 \times x_2} \times \frac{1}{x_1 - x_2} = \frac{x_1 \times x_2 - 1}{x_1 \times x_2}$

a) sur $I =]0; 1]$ Soit $x_1 \in]0; 1]$ et $x_2 \in]0; 1]$

Donc $0 < x_1 \leq 1$ et $0 < x_2 \leq 1$ $x_2 + 1 < 0$

Donc $0 < x_1 x_2 \leq 1$ et $x_1 \neq x_2$ Donc $x_1 x_2 - 1 < 0$

et on a $0 < x_1 x_2$ Donc $T(x_1; x_2) = \frac{x_1 \times x_2 - 1}{x_1 \times x_2} < 0$

d'où f que est strictement décroissante sur $I =]0; 1]$

b) sur $J = [1; +\infty[$ Soit $x_1 \in [1; +\infty[$ et $x_2 \in [1; +\infty[$

Donc $x_1 \geq 1$ et $x_2 \geq 1$ Donc $x_1 x_2 \geq 1$ et

$x_1 \neq x_2$ Donc $x_1 x_2 > 1$ Donc $x_1 x_2 - 1 > 0$

et on a $0 < x_1 x_2$ Donc $T(x_1; x_2) = \frac{x_1 \times x_2 - 1}{x_1 \times x_2} > 0$

d'où f que est strictement croissante sur $J = [1; +\infty[$

3) f est impaire et le symétrique de $I =]0; 1]$ est l'intervalle $I' = [-1; 0[$ et le symétrique de $J = [1; +\infty[$ est l'intervalle $J' =]-\infty; -1]$

Donc : f est strictement décroissante sur I
Donc f est strictement décroissante sur I'
f est strictement croissante sur J Donc f est strictement croissante sur J'

5) le tableau de variations de f sur D_f

$$f(x) = 1 + \frac{1}{x} = 2$$

x	$-\infty$	-1	0	1	$+\infty$
Variations de $f(x)$	↗ -2 ↘			↘ 2 ↗	

$$f(-1) = -1 - \frac{1}{1} = -2$$

Exercice 9 : étudier les variations des fonctions définies par: 1) $k(x) = \frac{6}{x}$ 2) $f(x) = x^2$ et

$$g(x) = -\frac{1}{2}x^2 \text{ et } h(x) = -\frac{1}{2}x^2 + 5$$

Réponses :

1) soit la fonction définie sur $[0; +\infty[$ par :

On sait que la fonction $v: x \rightarrow \frac{1}{x}$ est

décroissante sur $[0; +\infty[$ et puisque $6 > 0$ donc la fonction $k = 6v$ est aussi décroissante sur $[0; +\infty[$

2) $f(x) = x^2$ et $g(x) = -\frac{1}{2}x^2$ $D_f = D_g = \mathbb{R}$

On a $a = -\frac{1}{2} < 0$ Donc alors les fonctions f et

g ont des variation opposées sur \mathbb{R}
g et h ont les mêmes variations sur \mathbb{R}

x	$-\infty$	0	$+\infty$
$f(x)$	$+\infty$	↘ 0 ↗	$+\infty$

x	$-\infty$	0	$+\infty$
$g(x)$		↗ 0 ↘	

Exercice 10 : Les fonction f et g définies respectivement par :

$$f(x) = \sqrt{\frac{x-1}{x+3}} \text{ et } g(x) = \frac{\sqrt{x-1}}{\sqrt{x+3}}$$

Sont-elles égales ?

Réponse :

Déterminons leur ensemble de définition :

Pour f , on doit avoir : $\frac{x-1}{x+3} \geq 0$ et $x-1 \neq 0$

donc ce qui donne $D_f =]-\infty; -3[\cup [1; +\infty[$

Pour g, on doit avoir $x-1 \geq 0$ et $x+3 > 0$

ce qui donne $D_g = [1; +\infty[$

On a donc $D_f \neq D_g$. Les fonctions ne sont donc pas égales. On écrit : $f \neq g$

On remarquera cependant que sur $[1; +\infty[$ on a $f(x) = g(x)$

Exercice 11 : Soit f et g les fonctions numériques tel que: $f(x) = x+1$ et

$$g(x) = x^2 + x + 2$$

Comparer les fonctions f et g

Solution : $D_f = D_g = \mathbb{R}$

$$g(x) - f(x) = x^2 + x + 2 - (x+1) = x^2 + 1 > 0 \quad \forall x \in \mathbb{R}$$

Donc : $f(x) < g(x) \quad \forall x \in \mathbb{R}$ donc $f < g$

Exercice 12 : Soit f et g les fonctions

numériques tel que: $f(x) = x$ et $g(x) = \frac{1}{x}$

Comparer les fonctions f et g

Exercice 13 : Soient les deux

$$\text{fonctions : } f(x) = \frac{3x^2 + 1}{\sqrt{x^2}} \text{ et } g(x) = \frac{1 + 3x^2}{|x|}$$

Comparer les fonctions f et g

Solution :

- on a $f(x) \in \mathbb{R}$ ssi $\sqrt{x^2} \in \mathbb{R}$ et $x \neq 0$

or on sait que $x^2 \geq 0$ donc $\sqrt{x^2} \in \mathbb{R}$ pour tout $x \in \mathbb{R}$

alors $f(x) \in \mathbb{R}$ ssi $x \neq 0$ donc $D_f = \mathbb{R}^*$

- on a $g(x) \in \mathbb{R}$ ssi $|x| \neq 0$ ssi $x \neq 0$

donc $D_g = \mathbb{R}^*$

alors $D_f = D_g = \mathbb{R}^*$

on sait que $\sqrt{x^2} = |x|$ et $3x^2 + 1 = 1 + 3x^2$ donc

$f(x) = g(x)$

donc finalement on a trouvé que : $D_f = D_g = \mathbb{R}^*$

et $f(x) = g(x)$

Donc : $f = g$.

Exercice 14 : Soient les deux

fonctions : $h(x) = \frac{x^2 - x}{x}$ et $t(x) = x - 1$

Comparer les fonctions f et g

Solution :

- on a $h(x) \in \mathbb{R}$ ssi $x \neq 0$ donc $D_h = \mathbb{R}^*$

- on a $t(x)$ est un polynôme donc $D_t = \mathbb{R}$

donc $f \neq g$

Exercice 15 : Soit f la fonction numérique tel

que: $f(x) = \frac{(3x+1)(2-x)}{4x^2-1}$

Etudier le signe de la fonction f

Solution : $4x^2 - 1 \neq 0 \Leftrightarrow x \neq -\frac{1}{2}$ et $x \neq \frac{1}{2}$

Donc : $D_f = \mathbb{R} - \left\{ -\frac{1}{2}, \frac{1}{2} \right\}$

x	$-\infty$	$-\frac{1}{2}$	$-\frac{1}{3}$	$\frac{1}{2}$	2	$+\infty$	
3x+1	-	-	0	+	+	+	
2-x	+	+	+	+	0	-	
2x-1	-	-	-	0	+	+	
2x+1	-	0	+	+	+	+	
$\frac{(3x+1)(2-x)}{4x^2-1}$	-	+	0	-	+	0	-

$f(x) \geq 0$ ssi $x \in \left] -\frac{1}{2}; -\frac{1}{3} \right] \cup \left] \frac{1}{2}; 2 \right]$ donc $f \geq 0$

$\forall x \in \left] -\frac{1}{2}; -\frac{1}{3} \right] \cup \left] \frac{1}{2}; 2 \right]$

$f(x) \leq 0$ ssi $x \in \left] -\infty; -\frac{1}{2} \right[\cup \left[-\frac{1}{3}; \frac{1}{2} \right[\cup [2; +\infty[$

Exercice 16 : Soit f une fonction numérique

définie sur \mathbb{R} par : $f(x) = -x^2 + x$

Démontrer que f est majorée sur \mathbb{R} .

Solution : On met la fonction sous la forme canonique :

$$f(x) = -x^2 + x = -(x^2 - x) = -\left(\left(x - \frac{1}{2}\right)^2 - \frac{1}{4} \right) = -\left(x - \frac{1}{2}\right)^2 + \frac{1}{4}$$

On a : $-\left(x - \frac{1}{2}\right)^2 \leq 0$ donc $-\left(x - \frac{1}{2}\right)^2 + \frac{1}{4} \leq \frac{1}{4}$

donc : $f(x) \leq \frac{1}{4} \quad \forall x \in \mathbb{R}$

La fonction f est donc majorée sur \mathbb{R} par $M = \frac{1}{4}$

Exercice 17 : Montrer que la fonction g définie sur \mathbb{R} par $g(x) = 4\sin x - 3$ est Bornée.

Solution : On a $\forall x \in \mathbb{R} -1 \leq \sin x \leq 1$ donc

$$-4 \leq 4\sin x \leq 4$$

$$\text{donc } -4 - 3 \leq 4\sin x - 3 \leq 4 - 3$$

donc $-7 \leq g(x) \leq 1$ g est donc bornée sur \mathbb{R} .

Exercice 18 : Soit f une fonction numérique

$$\text{tq : } f(x) = \frac{1}{x^2 + 1}$$

1) Déterminer D_f

2) Démontrer que f est majorée sur \mathbb{R} .

3) Démontrer que f est minorée sur \mathbb{R} .

Conclure

Solution : 1) $D_f = \{x \in \mathbb{R} / x^2 + 1 \neq 0\}$

$$x^2 + 1 = 0 \Leftrightarrow x^2 = -1 \text{ pas de solution dans } \mathbb{R}$$

donc $D_f = \mathbb{R}$

2) On a $\forall x \in \mathbb{R} x^2 \geq 0$ donc $x^2 + 1 \geq 0 + 1$

$$\text{Donc } x^2 + 1 \geq 1 \text{ donc } \frac{1}{x^2 + 1} \leq 1$$

donc $f(x) \leq 1$ par suite f est donc majorée sur \mathbb{R} par $M = 1$

2) On a $\forall x \in \mathbb{R} x^2 \geq 0$ donc $x^2 + 1 \geq 0 + 1$

$$\text{Donc } x^2 + 1 \geq 1 \text{ donc } x^2 + 1 > 0$$

Donc : $0 < f(x)$

par suite f est donc minorée sur \mathbb{R} par $m = 0$

conclusion : $0 \leq f(x) \leq 1 \quad \forall x \in \mathbb{R}$

f est donc bornée sur \mathbb{R} .

Exercice 19 : Soit f une fonction numérique

$$\text{tq : } f(x) = \frac{2x^2 + 7x + 7}{x^2 + 3x + 3}$$

1) Déterminer D_f

2) Démontrer que f est minorée par 1.

3) Démontrer que f est majorée par $\frac{7}{3}$. Conclure

Solution : 1) $D_f = \{x \in \mathbb{R} / x^2 + 3x + 3 \neq 0\}$

$\Delta = -3 < 0$ pas de solution dans \mathbb{R} donc $D_f = \mathbb{R}$

2) soit $\forall x \in \mathbb{R}$

$$f(x) - 1 = \frac{2x^2 + 7x + 7}{x^2 + 3x + 3} - 1 = \frac{2x^2 + 7x + 7 - (x^2 + 3x + 3)}{x^2 + 3x + 3} = \frac{x^2 + 4x + 4}{x^2 + 3x + 3}$$

$$f(x) - 1 = \frac{(x+2)^2}{x^2 + 3x + 3} \text{ or } x^2 + 3x + 3 > 0 \text{ car } \Delta = -3 < 0$$

(signe de a=1)

Et on a : $(x+2)^2 \geq 0$ donc $f(x) \geq 1 \quad \forall x \in \mathbb{R}$

f est donc minorée sur \mathbb{R} par $m=1$

2) soit $\forall x \in \mathbb{R}$

$$f(x) - \frac{7}{3} = \frac{2x^2 + 7x + 7}{x^2 + 3x + 3} - \frac{7}{3} = \frac{-x^2}{3(x^2 + 3x + 3)} \leq 0$$

par suite f est majorée par $\frac{7}{3}$.

$$\text{conclusion : } 1 < f(x) \leq \frac{7}{3} \quad \forall x \in \mathbb{R}$$

f est donc bornée sur \mathbb{R} .

Exercice 20 : Soit f une fonction numérique

$$\text{tq : } f(x) = \frac{x-1}{x^2+x+m} \text{ avec } m \in \mathbb{R}$$

1) déterminer les valeurs de m pour que $D_f = \mathbb{R}$

2) Soit g la fonction numérique tq :

$$g(x) = \frac{1}{x+2} \text{ déterminer les valeurs de m pour}$$

que $\forall x \in \{-2;1\}$ on a : $f(x) = g(x)$

Solution :

$$1) D_f = \mathbb{R} \Leftrightarrow \forall x \in \mathbb{R} : x^2 + x + m \neq 0$$

$$x^2 + x + m \neq 0 \text{ ssi } \Delta = b^2 - 4ac = 1 - 4m < 0$$

$$\text{Ssi } m > \frac{1}{4}$$

$$2) f(x) = g(x) \quad \forall x \in \{-2;1\} \Leftrightarrow$$

$$\frac{x-1}{x^2+x+m} = \frac{1}{x+2}$$

$$\Leftrightarrow (x-1)(x+2) = x^2 + x + m \Leftrightarrow$$

$$x^2 + x - 2 = x^2 + x + m$$

$$f(x) = g(x) \quad \forall x \in \{-2;1\} \Leftrightarrow -2 = m$$

Exercice 21 : Soit f une fonction numérique

$$\text{tq : } f(x) = 5x^2 + 3$$

Montrer que f admet un minimum absolue sur \mathbb{R} que l'on déterminera

Solution : $D_f = \mathbb{R}$

On a pour tout $x \in \mathbb{R} \quad x^2 \geq 0$ Donc $5x^2 \geq 0$ car $5 > 0$

Par suite $5x^2 + 3 \geq 3$ et on a $f(0) = 3$

Donc pour tout $x \in \mathbb{R} \quad f(x) \geq f(0)$

d'où $f(0) = 3$ est un minimum absolue de f sur \mathbb{R}

Exercice 22 : Soit g une fonction numérique

$$\text{tq : } g(x) = -4x^2 + 1$$

Montrer que g admet un maximum absolue sur \mathbb{R} que l'on déterminera

Solution : $D_g = \mathbb{R}$

On a pour tout $x \in \mathbb{R} \quad x^2 \geq 0$ Donc $-4x^2 \leq 0$ car $-4 < 0$

Par suite $-4x^2 + 1 \leq 1$ et on a $g(0) = 1$

Donc pour tout $x \in \mathbb{R} \quad g(x) \leq g(0)$

d'où $g(0) = 1$ est un maximum absolue de g sur \mathbb{R}

Exercice 23 : Soit f une fonction numérique

$$\text{tq : } f(x) = -4x^2 + 4x + 5$$

1°a) montrer que $f(x) = 6 - (2x - 1)^2$ pour tout $x \in \mathbb{R}$

b) montrer que $f(x) \leq 6$ pour tout $x \in \mathbb{R}$

2° calculer : $f\left(\frac{1}{2}\right)$ et en déduire les

extrémums de f sur \mathbb{R}

Réponses: 1°a) on a $D_f = \mathbb{R}$

$$6 - (2x - 1)^2 = 6 - (4x^2 - 4x + 1)$$

$$= 6 - 4x^2 + 4x - 1 = -4x^2 + 4x + 5$$

Donc : $f(x) = 6 - (2x - 1)^2$

b) Donc pour tout $x \in \mathbb{R}$ on a $(2x - 1)^2 \geq 0$

Par suite $-(2x - 1)^2 \leq 0$ donc $6 - (2x - 1)^2 \leq 6$

Donc pour tout $x \in \mathbb{R} \quad f(x) \leq 6$

$$2^\circ \text{ on a } f\left(\frac{1}{2}\right) = 6 - \left(2 \times \frac{1}{2} - 1\right)^2 = 6 - (1 - 1)^2 = 6$$

on a pour tout $x \in \mathbb{R} \quad 6 - (2x - 1)^2 \leq 6$ alors

$$f(x) \leq f\left(\frac{1}{2}\right)$$

Donc $f\left(\frac{1}{2}\right) = 6$ est un maximum de f sur \mathbb{R}

Exercice 24 : Du tableau de variation

x	-5	-2	2	5
$f(x)$	5	0,5	2	-2

Déduire les extrémums de f

Solution :

Du tableau de variation on a :

Le nombre 2 est une valeur maximale de f au point $x_0 = 2$

Le nombre 0.5 est une valeur Minimale de f au point $x_0 = -2$

Exercice 25 : Soit f une fonction numérique

tq : $f(x) = -x^2 + 4x - 3$

Montrer que 1 est le maximum absolu de f sur \mathbb{R}

Solution : $D_f = \mathbb{R}$

Montrons donc que : $f(x) \leq 1$ et que l'équation

$f(x) = 1$ admet une solution dans \mathbb{R}

$f(x) - 1 = -x^2 + 4x - 3 - 1 = -x^2 + 4x - 4$

$f(x) - 1 = -(x^2 - 4x + 4) = -(x - 2)^2 \leq 0$

Donc $f(x) \leq 1 \forall x \in \mathbb{R}$ et on a :

$f(x) = 1 \Leftrightarrow f(x) - 1 = 0 \Leftrightarrow -(x - 2)^2 = 0 \Leftrightarrow x = 2$

Donc l'équation $f(x) = 1$ admet une solution dans \mathbb{R}

Et on a : $f(2) = 1$ donc : $f(x) \leq f(2) \forall x \in \mathbb{R}$

que $f(2) = 1$ est le maximum absolue de f sur \mathbb{R}

Exercice 26 : Soit f une fonction numérique

tq : $f(x) = \frac{2x^2 + 3}{x^2 + 1}$

1) Déterminer D_f

2) a) Démontrer que f est majorée par 3.

b) est ce que 3 est une valeur maximale de f ?

3) a) Démontrer que f est minorée par 2.

b) est ce que 2 est une valeur minimale de f ?

Solution :

1) $D_f = \{x \in \mathbb{R} / x^2 + 1 \neq 0\}$

$x^2 + 1 = 0 \Leftrightarrow x^2 = -1$ pas de solution dans \mathbb{R} donc $D_f = \mathbb{R}$

2) a) soit $\forall x \in \mathbb{R}$

$f(x) - 3 = \frac{2x^2 + 3}{x^2 + 1} - 3 = \frac{2x^2 + 3 - 3(x^2 + 1)}{x^2 + 1} = \frac{2x^2 + 3 - 3x^2 - 3}{x^2 + 1}$

Donc $f(x) - 3 = \frac{-x^2}{x^2 + 1} \leq 0$ par suite $f(x) \leq 3 \forall x \in \mathbb{R}$

f est donc majorée sur \mathbb{R} par $M = 3$

b) on remarque que : $f(0) = 3$

donc $f(x) \leq f(0) \forall x \in \mathbb{R}$

Donc 3 est une valeur maximale de f

2) a) soit $\forall x \in \mathbb{R}$

$f(x) - 2 = \frac{2x^2 + 3}{x^2 + 1} - 2 = \frac{2x^2 + 3 - 2(x^2 + 1)}{x^2 + 1} = \frac{2x^2 + 3 - 2x^2 - 2}{x^2 + 1}$

Donc $f(x) - 2 = \frac{1}{x^2 + 1} > 0$ par suite :

$0 < f(x) \forall x \in \mathbb{R}$

par suite f est donc minorée sur \mathbb{R} par $m = 2$

b) on remarque que : $f(x) > 2 \forall x \in \mathbb{R}$

2 n'est pas donc une valeur minimale de f

conclusion : $2 < f(x) \leq 3 \forall x \in \mathbb{R}$

f est donc bornée sur \mathbb{R} .

Exercice 27 : Soit f une fonction numérique

définie sur $]1; +\infty[$ par : $f(x) = \frac{\sqrt{x+1} - \sqrt{2}}{x-1}$

1) étudier le signe de f

2) a) Démontrer que f est majorée par $\frac{\sqrt{2}}{4}$.

b) est ce que $\frac{\sqrt{2}}{4}$ est une valeur maximale

de f ?

Solution : 1) soit $x \in]1; +\infty[$

$f(x) = \frac{\sqrt{x+1} - \sqrt{2}}{x-1} = \frac{(\sqrt{x+1} - \sqrt{2})(\sqrt{x+1} + \sqrt{2})}{(x-1)(\sqrt{x+1} + \sqrt{2})}$

$f(x) = \frac{x+1-2}{(x-1)(\sqrt{x+1} + \sqrt{2})} = \frac{x-1}{(x-1)(\sqrt{x+1} + \sqrt{2})}$

$f(x) = \frac{1}{\sqrt{x+1} + \sqrt{2}} > 0$

Donc $f(x) > 0$ si $x \in]1; +\infty[$

2) a) $x \in]1; +\infty[$ montrons que $f(x) \leq \frac{\sqrt{2}}{4}$

soit $x \in]1; +\infty[$ donc $x > 1$ cad $x+1 > 2$

donc $\sqrt{x+1} > \sqrt{2}$ donc $\sqrt{x+1} + \sqrt{2} > 2\sqrt{2}$

donc $\frac{1}{\sqrt{x+1} + \sqrt{2}} < \frac{1}{2\sqrt{2}}$

donc $f(x) < \frac{\sqrt{2}}{4} \forall x \in]1; +\infty[$

f est donc majorée sur \mathbb{R} par $M = 3$

conclusion : $2 < f(x) \leq 3 \forall x \in \mathbb{R}$

b) on remarque que : $f(0) = 3$

donc $f(x) \leq f(0) \forall x \in \mathbb{R}$

Donc 3 est une valeur maximale de f

f est donc bornée sur $]1; +\infty[$ par $\frac{\sqrt{2}}{4}$

b) puisque $f(x) \neq \frac{\sqrt{2}}{4} \forall x \in]1; +\infty[$

$\frac{\sqrt{2}}{4}$ N'est pas une valeur maximale de f

Exercice 28 : Soit f une fonction numérique

définie sur $]1; +\infty[$ par : $f(x) = \frac{\sqrt{x}-2}{\sqrt{x}+2}$

1) Déterminer D_f

2) Démontrer que -1 est la valeur minimal de f

3) Démontrer que f est majorée par 1 et est-ce que 1 est une valeur maximale de f ?

Solution : 1)

$D_f = \{x \in \mathbb{R} / \sqrt{x}+2 \neq 0 \text{ et } x \geq 0\} = \{x \in \mathbb{R} / \sqrt{x} \neq -2 \text{ et } x \geq 0\}$

$D_f = [0; +\infty[$

2) Montrons donc que : $f(x) \geq -1$ et que

l'équation $f(x) = -1$ admet une solution dans \mathbb{R}^+

$f(x) - (-1) = f(x) + 1 = \frac{\sqrt{x}-2}{\sqrt{x}+2} + 1 = \frac{2\sqrt{x}}{\sqrt{x}+2} \geq 0$

Donc $f(x) \geq -1 \forall x \in \mathbb{R}^+$ et on a :

$f(x) = -1 \Leftrightarrow f(x) + 1 = 0 \Leftrightarrow \frac{2\sqrt{x}}{\sqrt{x}+2} = 0 \Leftrightarrow x = 0$

Donc l'équation $f(x) = -1$ admet une

solution dans \mathbb{R}^+

Et on a : $f(0) = -1$ donc : $f(x) \geq f(0) \forall x \in \mathbb{R}$

On dit que $f(0) = -1$ est le minimum absolue de f sur \mathbb{R}^+

3) soit $x \in \mathbb{R}^+ \quad f(x) - 1 = \frac{\sqrt{x}-2}{\sqrt{x}+2} - 1 = \frac{-4}{\sqrt{x}+2} < 0$

Donc $f(x) < 1 \forall x \in \mathbb{R}^+$

Donc f est donc majorée sur \mathbb{R}^+ par $M = 1$

Et puisque $f(x) = 1$ n'admet pas de solution dans \mathbb{R}^+

Donc 1 n'est pas une valeur maximale de f

f est donc bornée sur $]1; +\infty[$ par $\frac{\sqrt{2}}{4}$

b) puisque $f(x) \neq \frac{\sqrt{2}}{4} \forall x \in]1; +\infty[$

$\frac{\sqrt{2}}{4}$ n'est pas une valeur maximale de f

Exercice 28 : Soit f une fonction numérique tel que : $f(x) = x^2 - 2x + 3$

1) a) Démontrer que f est minorée.

b) est ce que f admet une valeur minimale ?

2) Démontrer que f est non majorée.

Solution : $D_f = \mathbb{R}$

1) a) $f(x) = x^2 - 2x + 3 = (x^2 - 2x + 1) + 2 = (x-1)^2 + 2$

Donc $f(x) - 2 = (x-1)^2 \geq 0$

donc : $f(x) \geq 2 \forall x \in \mathbb{R}$ donc que f est minorée par 2

et on a : $f(1) = 2$ donc : $f(x) \geq f(1) \forall x \in \mathbb{R}$

Donc f admet une valeur minimale c'est 2

2) Démontrons que f est non majorée.

Supposons f majorée donc :

$\exists M \in \mathbb{R} : f(x) \leq M \forall x \in \mathbb{R}$

$\Leftrightarrow \forall x \in \mathbb{R} : (x-1)^2 + 2 \leq M$

$\Leftrightarrow \forall x \in \mathbb{R} : (x-1)^2 \leq M - 2$

$\Leftrightarrow \forall x \in \mathbb{R} : \sqrt{(x-1)^2} \leq \sqrt{M-2}$ (on peut toujours supposer $M \geq 2$)

$\Leftrightarrow \forall x \in \mathbb{R} : |x-1| \leq \sqrt{M-2}$

Donc on a : $-\sqrt{M-2} \leq x-1 \leq \sqrt{M-2} \forall x \in \mathbb{R}$

Donc on a : $-\sqrt{M-2} + 1 \leq x \leq \sqrt{M-2} + 1 \forall x \in \mathbb{R}$ absurde

Donc f est non majorée

Exercice 29 : Soit f une fonction numérique

tq : $f(x) = 2x^2 - 4x - 2$

étudier les variations de f et dresser le tableau de variation et tracer la dans le repère $(O; \vec{i}; \vec{j})$

la courbe (C_f) de f

Solution : on a f est une fonction polynôme donc $D_f = \mathbb{R}$

On a $a = 2$ et $b = -4$ et $c = -2$

$(f(x) = ax^2 + bx + c)$

Donc $-\frac{b}{2a} = \frac{4}{2 \times 2} = 1$ et $(f(1) = 2 - 4 - 2 = -4)$

Pour tout réel $x \in \mathbb{R}$ on peut écrire sous la forme :

$$f(x) = a \left(x + \frac{b}{2a} \right)^2 - \frac{\Delta}{4a} = 2(x-1)^2 - 4$$

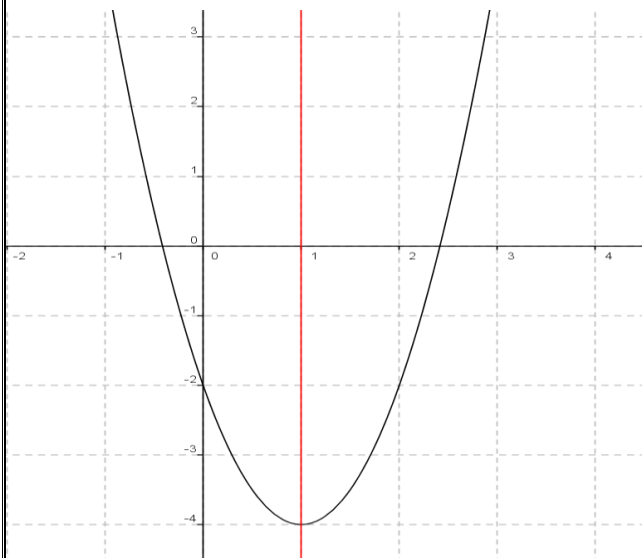
Soit $W(1; -4)$ Donc dans le repère $(0; \vec{i}; \vec{j})$ |

a courbe (C_f) c'est une parabole de sommet $W(1; -4)$ et d'axe de symétrie la droite $x = 1$

Tableau de variations de f

On a $a = 2 > 0$ donc :

x	$-\infty$	1	$+\infty$
$f(x)$			



$W(1; -4)$

Exercice 30 : Soit g une fonction numérique

tq : $g(x) = -\frac{1}{2}x^2 + 2x + 1$

étudier les variations de g et dresser le tableau de variation et tracer la dans le repère $(O; \vec{i}; \vec{j})$

la courbe (C_g) de g

Solution : $g(x) = -\frac{1}{2}x^2 + 2x + 1$

on a g est une fonction polynôme donc $D_g = \mathbb{R}$

On a $a = -\frac{1}{2}$ et $b = 2$ et $c = 1$ ($g(x) = ax^2 + bx + c$)

Donc $-\frac{b}{2a} = 2$ et $\beta = -\frac{\Delta}{4a} = -\frac{4+2}{-2} = 3$

Donc pour tout réel $x \in \mathbb{R}$ on peut écrire sous la

forme : $g(x) = a \left(x + \frac{b}{2a} \right)^2 - \frac{\Delta}{4a} = -\frac{1}{2}(x-2)^2 + 3$

$\left(g(2) = -\frac{1}{2}(2-2) + 3 = 3 \right)$

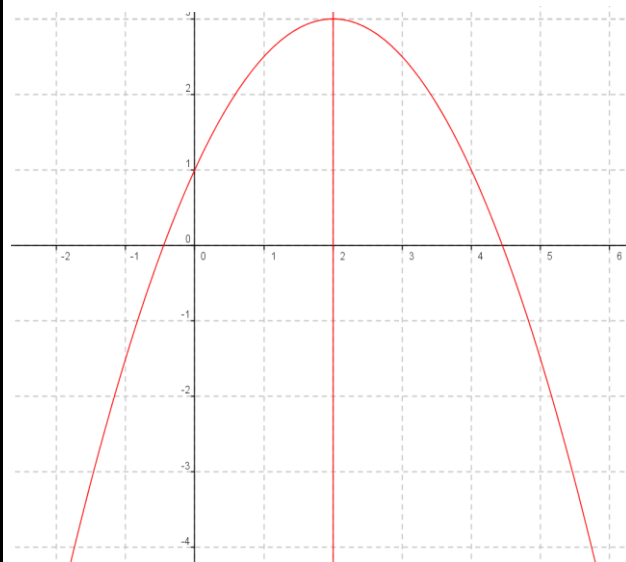
Soit $W(2; 3)$ Donc dans le repère $(0; \vec{i}; \vec{j})$ |

la courbe (C_g) c'est une parabole de sommet $W(2; 3)$ et d'axe de symétrie la droite $x = 2$

Tableau de variations de f

On a $a = -\frac{1}{2} < 0$ donc :

x	$-\infty$	2	$+\infty$
$f(x)$			



Exercice 31 Soit f une fonction numérique tq :

$f(x) = \frac{2x+1}{x-1}$

étudier les variations de f et dresser le tableau de variation et tracer la dans le repère $(O; \vec{i}; \vec{j})$

la courbe (C_f) de f

Solution :

on a $f(x) \in \mathbb{R}$ ssi $x-1 \neq 0$ ssi $x \neq 1$

Donc $D_f = \mathbb{R} - \{1\}$ $\Delta = \begin{vmatrix} 2 & 1 \\ 1 & -1 \end{vmatrix} = -2 - 1 = -3 < 0$

• Donc le tableau de variations de

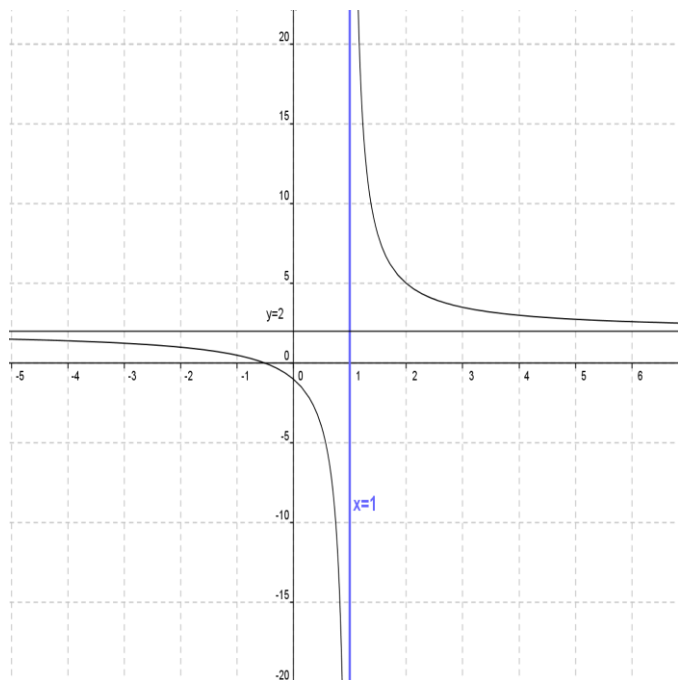
$x \longrightarrow \frac{2x+1}{x-1}$

x	$-\infty$	1	$+\infty$
$f(x)$	↘		↘

• Représentation graphique

(C_f) est l'hyperbole de centre $W(1;2)$ et d'asymptotes les droites d'équations respectives $x=1$ et $y=2$

-2	1-	0	1	2	3	4
1	$\frac{1}{2}$	-1		5	$\frac{7}{2}$	3



Exercice 32 : Soit f une fonction numérique tq :

$g(x) = \frac{-x}{x-2}$ étudier les variations de g et dresser le tableau de variation et tracer la dans le repère $(O; \vec{i}; \vec{j})$ la courbe (C_g) de g

Solution : on a $g(x) \in \mathbb{R}$ ssi $x-2 \neq 0$ ssi $x \neq 2$
Donc $D_g = \mathbb{R} - \{2\}$

$$\Delta = \begin{vmatrix} -1 & 0 \\ 1 & -2 \end{vmatrix} = 2 > 0$$

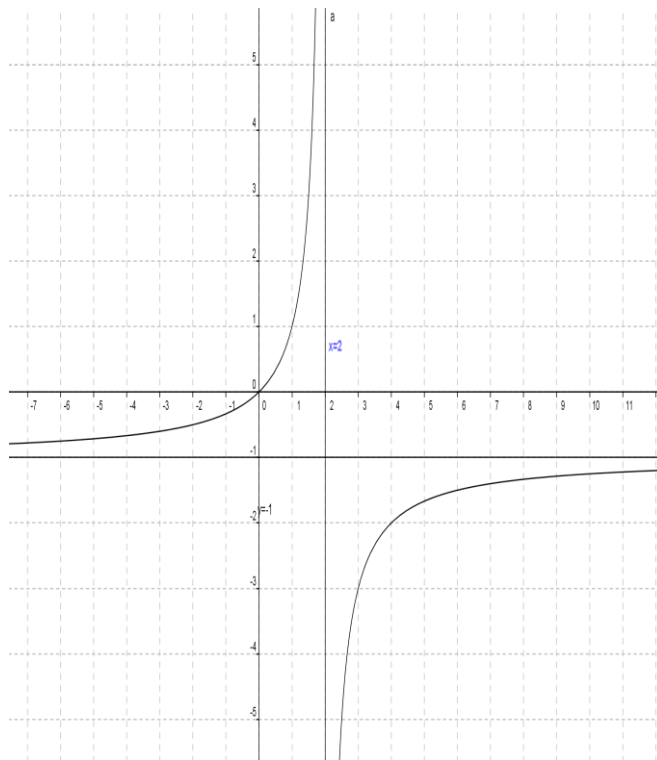
• Donc le tableau de variations

x	$-\infty$	2	$+\infty$
$f(x)$	↗		↗

• Représentation graphique

(C_f) est l'hyperbole de centre $W(2;-1)$ et d'asymptotes les droites d'équations respectives $x=2$ et $y=-1$

-1	0	1	2	3	4	5
-1/3	0	1		-3	-2	-5/3



Exercice 33 : Soit f une fonction numérique

définie par : $f(x) = \frac{1}{4}x^3$

- 1) Déterminer D_f
- 2) étudier les variations de f et dresser le tableau de variation
- 3) tracer la dans le repère $(O; \vec{i}; \vec{j})$ la courbe (C_f) de f

Solutions : 1) $D_f = x \in \mathbb{R}$

2) soient $x_1 \in \mathbb{R}$ et $x_2 \in \mathbb{R}$ tq $x_1 < x_2$

Donc : $x_1^3 < x_2^3$ Donc : $\frac{1}{4}x_1^3 < \frac{1}{4}x_2^3$

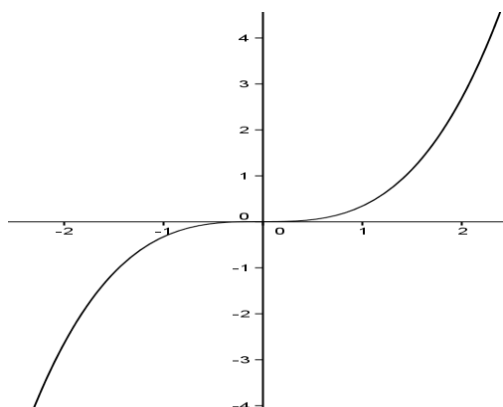
Donc : $f(x_1) < f(x_2)$

Donc f est strictement croissante

Tableau de variation

x	$-\infty$	$+\infty$
$f(x)$	↗	

x	-3	-2	-1	0	1	2	3
$f(x)$	6.5	-2	-1/4	0	1/4	2	6.5



Exercice 34 : Soit f une fonction numérique

définie par : $f(x) = \sqrt{x+2}$

1) Déterminer D_f

2) étudier les variations de f et dresser le tableau de variation

3) tracer la dans le repère $(O; \vec{i}; \vec{j})$ la courbe (C_f) de f

Solutions : 1)

$$D_f = \{x \in \mathbb{R} / x + 2 \geq 0\} = \{x \in \mathbb{R} / x \geq -2\} = [-2, +\infty[$$

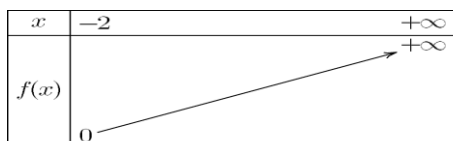
2) soient $x_1 \in [-2; +\infty[$ et $x_2 \in [-2; +\infty[$ tq $x_1 < x_2$

$$\text{Donc : } x_1 + 2 < x_2 + 2 \text{ Donc : } \sqrt{x_1 + 2} < \sqrt{x_2 + 2}$$

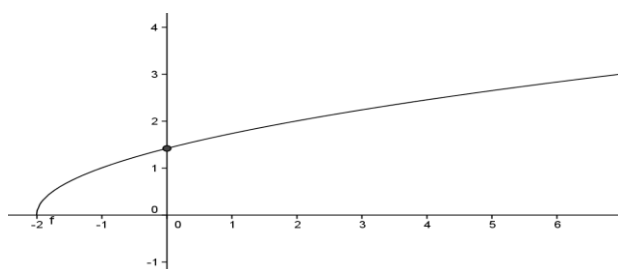
$$\text{Donc : } f(x_1) < f(x_2)$$

Donc f est strictement croissante

Tableau de variation :



x	-2	-1	0	2	7
$f(x)$	0	1	$\sqrt{2}$	2	3



Exercice 35 : calculer

$$E(4, 2); E(-3, 75); E(\sqrt{3}); E\left(\frac{1}{2}\right); E(\pi)$$

$$E\left(3 + \frac{1}{n}\right) = 3 + E\left(\frac{1}{n}\right)$$

Solutions : $E(4, 2) = 4$ $E(-3, 75) = -4$

$$E(\sqrt{3}) = 1; E\left(\frac{1}{2}\right) = 0$$

on a : $3 \leq \pi < 4$ donc $E(\pi) = 3$

2) on a : $E\left(3 + \frac{1}{n}\right) = 3 + E\left(\frac{1}{n}\right)$ or $0 \leq \frac{1}{n} < 1$ donc

$$E\left(\frac{1}{n}\right) = 0 \quad \text{Par suite :} \quad E\left(3 + \frac{1}{n}\right) = 3 + 0 = 3$$

Exercice 36 : Soit les fonctions f et g

tel que : $f(x) = x^2 - 2x + 3$ et $g(x) = 2x + 1$

Déterminer : $g \circ f$ et $f \circ g$

Solution : on a : $D_f = \mathbb{R}$ et $D_g = \mathbb{R}$ donc

$$D_{g \circ f} = \mathbb{R} \text{ et } D_{f \circ g} = \mathbb{R}$$

$$(g \circ f)(x) = g(f(x)) = g(x^2 - 2x + 3) = 2(x^2 - 2x + 3) + 1$$

$$(g \circ f)(x) = 2x^2 - 4x + 7$$

$$(f \circ g)(x) = f(g(x)) = f(2x + 1) = (2x + 1)^2 - 2(2x + 1) + 3$$

$$(f \circ g)(x) = 4x^2 + 4x + 1 - 4x - 2 + 3 = 4x^2 + 2$$

Exercice 37 : Soit les fonctions f et g définies

par : $f(x) = 3x + 4$ et $g(x) = \frac{1}{x+1}$

1) Déterminer $D_{g \circ f}$

2) déterminer : $(g \circ f)(x)$

Solution : 1) $D_{g \circ f} = \{x \in \mathbb{R} / x \in D_f \text{ et } f(x) \in D_g\}$

On a $D_f = \mathbb{R}$ et $D_g = \mathbb{R} - \{-1\}$ donc

$$D_{g \circ f} = \{x \in \mathbb{R} / x \in \mathbb{R} \text{ et } f(x) \neq -1\}$$

$$f(x) = -1 \Leftrightarrow 3x + 4 = -1 \Leftrightarrow 3x = -5 \Leftrightarrow -\frac{5}{3} = x$$

$$\text{donc : } D_{g \circ f} = \mathbb{R} - \left\{-\frac{5}{3}\right\}$$

2) on a : $D_f = \mathbb{R}$ et $D_g = \mathbb{R} - \{-1\}$

$$\text{et } D_{g \circ f} = \mathbb{R} - \left\{-\frac{5}{3}\right\}$$

$$(g \circ f)(x) = g(f(x)) = g(3x + 4) = \frac{1}{3x + 4 + 1}$$

$$(g \circ f)(x) = \frac{1}{3x+5}$$

Exercice 38 : Soit les fonctions f et g définies

$$\text{par : } g(x) = \frac{x}{x+2} \text{ et } f(x) = \frac{x+3}{x+1}$$

On pose : $h(x) = (g \circ f)(x)$

1) Déterminer D_h 2) déterminer : $h(x)$

3) Soit la fonction k définie par : $k(x) = \frac{x+3}{3x+5}$

Les fonctions h et k sont-elles égales ?

Solution : 1) on a : $D_f = \mathbb{R} - \{-1\}$ et

$$D_g = \mathbb{R} - \{-2\}$$

$$D_{g \circ f} = \left\{ x \in \mathbb{R} / x \in D_f \text{ et } f(x) \in D_g \right\}$$

$$D_{g \circ f} = \left\{ x \in \mathbb{R} / x \neq -1 \text{ et } f(x) \neq -2 \right\}$$

$$f(x) = -2 \Leftrightarrow \frac{x+3}{x+1} = -2$$

$$\Leftrightarrow -2(x+1) = x+3 \Leftrightarrow -3x = 5 \Leftrightarrow x = -\frac{5}{3}$$

$$\text{donc : } D_{g \circ f} = \mathbb{R} - \left\{ -\frac{5}{3}; -1 \right\}$$

$$h(x) = (g \circ f)(x) = g(f(x)) = g\left(\frac{x+3}{x+1}\right)$$

$$h(x) = \frac{\frac{x+3}{x+1}}{\frac{x+3}{x+1} + 2} = \frac{\frac{x+3}{x+1}}{\frac{x+3+2x+2}{x+1}} = \frac{x+3}{3x+5} = \frac{x+3}{3x+5}$$

$$\text{Donc : } h(x) = \frac{x+3}{3x+5}$$

3) Les fonctions h et k ne sont pas égales car ils n'ont pas le même ensemble de définition :

$$D_h = \mathbb{R} - \left\{ -\frac{5}{3}; -1 \right\} \text{ et } D_k = \mathbb{R} - \left\{ -\frac{5}{3} \right\}$$

Exercice 39 : exprimer les fonctions suivantes à l'aide de fonctions élémentaires :

$$1) h_1(x) = \frac{1}{3x-1} \quad 2) h_2(x) = \sqrt{x+3}$$

$$3) h_3(x) = 3\sqrt{x} + 4$$

Solution : 1) $h_1(x) = \frac{1}{3x-1}$ on a : $h_1(x) = (g \circ f)(x)$

$$\text{avec } f(x) = 3x-1 \text{ et } g(x) = \frac{1}{x}$$

$$2) h_2(x) = \sqrt{x+3} \text{ on a : } h_2(x) = (g \circ f)(x)$$

$$\text{avec } f(x) = x+3 \text{ et } g(x) = \sqrt{x}$$

$$3) h_3(x) = 3\sqrt{x} + 4 \text{ on a : } h_3(x) = (g \circ f)(x)$$

$$\text{avec } f(x) = \sqrt{x} \text{ et } g(x) = 3x+4$$

Exercice 40 : Soit f la fonction f définie sur un intervalle $[0; +\infty[$ tel que : $f(x) = -5x^2 + 7$

Décomposer la fonction f en fonctions élémentaire et étudier les variations de f

Solution :

$$v(x) = -5x + 7 \text{ et } u(x) = x^2$$

La fonction $f = v \circ u$

La fonction u est croissante sur $[0; +\infty[$ et

$u(x) = x^2 \in [0; +\infty[$ et v est décroissante sur $[0; +\infty[$ Donc d'après le théorème des fonctions composées, $f = v \circ u$ est décroissante sur $[0; +\infty[$

Exercice 41 : Soit la fonction h définie sur $]-\infty; 1]$ par $h(x) = \sqrt{1-x}$

1) Décomposer h en deux fonctions élémentaires.

2) Déterminer les variations de h .

Solution : 1) La fonction h se décompose de cette façon $h = g \circ f$

$$\text{on a alors : } f(x) = 1-x \text{ et } g(x) = \sqrt{x}$$

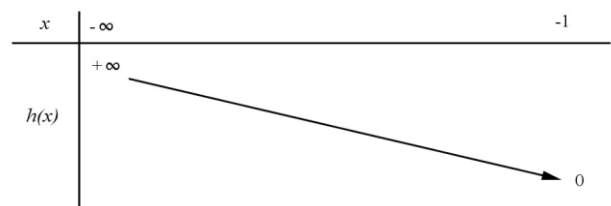
2) On sait que :

$$\Leftrightarrow f \text{ est décroissante sur }]-\infty; 1]$$

$$\Leftrightarrow g \text{ est croissante sur } f(]-\infty; 1]) = [0; +\infty[$$

Donc La fonction h décroissante sur $]-\infty; 1]$

On a alors le tableau de variation suivant



Exercice 42 : Montrer que la fonction

$f : x \rightarrow x - E(x)$ est périodique de période 1.

Solution : $D_f = \mathbb{R}$

$$a) \forall x \in \mathbb{R} \text{ on a } x+1 \in \mathbb{R}$$

$$b) \forall x \in \mathbb{R} \text{ on a :}$$

$$f(x+1) = x+1 - E(x+1) = x+1 - E(x) - 1 = f(x)$$

L'application f est donc périodique

de période 1.

Exercice 43 : 1) Quelle est la période des fonctions suivantes :

a) $f : x \rightarrow \sin(4x-1)$ b) $g : x \rightarrow \cos(5x)$

2) Trouver une fonction de période $T = \frac{3}{4}$

Solution : 1)a) $T = \frac{2\pi}{a} = \frac{2\pi}{4} = \frac{\pi}{2}$ 1)b) $T = \frac{2\pi}{5}$

2) Une fonction est. $h : x \rightarrow \cos(\frac{8\pi}{3}x)$

Exercice 44 : Soit f une fonction numérique définie sur \mathbb{R} et périodique de période $T = 2$ tel que : $f(x) = 2x - x^2 \quad \forall x \in [0; 2[$

1) Tracer la représentation graphique de la fonction sur $[-2; 8]$ dans un repère $(0; \vec{i}; \vec{j})$

2) calculer : $f(4.1)$; $f(-3.5)$; $f(265.11)$

3) donner l'expression de : $f(x) = 2x - x^2$ sur les intervalles : $I_k = [2k; 2(k+1)[\quad k \in \mathbb{Z}$

Solution : dans l'intervalle $I_0 = [0; 2[$ on a f est une fonction polynôme donc $D_f = \mathbb{R}$

On a $a = -1$ et $b = 2$ et $c = 0$

$(f(x) = ax^2 + bx + c)$

Donc $-\frac{b}{2a} = -\frac{-2}{2 \times (-1)} = 1$ et $(f(1) = 2 - 1 = 1)$

Donc la courbe (C_f) c'est une portion parabole de sommet $A(1;1)$ et d'axe de symétrie la droite $x = 1$

Pour Tracer la représentation graphique de la fonction sur $[-2; 8]$ il suffit de Tracer la représentation graphique de la fonction sur $I_0 = [0; 2[$

et utiliser les translation $2k\vec{i}$ avec $k \in \mathbb{Z}$

2) calculer :

$f(4.1) = f(2+2.1) = f(2.1) = f(2+0.1) = f(0.1)$

$f(4.1) = 2(0.1) - (0.1)^2 = 0.19$

$f(-3.5) = f(-4+0.5) = f(0.5)$

$f(-3.5) = 2(0.5) - (0.5)^2 = 0.75$

$f(265.11) = f(2 \times 132 + 1.11) = f(1.11)$

$f(1.11) = 2(1.11) - (1.11)^2 \approx 0.98$

3) l'expression de : $f(x) = 2x - x^2$ sur les intervalles : $I_k = [2k; 2(k+1)[\quad k \in \mathbb{Z}$

$x \in I_k = [2k; 2(k+1)[\Leftrightarrow 2k \leq x < 2(k+1)$

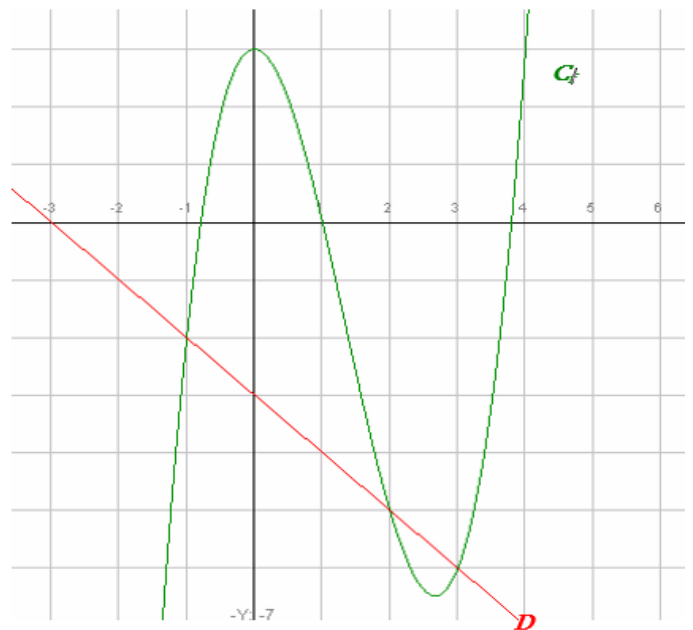
$x \in I_k \Leftrightarrow 0 \leq x - 2k < 2 \Leftrightarrow f(x - 2k) = f(x)$

$x \in I_k \Leftrightarrow f(x) = 2(x - 2k) - (x - 2k)^2$ avec

$k \leq \frac{x}{2} < k + 1$ cad $k = E\left(\frac{x}{2}\right)$

Exercice 45 : Soit la courbe (C_f) représentative de f telle que $f(x) = x^3 - 4x^2 + 3$ et la droite (D) d'équation $y = -x - 3$

1- Résoudre graphiquement l'équation $f(x) = 3$



puis l'inéquation $f(x) < 3$.

2- Résoudre graphiquement l'équation $f(x) = 0$

puis l'inéquation $f(x) \geq 0$

3- Résoudre graphiquement l'équation $f(x) = -x - 3$ puis l'inéquation $f(x) \leq -x - 3$

Réponses : 1) $f(x) = 3$ La solution est l'ensemble des antécédents de 3 : $S = \{0; 4\}$

2- $f(x) = 0$ La solution est l'ensemble des antécédents de 0 : $S = \{a; b\}$ Avec $-1 < a < -0.5$ et $3.5 < b < 4$

$f(x) \geq 0 \quad S = [a; 1] \cup [b; +\infty[$

3- $f(x) = -x - 3$ La solution l'ensemble des abscisses des points d'intersection de (C_f) et de D : $y = -x - 3$ donc $S = \{-1; 2; 3\}$

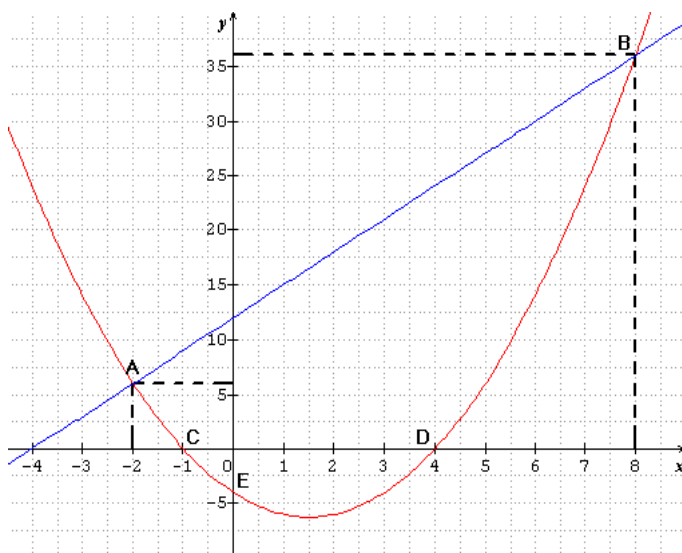
$f(x) \leq -x - 3 \quad S =]-\infty; -1] \cup [2; 3]$

Exercice 46 : Soient f et g les deux fonctions définies sur \mathbb{R} par : $f(x) = x^2 - 3x - 4$ et

$$g(x) = 3x + 12$$

- 1) Tracer Les courbes (C_f) et (C_g)
- 2) Résoudre graphiquement et algébriquement l'équation $f(x) = g(x)$
- 3) Résoudre graphiquement et algébriquement l'inéquation $f(x) \geq g(x)$
- 4) Trouver les points d'intersection de la courbe (C_f) avec les axes du repère

Réponses : 1) Les courbes représentatives (C_f) (en rouge) et (C_g) (en bleu) sont données dans le repère ci-dessous



2) a) résolution graphique de l'équation $f(x) = g(x)$

Il suffit de chercher les abscisses des points d'intersection des courbes (C_f) et (C_g)

On a donc $x = -2$ et $x = 8$ donc $S = \{-2; 8\}$

b) résolution algébrique de l'équation $f(x) = g(x)$

$$f(x) = g(x) \text{ ssi } x^2 - 3x - 4 = 3x + 12 \text{ ssi}$$

$$x^2 - 6x - 16 = 0$$

$$a = 1 \text{ et } b = -6 \text{ et } c = -16$$

$$\Delta = b^2 - 4ac = (-6)^2 - 4 \times 1 \times (-16) = 36 + 64 = 100 = (10)^2 > 0$$

$$x_1 = \frac{-b + \sqrt{\Delta}}{2a} \text{ et } x_2 = \frac{-b - \sqrt{\Delta}}{2a}$$

$$x_1 = \frac{-(-6) + \sqrt{100}}{2 \times 1} = \frac{6 + 10}{2} = \frac{16}{2} = 8 \text{ et}$$

$$x_2 = \frac{-(-6) - \sqrt{100}}{2 \times 1} = \frac{6 - 10}{2} = \frac{-4}{2} = -2$$

donc $S = \{-2; 8\}$

3) a) résolution graphique de l'inéquation $f(x) \geq g(x)$

La courbe (C_f) est au-dessus de (C_g) si

$$x \in]-\infty; -2[\cup]8; +\infty[$$

Donc $S =]-\infty; -2[\cup]8; +\infty[$

b) résolution algébrique de l'inéquation $f(x) \geq g(x)$

$$f(x) \geq g(x) \text{ ssi } x^2 - 3x - 4 \geq 3x + 12 \text{ ssi } x^2 - 6x - 16 \geq 0$$

Les racines sont : $x_1 = 8$ et $x_2 = -2$

x	$-\infty$	-2	8	$+\infty$	
$x^2 - 6x - 16$	$+$	0	$-$	0	$+$

Donc $S =]-\infty; -2[\cup]8; +\infty[$

5) a) Intersection de la courbe (C_f) avec l'axe des abscisses

Les points d'intersection C et D de la courbe (C_f) avec l'axe des abscisses ont leurs ordonnées nulles, et leurs abscisses sont les solutions de l'équation $f(x) = 0$

$$f(x) = 0 \text{ ssi } x^2 - 3x - 4 = 0$$

$$a = 1 \text{ et } b = -3 \text{ et } c = -4$$

$$\Delta = b^2 - 4ac = (-3)^2 - 4 \times 1 \times (-4) = 9 + 16 = 25 = (5)^2 > 0$$

$$x_1 = \frac{-(-3) + \sqrt{25}}{2 \times 1} = \frac{3 + 5}{2} = \frac{8}{2} = 4 \text{ et } x_2 = \frac{-(-3) - \sqrt{25}}{2 \times 1} = \frac{-2}{2} = -1$$

donc les points d'intersection de la courbe (C_f) avec l'axe des abscisses sont :

C(-1;0) et D(4;0)

b) Intersection de la courbe (C_f) avec l'axe des ordonnées

le point d'intersection de la courbe (C_f) avec l'axe des ordonnées a une abscisse nulle et on a $f(0) = 0^2 - 3 \times 0 - 4 = -4$

donc le point d'intersection de la courbe (C_f) avec l'axe des ordonnées est : $E(-4;0)$

Exercice 47 : Soient f et g les deux fonctions définies sur \mathbb{R} par : $f(x) = -x^2 - 2x + 3$ et

$g(x) = \frac{x-1}{x+2}$ et (C_f) et (C_g) Les courbes représentatives de f et g

1) dresser le Tableau de variations de f et de g

2) a) Trouver les points d'intersection de la courbe (C_f) avec l'axes des abscisses

b) Trouver le point d'intersection de la courbe (C_g) avec l' axes des abscisses

3) Tracer Les courbes représentatives (C_f) et (C_g) dans le même repère

4) a) Résoudre graphiquement l'équation $f(x) = g(x)$

b) Résoudre graphiquement l'inéquation $f(x) \geq g(x)$

Réponses : 1)a) $f(x) = -x^2 - 2x + 3$

on a f est une fonction polynôme donc $D_f = \mathbb{R}$

On a $a = -1$ et $b = -2$ et $c = 3$

$$(f(x) = ax^2 + bx + c)$$

$$\text{Donc } -\frac{b}{2a} = -\frac{-2}{2 \times (-1)} = -1 \text{ et } (f(-1) = 4)$$

Donc la courbe (C_f) c'est une parabole de sommet $A(-1;4)$

et d'axe de symétrie la droite $x = -1$

Donc le tableau de variations de f

x	$-\infty$	-1	$+\infty$
$f(x)$	↗ 4 ↘		

1)b) $g(x) = \frac{x-1}{x+2}$ on a $g(x) \in \mathbb{R}$ ssi $x+2 \neq 0$

ssi $x \neq -2$ Donc $D_g = \mathbb{R} - \{-2\}$

$$\Delta = \begin{vmatrix} 1 & -1 \\ 1 & 2 \end{vmatrix} = 2 + 1 = 3 > 0$$

(C_g) est l'hyperbole de centre $W(-2;1)$ et d'asymptotes les droites d'équations respectives $x = -2$ et $y = 1$

Donc le tableau de variations de g

x	$-\infty$	-2	$+\infty$
$g(x)$	↗		↗

2)a) Intersection de la courbe (C_f) avec l'axe des abscisses

Les points d'intersection C et D de la courbe (C_f) avec l'axe des abscisses ont leurs ordonnées nulles, et leurs abscisses sont les solutions de l'équation $f(x) = 0$

$$f(x) = 0 \text{ ssi } -x^2 - 2x + 3 = 0$$

$$\Delta = b^2 - 4ac = (-2)^2 - 4 \times 3 \times (-1) = 4 + 12 = 16 > 0$$

$$x_1 = \frac{-(-2) + \sqrt{16}}{2 \times (-1)} = \frac{2 + 4}{-2} = \frac{6}{-2} = -3 \text{ et}$$

$$x_2 = \frac{-(-2) - \sqrt{16}}{2 \times (-1)} = 1 \text{ donc les points d'intersection}$$

de la courbe (C_f) avec l'axe des abscisses sont :

$A(-3;0)$ et $B(1;0)$

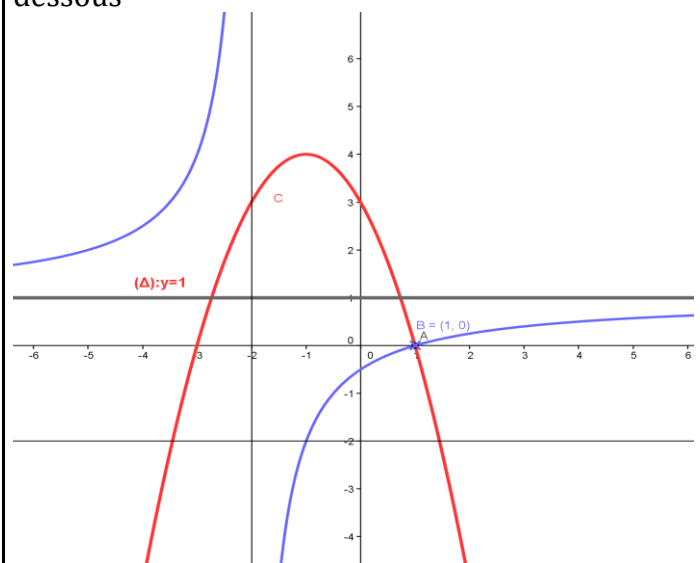
b) Intersection de la courbe (C_g) avec l'axe des abscisses

$$g(x) = 0 \text{ ssi } \Leftrightarrow \frac{x-1}{x+2} = 0 \Leftrightarrow x-1 = 0 \Leftrightarrow x = 1$$

le point d'intersection de la courbe (C_g) avec l'axe des abscisses est : $C(1;0)$

3) Représentation graphique

Les courbes représentatives (C_f) (en rouge) et (C_g) (en bleu) sont données dans le repère ci-dessous



4) a) résolution graphique de l'équation

$$f(x) = g(x)$$

Il suffit de chercher les abscisses des points d'intersection des courbes (C_f) et (C_g)

On a donc $x=1$ donc $S = \{1\}$

4) b) résolution graphique de l'inéquation

$$f(x) \geq g(x)$$

La courbe (C_f) est au-dessus de (C_g) si $x \in]-2; 1]$

Donc $S =]-2; 1]$

Exercice 48 : Soit f une fonction numérique tq :

$$f(x) = \sqrt{x+\sqrt{x}} - \sqrt{x}$$

1) Déterminer D_f

2) Démontrer que f est minorée.

3) Démontrer que f est majorée par $\frac{1}{2}$ Conclure

Solution : 1) $D_f = \{x \in \mathbb{R} / x \geq 0\} = \mathbb{R}^+$

2) soit $x \in \mathbb{R}^+$ on a $x + \sqrt{x} \geq x$

Donc : $\sqrt{x+\sqrt{x}} \geq \sqrt{x}$ donc

$$f(x) = \sqrt{x+\sqrt{x}} - \sqrt{x} \geq 0$$

f est donc minorée sur \mathbb{R}^+ par $m=0$

2) soit $x \in \mathbb{R}^+$

$$f(x) = \sqrt{x+\sqrt{x}} - \sqrt{x} = \frac{(\sqrt{x+\sqrt{x}} - \sqrt{x})(\sqrt{x+\sqrt{x}} + \sqrt{x})}{(\sqrt{x+\sqrt{x}} + \sqrt{x})} \geq 0$$

$$f(x) = \frac{x+\sqrt{x}-x}{(\sqrt{x+\sqrt{x}} + \sqrt{x})} = \frac{\sqrt{x}}{\sqrt{x}(\sqrt{\frac{x+\sqrt{x}}{x}} + 1)} = \frac{1}{\left(\sqrt{1+\frac{1}{\sqrt{x}}} + 1\right)}$$

Si $x \in \mathbb{R}^+ : \frac{1}{\sqrt{x}} > 0$ donc $1 + \frac{1}{\sqrt{x}} > 1$

donc $\sqrt{1+\frac{1}{\sqrt{x}}} > 1$ donc $\sqrt{1+\frac{1}{\sqrt{x}}} + 1 > 2$

donc $\frac{1}{\left(\sqrt{1+\frac{1}{\sqrt{x}}} + 1\right)} < \frac{1}{2}$ donc $f(x) < \frac{1}{2}$

et on a : $f(0) = 0 < \frac{1}{2}$ donc $\forall x \in \mathbb{R}^+ f(x) < \frac{1}{2}$

par suite f est majorée par $\frac{1}{2}$.

conclusion : $0 < f(x) < \frac{1}{2} \quad \forall x \in \mathbb{R}^+$

f est donc bornée sur \mathbb{R}^+ .

Exercice 49 : Soit f une fonction numérique tq :

$$f(x) = x^2 + 2x\sqrt{x} + x - 4$$

1) Démontrer que f admet une valeur minimale

3) Démontrer que f n'est pas majorée

Solution : 1) $D_f = \{x \in \mathbb{R} / x \geq 0\} = \mathbb{R}^+$

soit $x \in \mathbb{R}^+$

$$f(x) = x^2 + 2x\sqrt{x} + x - 4 = x^2 + 2x\sqrt{x} + (\sqrt{x})^2 - 4$$

$$f(x) = (x + \sqrt{x})^2 - 4 \text{ donc}$$

$$f(x) + 4 = (x + \sqrt{x})^2 \geq 0$$

donc $f(x) + 4 \geq 0$ donc $f(x) \geq -4$

et on a : $f(0) = -4$ donc $f(x) \geq f(0)$

donc $f(0) = -4$ est une valeur minimale de f au point $x_0 = 0$

2) Démontrons que f est non majorée.

Supposons f majorée donc :

$$\exists M \in \mathbb{R} : f(x) \leq M \quad \forall x \in \mathbb{R}^+$$

$$\Leftrightarrow \forall x \in \mathbb{R}^+ : (x + \sqrt{x})^2 - 4 \leq M$$

$$\Leftrightarrow \forall x \in \mathbb{R}^+ : (x + \sqrt{x})^2 \leq M + 4$$

$\Leftrightarrow \forall x \in \mathbb{R}^+ : x + \sqrt{x} \leq \sqrt{M + 4}$ (on peut toujours supposer $M \geq 0$)

$$\Leftrightarrow \forall x \in \mathbb{R}^+ : (\sqrt{x})^2 + 2 \times \frac{1}{2} \sqrt{x} + \left(\frac{1}{2}\right)^2 - \left(\frac{1}{2}\right)^2 \leq \sqrt{M + 4}$$

$$\Leftrightarrow \forall x \in \mathbb{R}^+ : \left(\sqrt{x} + \frac{1}{2}\right)^2 \leq \sqrt{M + 4} + \frac{1}{4}$$

$$\Leftrightarrow \forall x \in \mathbb{R}^+ : \sqrt{x} \leq \sqrt{\sqrt{M + 4} + \frac{1}{4}} - \frac{1}{2}$$

$$\Leftrightarrow \forall x \in \mathbb{R}^+ : x \leq \left(\sqrt{\sqrt{M + 4} + \frac{1}{4}} - \frac{1}{2}\right)^2 \text{ Absurde}$$

Donc f est non majorée

Exercice 50 : Soient f et g et h les trois fonctions définies par:

$$f(x) = \frac{6x^2 + 8x + 11}{(x-1)^2} \text{ et } g(x) = \frac{2x+3}{x-1} \text{ et}$$

$$h(x) = x^2 + 2$$

1) a) Étudier les variations de g et de h

b) Étudier le signe de la fonction g

2)montrer que : $\forall x \in \mathbb{R} - \{1\} : f(x) = (h \circ g)(x)$

3)Etudier les variations de f dans les intervalles :

$$]1; +\infty[; \left[-\frac{3}{2}; 1\right[; \left]-\infty; -\frac{3}{2}\right]$$

Réponses : 1)a) $g(x) = \frac{2x+3}{x-1}$

on a $g(x) \in \mathbb{R}$ ssi $x-1 \neq 0$ ssi $x \neq 1$

Donc $D_g = \mathbb{R} - \{1\}$ $\Delta = \begin{vmatrix} 2 & 3 \\ 1 & -1 \end{vmatrix} = -5 < 0$

(C_g) est l'hyperbole de centre $W(1;2)$ et d'asymptotes les droites d'équations respectives $x=1$ et $y=2$

Donc le tableau de variations de g

x	$-\infty$	1	$+\infty$
$g(x)$	↘		↘

1)ajon a h est une fonction polynôme donc $D_h = \mathbb{R}$

Donc le tableau de variations de h

x	$-\infty$	0	$+\infty$
$h(x)$	↘		↗

b)étudions le signe de la fonction g sur $\mathbb{R} - \{1\}$

x	$-\infty$	$-\frac{3}{2}$	1	$+\infty$
$2x+3$	-	0	+	+
$x-1$	-	-	0	+
$\frac{2x+3}{x-1}$	+	0	-	+

$$D_{g \circ f} = \{x \in \mathbb{R} / x \in D_f \text{ et } f(x) \in D_g\}$$

2)montrons que : $\forall x \in \mathbb{R} - \{1\} : f(x) = (h \circ g)(x)$

$$(h \circ g)(x) = h(g(x)) = h\left(\frac{2x+3}{x-1}\right)$$

$$(h \circ g)(x) = \left(\frac{2x+3}{x-1}\right)^2 + 2 = \frac{4x^2 + 12x + 9 + 2x^2 - 4x + 2}{(x-1)^2}$$

$$(h \circ g)(x) = \frac{6x^2 + 8x + 11}{(x-1)^2}$$

Donc $\forall x \in \mathbb{R} - \{1\} : f(x) = (h \circ g)(x)$

3)Etude des variations de f dans les intervalles :

a) sur $\left]-\infty; -\frac{3}{2}\right]$:

On a $\forall x \in \mathbb{R} - \{1\} : f(x) = (h \circ g)(x)$

Puisque g est décroissante sur $\left]-\infty; -\frac{3}{2}\right]$ et

$\forall x \in \left]-\infty; -\frac{3}{2}\right]$: $g(x) \in [0; +\infty[$ et h est

croissante sur $[0; +\infty[$ alors $f = h \circ g$ est

décroissante sur $\left]-\infty; -\frac{3}{2}\right]$

b) sur $\left[-\frac{3}{2}; 1\right[$

Puisque g est décroissante sur $\left[-\frac{3}{2}; 1\right[$ et

$\forall x \in \left[-\frac{3}{2}; 1\right[$: $g(x) \in]-\infty; 0]$ et h est

décroissante sur $]-\infty; 0]$ alors $f = h \circ g$ est

croissante sur $\left[-\frac{3}{2}; 1\right[$

c) sur $]1; +\infty[$:

Puisque g est décroissante sur $]1; +\infty[$ et

$\forall x \in]1; +\infty[$ $g(x) \in]0; +\infty[$ et h est croissante

sur $]0; +\infty[$ alors $f = h \circ g$ est décroissante sur

$]1; +\infty[$

Donc le tableau de variations de f :

x	$-\infty$	$-3/2$	1	$+\infty$
$f(x)$	↘		↗	↘

« C'est en forgeant que l'on devient forgeron »

Dit un proverbe.

C'est en s'entraînant régulièrement aux calculs et

exercices

Que l'on devient un mathématicien



Prof : Atmani najib