

امتحانات البكالوريا 2013: الجهوي الموحد  
( الدورة: العادية )  
- الموضوع -



المملكة المغربية  
وزارة التربية الوطنية  
الأكاديمية الجهوية للتربية والتكوين  
جهة مكناس- تافيلالت

الصفحة

1/2



خاص بالمرشحين للمدرسين

المستوى	الشعب أو المسالك	المادة	المعامل	مدة الإنجاز
1 من سلك البكالوريا	✓ علوم شرعية - علوم تجريبية - علوم رياضية ✓ علوم الاقتصاد و التدبير	التاريخ و الجغرافيا	2 3	ساعتان

مادة الجغرافيا: 10ن

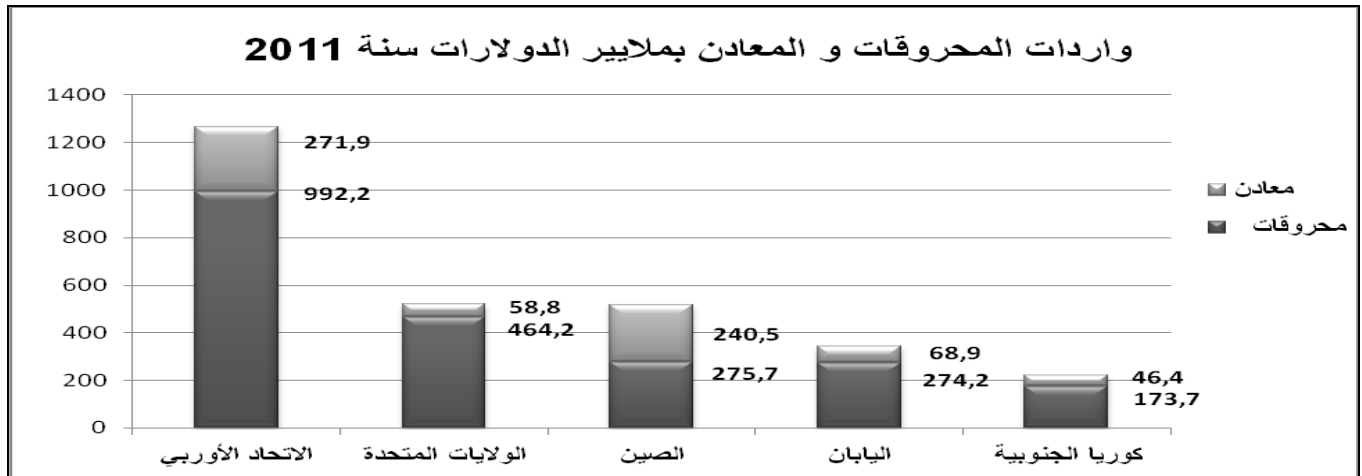
أمامك مجموعة من الوثائق، اقرأها بتمعن واعتمد ما درسته في إنجاز المطلوب.

الوثيقة رقم 1 :

"لا زالت الولايات المتحدة الأمريكية أول مستورد و أول مصدر عالمي للبضائع، و ذلك بفضل قيمة مبادلات بلغت 3746 مليار دولار أمريكي سنة 2011، بينما بلغ عجزها التجاري 785 مليار دولار، أي ما يعادل نسبة 5.2% من ناتجها الداخلي الخام.  
و تحتل الصين المرتبة الثانية العالمية في تجارة البضائع، و بلغ فائضها التجاري 155 مليار دولار أمريكي، أي ما يعادل نسبة 2.1% من الناتج الداخلي الخام.  
و تُرتب ألمانيا الثالثة عالميا، و سجلت فائضا تجاريا بلغ 218 مليار دولار أمريكي و يشكل نسبة 6.1% من الناتج الداخلي الخام."

OMC, Statistiques du commerce mondial 2012.

الوثيقة رقم 2:



Op .cit.

الوثيقة رقم 3:

"تستفيد 15% من الأسر بالولايات المتحدة الأمريكية من 'بطاقات التغذية' (food stamps). و توزع تلك البطاقات، حسب الولايات، على الأسر التي يقل دخلها عن عتبة الفقر أو يعادلها.  
إن عدد مستعملي تلك البطاقات عموما في تزايد مستمر، و يتجاوز في خمس ولايات هي مسيسيبي، التينيسي، لويزيانا، النيومكسيك و الأريغون نسبة 20% من مجموع السكان.  
إن 46.2 مليون أمريكي يعيشون تحت عتبة الفقر، من مجموع سكان الولايات المتحدة الأمريكية البالغ حوالي 300 مليون نسمة"


Le Monde, Le bilan du Monde, ed 2012, p 144.

المطلوب:

- 1- عرف ما تحته خط في الوثيقتين رقم 1 و رقم 3.....01.5ن  
- العجز التجاري - الناتج الداخلي الخام - عتبة الفقر.
- 2- استثمر الوثيقتين رقم 1 و رقم 2 في إبراز مظاهر قوة المبادلات الخارجية بكل من الولايات المتحدة و الصين، و اعتمد مكتسبك في تحديد العوامل الاقتصادية المفسرة لها.....03.5ن
- 3- استئناسا بمضمون الوثيقة رقم 2 و اعتمادا على مكتسبك، حدد دور القوة التجارية في اندماج دول الاتحاد الأوربي.....03ن
- 4- اعتمد الوثيقة رقم 3 و مكتسبك لتوضيح التحديات الاجتماعية التي تواجه الاقتصاد الأمريكي.....02ن

**مادة التاريخ: 10ن**


اكتب في واحد فقط من الموضوعين التاليين حسب اختيارك:

الموضوع الأول: 

أحدثت التطورات الاقتصادية و المالية التي عرفها العالم الرأسمالي، خاصة في بلدان أوربا الغربية، خلال القرن التاسع عشر الميلادي تحولات اجتماعية و فكرية طبعت الرأسمالية الأوربية في تلك المرحلة التاريخية.

اكتب موضوعا مقاليا، من مقدمة و عرض و خاتمة، تركز فيه على ما يلي:

- ✓ مظاهر التحولات الاجتماعية و العوامل المفسرة لها.
- ✓ مظاهر التحولات الفكرية و نتائجها.

الموضوع الثاني: 

>> منذ ابتعاد ليوطي سنة 1925 بدأ نظام الحماية يتخذ شيئا فشيئا شكل إدارة مباشرة إذ أصبح المقيم العام يأمر الحكومة الشريفة باتخاذ القرارات التي يريدها...بل إن الإقامة العامة كثيرا ما تجاوزت المخزن و أصدرت قرارات بشكل مباشر، فكانت لها سلطة مطلقة لا تحد منها إلا توجيهات الحكومة الفرنسية<<

René Galissot , Le patronat européen du Maroc, ed Techniques nord-africaines, Rabat, 1964, p 14 .

استئناسا بمضمون الوثيقة و اعتمادا على ما درسته، اكتب موضوعا مقاليا - من مقدمة و عرض و خاتمة- تحلل فيه موضوع المغرب تحت نظام الحماية مركزا على العنصرين التاليين:

- ✓ تناقض السياسة المتبعة مع مضمون معاهدة الحماية.
- ✓ أشكال الاستغلال الاستعماري و أثرها على المجتمع المغربي.

ملحوظة: يؤخذ اعتماد النهجين التاريخي و الجغرافي و تنظيم العمل بعين الاعتبار عند التصحيح.