

1sex

PROF : ATMANI NAJIB

1ere Sciences BIOF

EXERCICES AVEC SOLUTIONS FONCTIONS - Généralités

Exercice 1 : Déterminer l'ensemble de définition des fonctions suivantes définie par

$$1) f(x) = 3x^2 - x + 1. \quad 2) f(x) = \frac{x^3}{2x-4}.$$

$$3) f(x) = \frac{2x^4}{x^2-4}. \quad 4) f(x) = \frac{7x-1}{x^3-2x}.$$

$$5) f(x) = \sqrt{-3x+6}. \quad 6) f(x) = \frac{x-5}{2x^2-5x-3}.$$

$$7) f(x) = \sqrt{x^2-3x+2}. \quad 8) f(x) = \sqrt{\frac{-3x+9}{x+1}}.$$

$$9) f(x) = \frac{x+1}{\sqrt{-2x^2+x+3}}. \quad 10) f(x) = \frac{|x-5|}{x^2+1}.$$

$$11) f(x) = \frac{\sqrt{|x|}}{x}. \quad 12) f(x) = \frac{\sqrt{x+2}}{x-1}.$$

$$13) f(x) = 3x^2 - \frac{1}{x} + \sqrt{-x}.$$

$$14) f(x) = \frac{x}{|2x-4| - |x-1|}. \quad 15) f(x) = \frac{2\sin x}{2\cos x - 1}.$$

$$16) f(x) = \sqrt{\frac{-2x^2+2x+13}{x^2-x-6}}.$$

$$17) f(x) = \sqrt{x^2 + (2\sqrt{3} - \sqrt{2})x - 2\sqrt{6}}$$

$$18) f(x) = \frac{|x-4| - |x-1|}{x^2 + 2|x| - 3}$$

$$19) f(x) = \sqrt{2x-1} + \sqrt{3-5x}.$$

Solutions

$$1) f(x) = 3x^2 - x + 1$$

f Est une fonction polynôme donc Un réel a toujours une image. Donc $D_f = \mathbb{R}$

$$2) f(x) = \frac{x^3}{2x-4}.$$

Pour les fonctions du type fractions rationnelles, l'ensemble de définition est l'ensemble des nombres pour lesquels le dénominateur est non nul.

$$D_f = \{x \in \mathbb{R} / 2x-4 \neq 0\}$$

$$2x-4=0 \text{ ssi } x = \frac{4}{2} = 2 \text{ Donc } D_f = \mathbb{R} - \{2\}$$

On dira aussi que 2 est une valeur interdite pour la fonction f

prof : atmani najib

$$3) f(x) = \frac{2x^4}{x^2-4}.$$

$$D_f = \{x \in \mathbb{R} / x^2-4 \neq 0\}$$

$$x^2-4=0 \text{ ssi } x^2-2^2=0 \text{ ssi } (x-2)(x+2)=0$$

ssi $x-2=0$ ou $x+2=0$ ssi $x=2$ ou $x=-2$
donc $D_f = \mathbb{R} - \{-2; 2\}$

$$4) f(x) = \frac{7x-1}{x^3-2x}.$$

$$D_f = \{x \in \mathbb{R} / x^3-2x \neq 0\}$$

$$x^3-2x=0 \text{ ssi } x(x^2-2)=0 \text{ ssi } x=0 \text{ ou}$$

$$x^2-2=0 \text{ ssi } x=0 \text{ ou } x^2=2$$

$$\text{ssi } x=0 \text{ ou } x=\sqrt{2} \text{ ou } x=-\sqrt{2}$$

$$\text{donc } D_f = \mathbb{R} - \{-\sqrt{2}; 0; \sqrt{2}\}$$

$$5) f(x) = \sqrt{-3x+6}.$$

Pour les fonctions du type racine carrée, l'ensemble de définition est l'ensemble des nombres pour lesquels l'intérieur de la racine est positif

$$D_f = \{x \in \mathbb{R} / -3x+6 \geq 0\}$$

$$-3x+6 \geq 0 \text{ ssi } x \leq 2 \text{ ssi } x \leq \frac{-6}{-3} \text{ ssi } -3x \geq -6$$

$$\text{Donc } D_f =]-\infty; 2]$$

$$6) f(x) = \frac{x-5}{2x^2-5x-3}.$$

$$D_f = \{x \in \mathbb{R} / 2x^2-5x-3 \neq 0\}$$

$$2x^2-5x-3=0 \quad a=2 \text{ et } b=-5 \text{ et } c=-3$$

$$\Delta = b^2 - 4ac = (-5)^2 - 4 \times 2 \times (-3) = 25 + 24 = 49 = (7)^2 > 0$$

$$x_1 = \frac{-b + \sqrt{\Delta}}{2a} \text{ et } x_2 = \frac{-b - \sqrt{\Delta}}{2a}$$

$$x_1 = \frac{-(-5) + \sqrt{49}}{2 \times 2} = \frac{7+5}{4} = \frac{12}{4} = 3 \text{ et}$$

$$x_2 = \frac{(-5) - \sqrt{49}}{2 \times 2} = \frac{5-7}{4} = \frac{-2}{4} = -\frac{1}{2}$$

$$\text{Donc } D_f = \mathbb{R} - \left\{ -\frac{1}{2}; 3 \right\}$$

$$7) f(x) = \sqrt{2x^2-3x+1}.$$

$D_f = \{x \in \mathbb{R} / 2x^2-3x+1 \geq 0\}$ soit Δ son discriminant

$$\Delta = b^2 - 4ac = (-3)^2 - 4 \times 2 \times 1 = 9 - 8 = 1 > 0$$

$$x_1 = \frac{-(-3) + \sqrt{1}}{2 \times 2} = \frac{4}{4} = 1 \quad \text{et} \quad x_2 = \frac{-(-3) - \sqrt{1}}{2 \times 2} = \frac{2}{4} = \frac{1}{2}$$

x	$-\infty$	$1/2$	1	$+\infty$
$P(x)$	$+$	0	$-$	$+$

$$\text{Donc } D_f = \left] -\infty, \frac{1}{2} \right[\cup [1, +\infty[$$

$$8) f(x) = \sqrt{\frac{-9x+3}{x+1}}$$

$$D_f = \left\{ x \in \mathbb{R} / \frac{-9x+3}{x+1} \geq 0 \text{ et } x+1 \neq 0 \right\}$$

$$-9x+3=0 \text{ ssi } x = \frac{1}{3} \text{ ssi } -9x = -3$$

$$x+1=0 \text{ ssi } x = -1$$

x	$-\infty$	-1	$\frac{1}{3}$	$+\infty$
$-9x+3$	$+$	$+$	0	$-$
$x+1$	$-$	0	$+$	$+$
$\frac{-9x+3}{x+1}$	$-$	$+$	0	$-$

$$\text{Donc } D_f = \left] -1, \frac{1}{3} \right[$$

$$9) f(x) = \frac{x+1}{\sqrt{-2x^2+x+3}}$$

$$D_f = \left\{ x \in \mathbb{R} / -2x^2+x+3 > 0 \right\}$$

$$-2x^2+x+3=0 \quad a = -2 \quad \text{et} \quad b = 1 \quad \text{et} \quad c = 3$$

$$\Delta = b^2 - 4ac = (1)^2 - 4 \times (-2) \times 3 = 1 + 24 = 25 = (5)^2 > 0$$

Donc on a deux racines

$$x_1 = \frac{-1+5}{2 \times (-2)} = \frac{4}{-4} = -1 \quad \text{et} \quad x_2 = \frac{-1-5}{2 \times (-2)} = \frac{-6}{-4} = \frac{3}{2}$$

x	$-\infty$	-1	$3/2$	$+\infty$	
$-2x^2+x+3$	$-$	0	$+$	0	$-$

$$\text{Donc } D_f = \left[-1, \frac{3}{2} \right]$$

$$10) f(x) = \frac{|x-5|}{x^2+1} \quad D_f = \left\{ x \in \mathbb{R} / x^2+1 \neq 0 \right\}$$

$$x^2+1=0 \text{ ssi } x^2 = -1$$

Cette équation n'admet pas de solution dans \mathbb{R}

prof : atmani najib

Donc $D_f = \mathbb{R}$

$$11) f(x) = \frac{\sqrt{|x|}}{x}$$

$$f(x) \in \mathbb{R} \text{ ssi } \sqrt{|x|} \in \mathbb{R} \text{ et } x \neq 0$$

Or on sait que $|x| \geq 0$ pour tout $x \in \mathbb{R}$

Donc $f(x) \in \mathbb{R} \text{ ssi } x \neq 0$

Donc $D_f = \mathbb{R} - \{0\} = \mathbb{R}^*$

$$12) f(x) = \frac{\sqrt{x+2}}{x-1} \quad D_f = \{x \in \mathbb{R} / x+2 \geq 0 \text{ et } x-1 \neq 0\}$$

$$D_f = \{x \in \mathbb{R} / x \geq -2 \text{ et } x \neq 1\}$$

$$D_f = [-2, 1[\cup]1, +\infty[$$

$$13) f(x) = 3x^2 - \frac{1}{x} + \sqrt{-x}$$

$$D_f = \{x \in \mathbb{R} / -x \geq 0 \text{ et } x \neq 0\}$$

$$D_f = \{x \in \mathbb{R} / x \leq 0 \text{ et } x \neq 0\}$$

$$D_f =]-\infty, 0[$$

$$14) f(x) = \frac{x}{|2x-4| - |x-1|}$$

$$D_f = \{x \in \mathbb{R} / |2x-4| - |x-1| \neq 0\}$$

$$|2x-4| - |x-1| = 0 \text{ ssi } |2x-4| = |x-1|$$

$$\text{ssi } 2x-4 = x-1 \text{ ou } 2x-4 = -(x-1)$$

$$\text{ssi } 2x-x = 4-1 \text{ ou } 2x-4 = -x+1$$

$$\text{ssi } x = 3 \text{ ou } 2x+x = 4+1$$

$$\text{ssi } x = 3 \text{ ou } 3x = 5 \text{ ssi } x = 3 \text{ ou } x = \frac{5}{3}$$

$$\text{Donc : } D_f = \mathbb{R} - \left\{ \frac{5}{3}; 3 \right\}$$

$$15) f(x) = \frac{2 \sin x}{2 \cos x - 1} \quad D_f = \{x \in \mathbb{R} / 2 \cos x - 1 \neq 0\}$$

$$2 \cos x - 1 = 0 \text{ ssi } \cos x = \frac{1}{2}$$

$$\cos x = \frac{1}{2} \text{ ssi } \cos x = \cos\left(\frac{\pi}{3}\right)$$

$$x = \frac{\pi}{3} + 2k\pi \text{ ou } x = -\frac{\pi}{3} + 2k\pi \text{ où } k \in \mathbb{Z}$$

$$\text{Donc : } D_f = \mathbb{R} - \left\{ -\frac{\pi}{3} + 2k\pi; \frac{\pi}{3} + 2k\pi / k \in \mathbb{Z} \right\}$$

$$16) f(x) = \sqrt{\frac{-2x^2+2x+13}{x^2-x-6}}$$

$$D_f = \left\{ x \in \mathbb{R} / \frac{-2x^2+2x+13}{x^2-x-6} \geq 0 \text{ et } x^2-x-6 \neq 0 \right\}$$

- On détermine les racines du trinôme

$$-2x^2+2x+13:$$

Le discriminant est $\Delta' = 2^2 - 4 \times (-2) \times 13 = 108$
et ses racines sont :

$$x_1 = \frac{-2 - \sqrt{108}}{2 \times (-2)} = \frac{1 + 3\sqrt{3}}{2} \text{ et } x_2 = \frac{-2 + \sqrt{108}}{2 \times (-2)} = \frac{1 - 3\sqrt{3}}{2}$$

- On détermine les racines du trinôme $x^2 - x - 6$:
Le discriminant est $\Delta = (-1)^2 - 4 \times (-6) \times 1 = 25$ et
ses racines sont :

$$x_1' = \frac{-(-1) - \sqrt{25}}{2 \times 1} = \frac{1 - 5}{2} = -2 \text{ et}$$

$$x_2' = \frac{-(-1) + \sqrt{25}}{2 \times 1} = \frac{1 + 5}{2} = 3$$

- On obtient le tableau de signe :

x	$-\infty$	$\frac{1-3\sqrt{3}}{2}$	-2	3	$\frac{1+3\sqrt{3}}{2}$	$+\infty$	
$-2x^2+2x+13$	-	0	+	+	+	0	-
x^2-x-6	+	+	0	-	0	+	+
$\frac{-2x^2+2x+13}{x^2-x-6}$	-	0	+	-	+	0	-

$$D_f = \left[\frac{1-3\sqrt{3}}{2}; -2 \right] \cup \left[3; \frac{1+3\sqrt{3}}{2} \right].$$

$$17) f(x) = \sqrt{x^2 + (2\sqrt{3} - \sqrt{2})x - 2\sqrt{6}}$$

$$D_f = \left\{ x \in \mathbb{R} / x^2 + (2\sqrt{3} - \sqrt{2})x - 2\sqrt{6} \geq 0 \right\}$$

$$\Delta = b^2 - 4ac = (2\sqrt{3} + \sqrt{2})^2 - 4 \times 1 \times 2\sqrt{6}$$

$$\Delta = 12 - 4\sqrt{6} + 2 + 8\sqrt{6} = 14 + 4\sqrt{6}$$

$$14 + 4\sqrt{6} = 14 + 2 \times 2\sqrt{3} \times \sqrt{2} = (2\sqrt{3})^2 + 2 \times 2\sqrt{3} \times \sqrt{2} + (\sqrt{2})^2$$

$$14 + 4\sqrt{6} = (2\sqrt{3} + \sqrt{2})^2$$

On a $\Delta = 14 + 4\sqrt{6} > 0$ donc

$$x_1 = \frac{-2\sqrt{3} + \sqrt{2} + \sqrt{14 + 4\sqrt{6}}}{2 \times 1} = \frac{-2\sqrt{3} + \sqrt{2} + |2\sqrt{3} + \sqrt{2}|}{2 \times 1}$$

et $x_2 = \frac{-2\sqrt{3} + \sqrt{2} - |2\sqrt{3} + \sqrt{2}|}{2 \times 1}$

$$x_1 = \frac{-2\sqrt{3} + \sqrt{2} + 2\sqrt{3} + \sqrt{2}}{2 \times 1} = \frac{2\sqrt{2}}{2} = \sqrt{2} \text{ et}$$

$$x_2 = \frac{-2\sqrt{3} + \sqrt{2} - 2\sqrt{3} - \sqrt{2}}{2 \times 1} = \frac{-4\sqrt{3}}{2} = -2\sqrt{3}$$

x	$-\infty$	$-2\sqrt{3}$	$\sqrt{2}$	$+\infty$	
$x^2 + (2\sqrt{3} - \sqrt{2})x - 2\sqrt{6}$	+	0	-	0	+

On a donc : $D_f =]-\infty; -2\sqrt{3}] \cup [\sqrt{2}; +\infty[$

$$18) f(x) = \frac{|x-4| - |x-1|}{x^2 + 2|x| - 3}$$

$$D_f = \{x \in \mathbb{R} / x^2 + 2|x| - 3 \neq 0\}$$

$$x^2 + 2|x| - 3 = 0 \Leftrightarrow |x|^2 + 2|x| - 3 = 0 \text{ on pose } |x| = X$$

donc l'équation devient :

$$X^2 + 2X - 3 = 0$$

Le discriminant est $\Delta = 2^2 - 4 \times 1 \times (-3) = 16$ et
ses solutions sont :

$$X_1 = \frac{-2 - \sqrt{16}}{2 \times 1} = -3 \text{ et } X_2 = \frac{-2 + \sqrt{16}}{2 \times 1} = 1$$

Donc on a : $|x| = -3$ et $|x| = 1$

$|x| = -3$ n'a pas de solution

$|x| = 1 \Leftrightarrow x = 1$ ou $x = -1$ donc $D_f = \mathbb{R} - \{-1; 1\}$

$$19) f(x) = \sqrt{2x-1} + \sqrt{3-5x}.$$

$$D_f = \{x \in \mathbb{R} / 2x-1 \geq 0 \text{ et } 3-5x \geq 0\}$$

$$D_f = \left\{ x \in \mathbb{R} / x \geq \frac{1}{2} \text{ et } x \leq \frac{3}{5} \right\}$$

$$\text{Donc } D_f = \left[\frac{1}{2}; \frac{3}{5} \right]$$

Exercice 2 : Etudier la parité des fonctions
suivantes définie par : 1) $f(x) = 3x^2 - 5$. 2)

$$f(x) = \frac{3}{x}$$

$$3) f(x) = \frac{x^2 - 1}{x}. \quad 2) f(x) = x^2 + \frac{1}{x}.$$

$$3) f(x) = \frac{|x|}{x^2 - 1}. \quad 4) f(x) = \sqrt{1 - x^2}$$

$$5) f(x) = \frac{2x^3}{x^2 + 5}. \quad 6) f(x) = |x| - \sqrt{2x^2 + 4}.$$

$$7) f(x) = \frac{\sqrt{x}}{2}. \quad 8) f(x) = \frac{x}{x-2}$$

Solutions :

1) Soit f une fonction tq : $f(x) = 3x^2 - 5$

Donc $D_f = \mathbb{R}$ car f est une fonction polynôme

- Pour tout réel x , si $x \in \mathbb{R}$, alors $-x \in \mathbb{R}$

$$f(-x) = 3(-x)^2 - 5 = 3x^2 - 5$$

$$f(-x) = f(x)$$

Donc f est une fonction paire,

$$2) f(x) = \frac{3}{x}$$

on a $g(x) \in \mathbb{R}$ ssi $x \neq 0$

donc $D_f = \mathbb{R}^*$

- Pour tout réel x , si $x \in \mathbb{R}^*$, alors $-x \in \mathbb{R}^*$

$$- f(-x) = \frac{3}{-x} = -\frac{3}{x}$$

$$f(-x) = -f(x)$$

Donc f est une fonction impaire,

$$3) f(x) = 2x^3 + x^2$$

h est une fonction polynôme donc Un réel a toujours une image. Donc $D_f = \mathbb{R}$

- Pour tout réel x , si $x \in \mathbb{R}$, alors $-x \in \mathbb{R}$

$$- f(-x) = 2(-x)^3 + (-x)^2 = -2x^3 + x^2$$

$$- f(-x) = -(2x^3 - x^2) \neq -f(x)$$

Donc f est une fonction ni paire ni impaire,

$$3) f(x) = \frac{x^2 - 1}{x}$$

on a $f(x) \in \mathbb{R}$ ssi $x \neq 0$ donc $D_f = \mathbb{R}^*$

- Pour tout réel x , si $x \in \mathbb{R}^*$, alors $-x \in \mathbb{R}^*$

$$- f(-x) = \frac{(-x)^2 - 1}{-x} = -\frac{x^2 - 1}{x}$$

$$- f(-x) = -f(x)$$

Donc f est une fonction impaire,

$$4) f(x) = x^2 + \frac{1}{x} \quad \text{on a } f(x) \in \mathbb{R} \text{ ssi } x \neq 0$$

donc $D_f = \mathbb{R}^*$

- Pour tout réel x , si $x \in \mathbb{R}^*$, alors $-x \in \mathbb{R}^*$

$$- f(-x) = (-x)^2 + \frac{1}{-x} = x^2 - \frac{1}{x} = \left(-x^2 + \frac{1}{x}\right)$$

$$- f(-x) \neq -f(x)$$

Donc f est une fonction ni paire ni impaire,

$$5) f(x) = \frac{|x|}{x^2 - 1} \quad \text{on a } f(x) \in \mathbb{R} \text{ ssi } x^2 - 1 \neq 0$$

$$x^2 - 1 = 0 \text{ ssi } x^2 = 1 \text{ ssi } x = 1 \text{ ou } x = -1$$

donc $D_f = \mathbb{R} - \{-1; 1\}$

- Pour tout réel x , si $x \in \mathbb{R} - \{-1; 1\}$, alors

$$-x \in \mathbb{R} - \{-1; 1\}$$

$$- f(-x) = \frac{|-x|}{(-x)^2 - 1} = \frac{|x|}{x^2 - 1}$$

$$- f(-x) = f(x)$$

Donc f est une fonction paire

$$6) f(x) = \sqrt{1 - x^2}$$

$$D_f = \{x \in \mathbb{R} / 1 - x^2 \geq 0\}$$

$$1 - x^2 = 0 \text{ ssi } x^2 = 1 \text{ ssi } x = 1 \text{ ou } x = -1$$

prof : atmani najib

x	$-\infty$	-1	1	$+\infty$	
$1 - x^2$	$-$	0	$+$	0	$-$

Donc $D_f = [-1, 1]$

- Pour tout réel x , si $x \in [-1, 1]$, alors $-x \in [-1, 1]$

$$- f(-x) = \sqrt{1 - (-x)^2} = \sqrt{1 - x^2}$$

$$- f(-x) = f(x)$$

Donc f est une fonction paire

$$7) f(x) = \frac{2x^3}{x^2 + 5}$$

$$D_f = \{x \in \mathbb{R} / x^2 + 5 \neq 0\}$$

$x^2 + 5 = 0$ ssi $x^2 = -5$ pas de solutions

Donc $D_f = \mathbb{R}$

- Pour tout réel x , si $x \in \mathbb{R}$, alors $-x \in \mathbb{R}$

$$- f(-x) = \frac{2(-x)^3}{(-x)^2 + 5} = \frac{-2x^3}{x^2 + 5}$$

$$- f(-x) = -f(x)$$

Donc f est une fonction impaire

$$8) f(x) = |x| - \sqrt{2x^2 + 4}$$

$$D_f = \{x \in \mathbb{R} / 2x^2 + 4 \geq 0\}$$

Or on sait que $2x^2 \geq 0$ Pour tout réel x , donc

$2x^2 + 4 \geq 0 + 4$ donc $2x^2 + 4 \geq 4 \geq 0$

Donc $D_f = \mathbb{R}$

- Pour tout réel x , si $x \in \mathbb{R}$, alors $-x \in \mathbb{R}$

$$- f(-x) = |-x| - \sqrt{2(-x)^2 + 4} = |x| - \sqrt{2x^2 + 4}$$

$$- f(-x) = f(x)$$

Donc f est une fonction paire

$$9) f(x) = \frac{\sqrt{x}}{2} \quad D_f = \{x \in \mathbb{R} / x \geq 0\} \quad \text{Donc}$$

$$D_f = \mathbb{R}^+ = [0; +\infty[$$

On a $2 \in \mathbb{R}^+$ mais $-2 \notin \mathbb{R}^+$ Donc f est une fonction ni paire ni impaire

$$8) f(x) = \frac{x}{x - 2}$$

on a $f(x) \in \mathbb{R}$ ssi $x - 2 \neq 0$ ssi $x \neq 2$

$$\text{Donc } D_f = \mathbb{R} - \{2\}$$

on a $-2 \in D_f$ mais $-(-2) = 2 \notin D_f$

Donc D_f n'est pas symétrique par rapport a O

Donc f est une fonction ni paire ni impaire

Exercice 3 : Soit la fonction définie par :

$$5f(x) + f(-x) = 2x^3 - 3x \text{ Pour tout réel } x$$

1) montrer que f est une fonction impaire

2) donner une expression de $f(x)$ Pour tout réel x

Solution : soit $x \in \mathbb{R}$

$$\text{On a } 5f(x) + f(-x) = 2x^3 - 3x \text{ (1)}$$

Pour tout réel x

On remplaçant x par $-x$ on trouve :

$$5f(-x) + f(x) = 2(-x)^3 - 3(-x)$$

$$\text{Donc : } 5f(-x) + f(x) = -2x^3 + 3x \text{ (2)}$$

(1) + (2) donne : $6(f(-x) + f(x)) = 0$ donc :

$$f(-x) + f(x) = 0$$

$$\text{donc : } f(-x) = -f(x) \quad \forall x \in \mathbb{R}$$

Donc f est une fonction impaire

$$2) \text{ on a : } 5f(x) + f(-x) = 2x^3 - 3x$$

Et puisque f est une fonction impaire donc :

$$5f(x) - f(x) = 2x^3 - 3x$$

$$4f(x) = 2x^3 - 3x \Leftrightarrow \boxed{f(x) = \frac{1}{2}x^3 - \frac{3}{4}}$$

Exercice 4 : Soit la fonction définie par :

$$f(x) = \frac{|x|+1}{2|x|-3} \text{ et } (C_f) \text{ la courbe de } f \text{ Dans le}$$

repère $(0; \vec{i}; \vec{j})$ orthonormé

Montrer que (C_f) symétrique par rapport à l'axe des ordonnées

$$\text{Solution : } D_f = \{x \in \mathbb{R} / 2|x|-3 \neq 0\} = \left\{x \in \mathbb{R} / |x| \neq \frac{3}{2}\right\}$$

$$\text{Donc : } D_f = \mathbb{R} - \left\{-\frac{3}{2}; \frac{3}{2}\right\}$$

Il suffit de montrer que f est une fonction paire

- Pour tout réel x , si $x \in \mathbb{R} - \left\{-\frac{3}{2}; \frac{3}{2}\right\}$ alors

$$-x \in \mathbb{R} - \left\{-\frac{3}{2}; \frac{3}{2}\right\}$$

$$- f(-x) = \frac{|-x|+1}{2|-x|-3} = \frac{|x|+1}{2|x|-3} = f(x)$$

Donc f est une fonction paire

Par suite la (C_f) symétrique par rapport à l'axe des ordonnées

Exercice 5 : étudier les variations des fonctions définies par : 1) $f(x) = 7x - 5$ 2) $g(x) = \frac{2}{x}$

Solution :1) f est une fonction polynôme donc

$$D_f = \mathbb{R}$$

Soit $x_1 \in \mathbb{R}$ et $x_2 \in \mathbb{R}$ tq $x_1 < x_2$

Donc $7x_1 < 7x_2$ car $7 > 0$

Donc $7x_1 - 5 < 7x_2 - 5$

Alors $f(x_1) < f(x_2)$ d'où f que est strictement croissante sur \mathbb{R}

2) Soit g une fonction tq : $g(x) = \frac{2}{x}$

$g(x) \in \mathbb{R}$ ssi $x \neq 0$ Donc $D_g = \mathbb{R} - \{0\} = \mathbb{R}^*$

a) Soit $x_1 \in [0; +\infty[$ et $x_2 \in [0; +\infty[$ tq $x_1 < x_2$

Donc $\frac{1}{x_1} > \frac{1}{x_2}$ Donc $\frac{2}{x_1} > \frac{2}{x_2}$ car $2 > 0$

Alors $f(x_1) > f(x_2)$ d'où f que est strictement décroissante sur $[0; +\infty[$

b) Soit $x_1 \in]-\infty; 0]$ et $x_2 \in]-\infty; 0]$ tq $x_1 < x_2$

Donc $\frac{1}{x_1} > \frac{1}{x_2}$ Donc $\frac{2}{x_1} > \frac{2}{x_2}$ car $2 > 0$

Alors $f(x_1) > f(x_2)$ d'où f que est strictement décroissante sur $] -\infty; 0]$

b) tableau de variation :

x	$-\infty$	0	$+\infty$
$f(x)$	↘		↘

Exercice 6 : étudier les variations de la fonction définie par: $f(x) = 3x^2 + 2$

Solution : $D_f = \mathbb{R}$

soient $x_1 \in \mathbb{R}$ et $x_2 \in \mathbb{R}$ tq $x_1 \neq x_2$ on a :

$$T(x_1; x_2) = 3(x_1 + x_2)$$

a) Soit $x_1 \in [0; +\infty[$ et $x_2 \in [0; +\infty[$

Donc $x_1 \geq 0$ et $x_2 \geq 0$ Donc $x_1 + x_2 \geq 0$

Donc $3(x_1 + x_2) \geq 0$ car $3 > 0$

Donc $T(x_1; x_2) = 3(x_1 + x_2) \geq 0$

d'où f que est croissante sur $[0; +\infty[$

b) Soit $x_1 \in]-\infty; 0]$ et $x_2 \in]-\infty; 0]$

Donc $x_1 \leq 0$ et $x_2 \leq 0$ Donc $x_1 + x_2 \leq 0$

Donc $3(x_1 + x_2) \leq 0$ car $3 > 0$

Donc $T(x_1; x_2) = 3(x_1 + x_2) \leq 0$

d'où f que est décroissante sur $]-\infty; 0]$

b) **résumé : tableau de variation :**

$f(0) = 3 \times 0^2 + 2 = 2$

x	$-\infty$	0	$+\infty$
$f(x)$	↘ 2 ↗		

Exercice 7 : étudier les variations de la fonction

définie par : $g(x) = \frac{x}{x+1}$

Solution : $g(x) = \frac{x}{x+1}$ on a $g(x) \in \mathbb{R}$ ssi

$x+1 \neq 0$ ssi $x \neq -1$

Donc $D_g = \mathbb{R} - \{-1\}$

soient $x_1 \in D_g$ et $x_2 \in D_g$ tq $x_1 \neq x_2$ on a :

$T(x_1; x_2) = \frac{g(x_1) - g(x_2)}{x_1 - x_2}$

$g(x_1) - g(x_2) = \frac{x_1}{x_1+1} - \frac{x_2}{x_2+1} = \frac{x_1(x_2+1) - x_2(x_1+1)}{(x_1+1)(x_2+1)}$

$T(x_1; x_2) = \frac{x_1 - x_2}{(x_1+1)(x_2+1)} \times \frac{1}{x_1 - x_2} = \frac{1}{(x_1+1)(x_2+1)}$

a) sur $I =]-\infty; -1[$

Soit $x_1 \in]-\infty; -1[$ et $x_2 \in]-\infty; -1[$ $x_1 \neq x_2$

Donc $x_1 < -1$ et $x_2 < -1$ Donc $x_1 + 1 < 0$ et

$x_2 + 1 < 0$ Donc $(x_1 + 1)(x_2 + 1) > 0$

Donc $T(x_1; x_2) = \frac{1}{(x_1+1)(x_2+1)} > 0$ sur

$I =]-\infty; -1[$

d'où g que est strictement croissante sur

$I =]-\infty; -1[$

b) sur $J =]-1; +\infty[$

Soit $x_1 \in]-1; +\infty[$ et $x_2 \in]-1; +\infty[$ $x_1 \neq x_2$

Donc $x_1 > -1$ et $x_2 > -1$ Donc $x_1 + 1 > 0$

et $x_2 + 1 > 0$ Donc $(x_1 + 1)(x_2 + 1) > 0$

Donc $T(x_1; x_2) = \frac{1}{(x_1+1)(x_2+1)} > 0$

sur $J =]-1; +\infty[$

d'où g que est strictement croissante sur

$J =]-1; +\infty[$ **tableau de variation :**

x	$-\infty$	-1	$+\infty$
$f(x)$	↗		

Exercice 8 : Soit f une fonction : tq : $f(x) = x + \frac{1}{x}$

1) Déterminer D_f et étudier la parité de f

2) Calculer Le taux d'accroissement $T(x_1; x_2)$ de f entre x_1 et x_2 deux éléments de D_f

tq $x_1 \neq x_2$

3) Étudier les variations de f sur $I =]0; 1]$ puis sur

$J = [1; +\infty[$

4) En déduire les variations de f sur D_f

5) Dresser le tableau de variations de f sur D_f

Réponses : 1) on a $f(x) \in \mathbb{R}$ ssi $x \neq 0$ Donc

$D_f = \mathbb{R} - \{0\} = \mathbb{R}^*$

- Pour tout réel x, si $x \in \mathbb{R}^*$, alors $-x \in \mathbb{R}^*$

$f(-x) = -x + \frac{1}{-x} = -x - \frac{1}{x} = -\left(x + \frac{1}{x}\right)$

$f(-x) = -f(x)$

Donc f est une fonction impaire,

2) $f(x_1) - f(x_2) = \left(x_1 + \frac{1}{x_1}\right) - \left(x_2 + \frac{1}{x_2}\right) = x_1 + \frac{1}{x_1} - x_2 - \frac{1}{x_2}$

$= \frac{x_1^2 \times x_2 + x_2 - x_2^2 \times x_1 - x_1}{x_1 \times x_2} = \frac{x_1 \times x_2 (x_1 - x_2) + x_2 - x_1}{x_1 \times x_2}$

$= \frac{(x_1 - x_2)(x_1 \times x_2 - 1)}{x_1 \times x_2}$

$T(x_1; x_2) = \frac{(x_1 - x_2)(x_1 \times x_2 - 1)}{x_1 \times x_2} \times \frac{1}{x_1 - x_2} = \frac{x_1 \times x_2 - 1}{x_1 \times x_2}$

a) sur $I =]0; 1]$ Soit $x_1 \in]0; 1]$ et $x_2 \in]0; 1]$

Donc $0 < x_1 \leq 1$ et $0 < x_2 \leq 1$ $x_2 + 1 < 0$

Donc $0 < x_1 x_2 \leq 1$ et $x_1 \neq x_2$ Donc $x_1 x_2 - 1 < 0$

et on a $0 < x_1 x_2$ Donc $T(x_1; x_2) = \frac{x_1 \times x_2 - 1}{x_1 \times x_2} < 0$

d'où f que est strictement décroissante sur

$I =]0; 1]$

b) sur $J = [1; +\infty[$ Soit $x_1 \in [1; +\infty[$ et $x_2 \in [1; +\infty[$

Donc $x_1 \geq 1$ et $x_2 \geq 1$ Donc $x_1 x_2 \geq 1$ et

$x_1 \neq x_2$ Donc $x_1 x_2 > 1$ Donc $x_1 x_2 - 1 > 0$

et on a $0 < x_1 x_2$ Donc $T(x_1; x_2) = \frac{x_1 \times x_2 - 1}{x_1 \times x_2} > 0$

d'où f que est strictement croissante sur $J = [1; +\infty[$

3) f est impaire et le symétrique de $I =]0; 1]$ est

l'intervalle $I' = [-1; 0[$ et le symétrique de

$J = [1; +\infty[$ est l'intervalle $J' =]-\infty; -1]$

Donc : f est strictement décroissante sur I

Donc f est strictement décroissante sur I'

f est strictement croissante sur J Donc f est strictement croissante sur J'

5) le tableau de variations de f sur D_f

$$f(x) = 1 + \frac{1}{x} = 2$$

x	$-\infty$	-1	0	1	$+\infty$
Variations de $f(x)$	↗ -2 ↘			↘ 2 ↗	

$$f(-1) = -1 - \frac{1}{1} = -2$$

Exercice 9 : étudier les variations des fonctions

définies par: 1) $k(x) = \frac{6}{x}$ 2) $f(x) = x^2$ et

$$g(x) = -\frac{1}{2}x^2 \text{ et } h(x) = -\frac{1}{2}x^2 + 5$$

Réponses :

1) soit la fonction définie sur $]0; +\infty[$ par :

On sait que la fonction $v : x \rightarrow \frac{1}{x}$ est

décroissante sur $]0; +\infty[$ et puisque $6 > 0$ donc

la fonction $k = 6v$ est aussi décroissante sur

$]0; +\infty[$

2) $f(x) = x^2$ et $g(x) = -\frac{1}{2}x^2$ $D_f = D_g = \mathbb{R}$

On a $a = -\frac{1}{2} < 0$ Donc alors les fonctions f et g

ont des variation opposées sur \mathbb{R}

g et h ont les mêmes variations sur \mathbb{R}

x	$-\infty$	0	$+\infty$
$f(x)$	$+\infty$	↘ 0 ↗	$+\infty$

x	$-\infty$	0	$+\infty$
$g(x)$		↖ 0 ↘	

Exercice 10 : Les fonction f et g définies respectivement par :

$$f(x) = \sqrt{\frac{x-1}{x+3}} \text{ et } g(x) = \frac{\sqrt{x-1}}{\sqrt{x+3}}$$

Sont-elles égales ?

Réponse :

Déterminons leur ensemble de définition :

Pour f , on doit avoir : $\frac{x-1}{x+3} \geq 0$ et $x-1 \neq 0$ donc

ce qui donne $D_f =]-\infty; -3[\cup]1; +\infty[$

Pour g, on doit avoir $x-1 \geq 0$ et $x+3 > 0$

ce qui donne $D_g = [1; +\infty[$

On a donc $D_f \neq D_g$. Les fonctions ne sont donc pas égales. On écrit : $f \neq g$

On remarquera cependant que sur $[1; +\infty[$

on a $f(x) = g(x)$

Exercice 11 : Soit f et g les fonctions

numériques tel que: $f(x) = x+1$ et

$$g(x) = x^2 + x + 2$$

Comparer les fonctions f et g

Solution : $D_f = D_g = \mathbb{R}$

$$g(x) - f(x) = x^2 + x + 2 - (x+1) = x^2 + 1 > 0$$

$\forall x \in \mathbb{R}$

Donc : $f(x) < g(x) \quad \forall x \in \mathbb{R}$ donc $f < g$

Exercice 12 : Soit f et g les fonctions

numériques tel que: $f(x) = x$ et $g(x) = \frac{1}{x}$

Comparer les fonctions f et g

Exercice 13 : Soient les deux

$$\text{fonctions : } f(x) = \frac{3x^2+1}{\sqrt{x^2}} \text{ et } g(x) = \frac{1+3x^2}{|x|}$$

Comparer les fonctions f et g

Solution :

- on a $f(x) \in \mathbb{R}$ ssi $\sqrt{x^2} \in \mathbb{R}$ et $x \neq 0$

or on sait que $x^2 \geq 0$ donc $\sqrt{x^2} \in \mathbb{R}$ pour tout $x \in \mathbb{R}$

alors $f(x) \in \mathbb{R}$ ssi $x \neq 0$ donc $D_f = \mathbb{R}^*$

- on a $g(x) \in \mathbb{R}$ ssi $|x| \neq 0$ ssi $x \neq 0$

donc $D_g = \mathbb{R}^*$

alors $D_f = D_g = \mathbb{R}^*$

on sait que $\sqrt{x^2} = |x|$ et $3x^2 + 1 = 1 + 3x^2$ donc

$f(x) = g(x)$

donc finalement on a trouvé que : $D_f = D_g = \mathbb{R}^*$

et $f(x) = g(x)$

Donc : $f = g$.

Exercice 14 : Soient les deux

fonctions : $h(x) = \frac{x^2 - x}{x}$ et $t(x) = x - 1$

Comparer les fonctions f et g

Solution :

- on a $h(x) \in \mathbb{R}$ ssi $x \neq 0$ donc $D_h = \mathbb{R}^*$

- on a $t(x)$ est un polynôme donc $D_t = \mathbb{R}$

donc $f \neq g$

Exercice 15 : Soit f la fonction numérique tel

que: $f(x) = \frac{(3x+1)(2-x)}{4x^2-1}$

Etudier le signe de la fonction f

Solution : $4x^2 - 1 \neq 0 \Leftrightarrow x \neq -\frac{1}{2}$ et $x \neq \frac{1}{2}$

Donc : $D_f = \mathbb{R} - \left\{ -\frac{1}{2}, \frac{1}{2} \right\}$

x	$-\infty$	$-\frac{1}{2}$	$-\frac{1}{3}$	$\frac{1}{2}$	2	$+\infty$	
3x+1	-	-	0	+	+	+	
2-x	+	+	+	+	0	-	
2x-1	-	-	-	0	+	+	
2x+1	-	0	+	+	+	+	
$\frac{(3x+1)(2-x)}{4x^2-1}$	-	+	0	-	+	0	-

$f(x) \geq 0$ ssi $x \in \left] -\frac{1}{2}; -\frac{1}{3} \right] \cup \left] \frac{1}{2}; 2 \right]$ donc $f \geq 0$

$\forall x \in \left] -\frac{1}{2}; -\frac{1}{3} \right] \cup \left] \frac{1}{2}; 2 \right]$

$f(x) \leq 0$ ssi $x \in \left] -\infty; -\frac{1}{2} \right[\cup \left] -\frac{1}{3}; \frac{1}{2} \right[\cup [2; +\infty[$

Exercice 16 : Soit f une fonction numérique

définie sur \mathbb{R} par : $f(x) = -x^2 + x$

Démontrer que f est majorée sur \mathbb{R} .

Solution : On met la fonction sous la forme canonique :

$$f(x) = -x^2 + x = -(x^2 - x) = -\left(\left(x - \frac{1}{2}\right)^2 - \frac{1}{4} \right) = -\left(x - \frac{1}{2}\right)^2 + \frac{1}{4}$$

On a : $-\left(x - \frac{1}{2}\right)^2 \leq 0$ donc $-\left(x - \frac{1}{2}\right)^2 + \frac{1}{4} \leq \frac{1}{4}$

donc : $f(x) \leq \frac{1}{4} \quad \forall x \in \mathbb{R}$

La fonction f est donc majorée sur \mathbb{R} par $M = \frac{1}{4}$

Exercice 17 : Montrer que la fonction g définie sur \mathbb{R} par $g(x) = 4\sin x - 3$ est Bornée.

Solution : On a $\forall x \in \mathbb{R} -1 \leq \sin x \leq 1$ donc

$$-4 \leq 4\sin x \leq 4$$

$$\text{donc } -4 - 3 \leq 4\sin x - 3 \leq 4 - 3$$

donc $-7 \leq g(x) \leq 1$ g est donc bornée sur \mathbb{R} .

Exercice 18 : Soit f une fonction numérique

tg : $f(x) = \frac{1}{x^2 + 1}$

1) Déterminer D_f

2) Démontrer que f est majorée sur \mathbb{R} .

3) Démontrer que f est minorée sur \mathbb{R} . Conclure

Solution : 1) $D_f = \{x \in \mathbb{R} / x^2 + 1 \neq 0\}$

$$x^2 + 1 = 0 \Leftrightarrow x^2 = -1 \text{ pas de solution dans } \mathbb{R}$$

donc $D_f = \mathbb{R}$

2) On a $\forall x \in \mathbb{R} x^2 \geq 0$ donc $x^2 + 1 \geq 0 + 1$

$$\text{Donc } x^2 + 1 \geq 1 \text{ donc } \frac{1}{x^2 + 1} \leq 1$$

donc $f(x) \leq 1$ par suite f est donc majorée sur \mathbb{R} par $M = 1$

2) On a $\forall x \in \mathbb{R} x^2 \geq 0$ donc $x^2 + 1 \geq 0 + 1$

$$\text{Donc } x^2 + 1 \geq 1 \text{ donc } x^2 + 1 > 0$$

Donc : $0 < f(x)$

par suite f est donc minorée sur \mathbb{R} par $m = 0$

$$\text{conclusion : } 0 \leq f(x) \leq 1 \quad \forall x \in \mathbb{R}$$

f est donc bornée sur \mathbb{R} .

Exercice 19 : Soit f une fonction numérique

tg : $f(x) = \frac{2x^2 + 7x + 7}{x^2 + 3x + 3}$

1) Déterminer D_f

2) Démontrer que f est minorée par 1.

3) Démontrer que f est majorée par $\frac{7}{3}$. Conclure

Solution :1) $D_f = \{x \in \mathbb{R} / x^2 + 3x + 3 \neq 0\}$

$\Delta = -3 < 0$ pas de solution dans \mathbb{R} donc $D_f = \mathbb{R}$

2) soit $\forall x \in \mathbb{R}$

$$f(x) - 1 = \frac{2x^2 + 7x + 7}{x^2 + 3x + 3} - 1 = \frac{2x^2 + 7x + 7 - (x^2 + 3x + 3)}{x^2 + 3x + 3} = \frac{x^2 + 4x + 4}{x^2 + 3x + 3}$$

$$f(x) - 1 = \frac{(x+2)^2}{x^2 + 3x + 3} \text{ or } x^2 + 3x + 3 > 0 \text{ car } \Delta = -3 < 0$$

(signe de a=1)

Et on a : $(x+2)^2 \geq 0$ donc $f(x) \geq 1 \quad \forall x \in \mathbb{R}$

f est donc minorée sur \mathbb{R} par $m=1$

2) soit $\forall x \in \mathbb{R}$

$$f(x) - \frac{7}{3} = \frac{2x^2 + 7x + 7}{x^2 + 3x + 3} - \frac{7}{3} = \frac{-x^2}{3(x^2 + 3x + 3)} \leq 0$$

par suite f est majorée par $\frac{7}{3}$.

conclusion : $1 < f(x) \leq \frac{7}{3} \quad \forall x \in \mathbb{R}$

f est donc bornée sur \mathbb{R} .

Exercice 20 : Soit f une fonction numérique

$$\text{tq : } f(x) = \frac{x-1}{x^2 + x + m} \text{ avec } m \in \mathbb{R}$$

1) déterminer les valeurs de m pour que $D_f = \mathbb{R}$

2) Soit g la fonction numérique tq : $g(x) = \frac{1}{x+2}$

déterminer les valeurs de m pour que

$$\forall x \in \{-2; 1\} \text{ on a : } f(x) = g(x)$$

Solution :

1) $D_f = \mathbb{R} \Leftrightarrow \forall x \in \mathbb{R} : x^2 + x + m \neq 0$

$$x^2 + x + m \neq 0 \text{ ssi } \Delta = b^2 - 4ac = 1 - 4m < 0$$

$$\text{Ssi } m > \frac{1}{4}$$

2) $f(x) = g(x) \quad \forall x \in \{-2; 1\} \Leftrightarrow$

$$\frac{x-1}{x^2 + x + m} = \frac{1}{x+2}$$

$$\Leftrightarrow (x-1)(x+2) = x^2 + x + m \Leftrightarrow$$

$$x^2 + x - 2 = x^2 + x + m$$

$$f(x) = g(x) \quad \forall x \in \{-2; 1\} \Leftrightarrow -2 = m$$

Exercice 21 : Soit f une fonction numérique tq :

$$f(x) = 5x^2 + 3$$

Montrer que f admet un minimum absolue sur \mathbb{R} que l'on déterminera

Solution : $D_f = \mathbb{R}$

On a pour tout $x \in \mathbb{R} \quad x^2 \geq 0$ Donc $5x^2 \geq 0$ car $5 > 0$

Par suite $5x^2 + 3 \geq 3$ et on a $f(0) = 3$

Donc pour tout $x \in \mathbb{R} \quad f(x) \geq f(0)$

d'où $f(0) = 3$ est un minimum absolue de f sur \mathbb{R}

Exercice 22 : Soit g une fonction numérique

$$\text{tq : } g(x) = -4x^2 + 1$$

Montrer que g admet un maximum absolue sur \mathbb{R} que l'on déterminera

Solution : $D_g = \mathbb{R}$

On a pour tout $x \in \mathbb{R} \quad x^2 \geq 0$ Donc $-4x^2 \leq 0$ car $-4 < 0$

Par suite $-4x^2 + 1 \leq 1$ et on a $g(0) = 1$

Donc pour tout $x \in \mathbb{R} \quad g(x) \leq g(0)$

d'où $g(0) = 1$ est un maximum absolue de g sur \mathbb{R}

Exercice 23 : Soit f une fonction numérique tq :

$$f(x) = -4x^2 + 4x + 5$$

1°a) montrer que $f(x) = 6 - (2x - 1)^2$ pour tout $x \in \mathbb{R}$

b) montrer que $f(x) \leq 6$ pour tout $x \in \mathbb{R}$

2° calculer : $f\left(\frac{1}{2}\right)$ et en déduire les extrémums

de f sur \mathbb{R}

Réponses: 1°a) on a $D_f = \mathbb{R}$

$$6 - (2x - 1)^2 = 6 - (4x^2 - 4x + 1)$$

$$= 6 - 4x^2 + 4x - 1 = -4x^2 + 4x + 5$$

$$\text{Donc : } f(x) = 6 - (2x - 1)^2$$

b) Donc pour tout $x \in \mathbb{R}$ on a $(2x - 1)^2 \geq 0$

Par suite $-(2x - 1)^2 \leq 0$ donc $6 - (2x - 1)^2 \leq 6$

Donc pour tout $x \in \mathbb{R} \quad f(x) \leq 6$

$$2^\circ \text{ on a } f\left(\frac{1}{2}\right) = 6 - \left(2 \times \frac{1}{2} - 1\right)^2 = 6 - (1 - 1)^2 = 6$$

on a pour tout $x \in \mathbb{R} \quad 6 - (2x - 1)^2 \leq 6$ alors

$$f(x) \leq f\left(\frac{1}{2}\right)$$

Donc $f\left(\frac{1}{2}\right) = 6$ est un maximum de f sur \mathbb{R}

Exercice 24 : Du tableau de variation

x	-5	-2	2	5
$f(x)$	5	0,5	2	-2

Déduire les extrêmes de f

Solution :

Du tableau de variation on a :

Le nombre 2 est une valeur maximale de f au point $x_0 = 2$

Le nombre 0.5 est une valeur Minimale de f au point $x_0 = -2$

Exercice 25 : Soit f une fonction numérique tq :

$$f(x) = -x^2 + 4x - 3$$

Montrer que 1 est le maximum absolu de f sur \mathbb{R}

Solution : $D_f = \mathbb{R}$

Montrons donc que : $f(x) \leq 1$ et que l'équation

$f(x) = 1$ admet une solution dans \mathbb{R}

$$f(x) - 1 = -x^2 + 4x - 3 - 1 = -x^2 + 4x - 4$$

$$f(x) - 1 = -(x^2 - 4x + 4) = -(x - 2)^2 \leq 0$$

Donc $f(x) \leq 1 \forall x \in \mathbb{R}$ et on a :

$$f(x) = 1 \Leftrightarrow f(x) - 1 = 0 \Leftrightarrow -(x - 2)^2 = 0 \Leftrightarrow x = 2$$

Donc l'équation $f(x) = 1$ admet une solution dans \mathbb{R}

Et on a : $f(2) = 1$ donc : $f(x) \leq f(2) \forall x \in \mathbb{R}$

que $f(2) = 1$ est le maximum absolue de f sur \mathbb{R}

Exercice 26 : Soit f une fonction numérique tq :

$$f(x) = \frac{2x^2 + 3}{x^2 + 1}$$

1) Déterminer D_f

2) a) Démontrer que f est majorée par 3.

b) est ce que 3 est une valeur maximale de f ?

3) a) Démontrer que f est minorée par 2.

b) est ce que 2 est une valeur minimale de f ?

Solution :

$$1) D_f = \{x \in \mathbb{R} / x^2 + 1 \neq 0\}$$

$x^2 + 1 = 0 \Leftrightarrow x^2 = -1$ pas de solution dans \mathbb{R} donc $D_f = \mathbb{R}$

2) a) soit $\forall x \in \mathbb{R}$

$$f(x) - 3 = \frac{2x^2 + 3}{x^2 + 1} - 3 = \frac{2x^2 + 3 - 3(x^2 + 1)}{x^2 + 1} = \frac{2x^2 + 3 - 3x^2 - 3}{x^2 + 1}$$

$$\text{Donc } f(x) - 3 = \frac{-x^2}{x^2 + 1} \leq 0 \text{ par suite } f(x) \leq 3 \quad \forall x \in \mathbb{R}$$

f est donc majorée sur \mathbb{R} par $M = 3$

b) on remarque que : $f(0) = 3$

donc $f(x) \leq f(0) \quad \forall x \in \mathbb{R}$

Donc 3 est une valeur maximale de f

2) a) soit $\forall x \in \mathbb{R}$

$$f(x) - 2 = \frac{2x^2 + 3}{x^2 + 1} - 2 = \frac{2x^2 + 3 - 2(x^2 + 1)}{x^2 + 1} = \frac{2x^2 + 3 - 2x^2 - 2}{x^2 + 1}$$

Donc $f(x) - 2 = \frac{1}{x^2 + 1} > 0$ par suite :

$0 < f(x) \quad \forall x \in \mathbb{R}$

par suite f est donc minorée sur \mathbb{R} par $m = 2$

b) on remarque que : $f(x) > 2 \quad \forall x \in \mathbb{R}$

2 n'est pas donc une valeur minimale de f

conclusion : $2 < f(x) \leq 3 \quad \forall x \in \mathbb{R}$

f est donc bornée sur \mathbb{R} .

Exercice 27 : Soit f une fonction numérique

définie sur $]1; +\infty[$ par : $f(x) = \frac{\sqrt{x+1} - \sqrt{2}}{x-1}$

1) étudier le signe de f

2) a) Démontrer que f est majorée par $\frac{\sqrt{2}}{4}$.

b) est ce que $\frac{\sqrt{2}}{4}$ est une valeur maximale de f ?

Solution : 1) soit $x \in]1; +\infty[$

$$f(x) = \frac{\sqrt{x+1} - \sqrt{2}}{x-1} = \frac{(\sqrt{x+1} - \sqrt{2})(\sqrt{x+1} + \sqrt{2})}{(x-1)(\sqrt{x+1} + \sqrt{2})}$$

$$f(x) = \frac{x+1-2}{(x-1)(\sqrt{x+1} + \sqrt{2})} = \frac{x-1}{(x-1)(\sqrt{x+1} + \sqrt{2})}$$

$$f(x) = \frac{1}{\sqrt{x+1} + \sqrt{2}} > 0$$

Donc $f(x) > 0$ si $x \in]1; +\infty[$

2) a) $x \in]1; +\infty[$ montrons que $f(x) \leq \frac{\sqrt{2}}{4}$

soit $x \in]1; +\infty[$ donc $x > 1$ cad $x+1 > 2$

donc $\sqrt{x+1} > \sqrt{2}$ donc $\sqrt{x+1} + \sqrt{2} > 2\sqrt{2}$

donc $\frac{1}{\sqrt{x+1} + \sqrt{2}} < \frac{1}{2\sqrt{2}}$

donc $f(x) < \frac{\sqrt{2}}{4} \quad \forall x \in]1; +\infty[$

f est donc majorée sur \mathbb{R} par $M = 3$

conclusion : $2 < f(x) \leq 3 \quad \forall x \in \mathbb{R}$

b) on remarque que : $f(0) = 3$

donc $f(x) \leq f(0) \quad \forall x \in \mathbb{R}$

Donc 3 est une valeur maximale de f

f est donc bornée sur $]1; +\infty[$ par $\frac{\sqrt{2}}{4}$

b) puisque $f(x) \neq \frac{\sqrt{2}}{4} \quad \forall x \in]1; +\infty[$

$\frac{\sqrt{2}}{4}$ N'est pas une valeur maximale de f

Exercice 28 : Soit f une fonction numérique

définie sur $]1; +\infty[$ par : $f(x) = \frac{\sqrt{x}-2}{\sqrt{x}+2}$

1) Déterminer D_f

2) Démontrer que -1 est la valeur minimal de f

3) Démontrer que f est majorée par 1 et est-ce que 1 est une valeur maximale de f ?

Solution : 1)

$$D_f = \{x \in \mathbb{R} / \sqrt{x} + 2 \neq 0 \text{ et } x \geq 0\} = \{x \in \mathbb{R} / \sqrt{x} \neq -2 \text{ et } x \geq 0\}$$

$$D_f = [0; +\infty[$$

2) Montrons donc que : $f(x) \geq -1$ et que

l'équation $f(x) = -1$ admet une solution dans \mathbb{R}^+

$$f(x) - (-1) = f(x) + 1 = \frac{\sqrt{x}-2}{\sqrt{x}+2} + 1 = \frac{2\sqrt{x}}{\sqrt{x}+2} \geq 0$$

Donc $f(x) \geq -1 \quad \forall x \in \mathbb{R}^+$ et on a :

$$f(x) = -1 \Leftrightarrow f(x) + 1 = 0 \Leftrightarrow \frac{2\sqrt{x}}{\sqrt{x}+2} = 0 \Leftrightarrow x = 0$$

Donc l'équation $f(x) = -1$ admet une

solution dans \mathbb{R}^+

Et on a : $f(0) = -1$ donc : $f(x) \geq f(0) \quad \forall x \in \mathbb{R}$

Ont dit que $f(0) = -1$ est le minimum absolue de f sur \mathbb{R}^+

$$3) \text{ soit } x \in \mathbb{R}^+ \quad f(x) - 1 = \frac{\sqrt{x}-2}{\sqrt{x}+2} - 1 = \frac{-4}{\sqrt{x}+2} < 0$$

Donc $f(x) < 1 \quad \forall x \in \mathbb{R}^+$

Donc f est donc majorée sur \mathbb{R}^+ par $M = 1$

Et puisque $f(x) = 1$ n'admet pas de solution dans \mathbb{R}^+

Donc 1 n'est pas une valeur maximale de f

f est donc bornée sur $]1; +\infty[$ par $\frac{\sqrt{2}}{4}$

b) puisque $f(x) \neq \frac{\sqrt{2}}{4} \quad \forall x \in]1; +\infty[$

$\frac{\sqrt{2}}{4}$ n'est pas une valeur maximale de f

Exercice 28 : Soit f une fonction numérique tel que : $f(x) = x^2 - 2x + 3$

1) a) Démontrer que f est minorée.

b) est ce que f admet une valeur minimale ?

2) Démontrer que f est non majorée.

Solution : $D_f = \mathbb{R}$

$$1) a) f(x) = x^2 - 2x + 3 = (x^2 - 2x + 1) + 2 = (x-1)^2 + 2$$

$$\text{Donc } f(x) - 2 = (x-1)^2 \geq 0$$

donc : $f(x) \geq 2 \quad \forall x \in \mathbb{R}$ donc que f est minorée par 2

et on a : $f(1) = 2$ donc : $f(x) \geq f(1) \quad \forall x \in \mathbb{R}$

Donc f admet une valeur minimale c'est 2

2) Démontrons que f est non majorée.

Supposons f majorée donc : $\exists M \in \mathbb{R} : f(x) \leq M \quad \forall x \in \mathbb{R}$

$$\Leftrightarrow \forall x \in \mathbb{R} : (x-1)^2 + 2 \leq M$$

$$\Leftrightarrow \forall x \in \mathbb{R} : (x-1)^2 \leq M - 2$$

$\Leftrightarrow \forall x \in \mathbb{R} : \sqrt{(x-1)^2} \leq \sqrt{M-2}$ (on peut toujours supposer $M \geq 2$)

$$\Leftrightarrow \forall x \in \mathbb{R} : |x-1| \leq \sqrt{M-2}$$

Donc on a : $-\sqrt{M-2} \leq x-1 \leq \sqrt{M-2} \quad \forall x \in \mathbb{R}$

Donc on a : $-\sqrt{M-2} + 1 \leq x \leq \sqrt{M-2} + 1 \quad \forall x \in \mathbb{R}$ absurde

Donc f est non majorée

Exercice 29 : Soit f une fonction numérique

$$tq : f(x) = 2x^2 - 4x - 2$$

étudier les variations de f et dresser le tableau de variation et tracer la dans le repère $(O; \vec{i}; \vec{j})$

la courbe (C_f) de f

Solution : on a f est une fonction polynôme donc $D_f = \mathbb{R}$

On a $a = 2$ et $b = -4$ et $c = -2$

$$(f(x) = ax^2 + bx + c)$$

$$\text{Donc } -\frac{b}{2a} = \frac{4}{2 \times 2} = 1 \text{ et } (f(1) = 2 - 4 - 2 = -4)$$

Pour tout réel $x \in \mathbb{R}$ on peut écrire sous la forme :

$$f(x) = a\left(x + \frac{b}{2a}\right)^2 - \frac{\Delta}{4a} = 2(x-1)^2 - 4$$

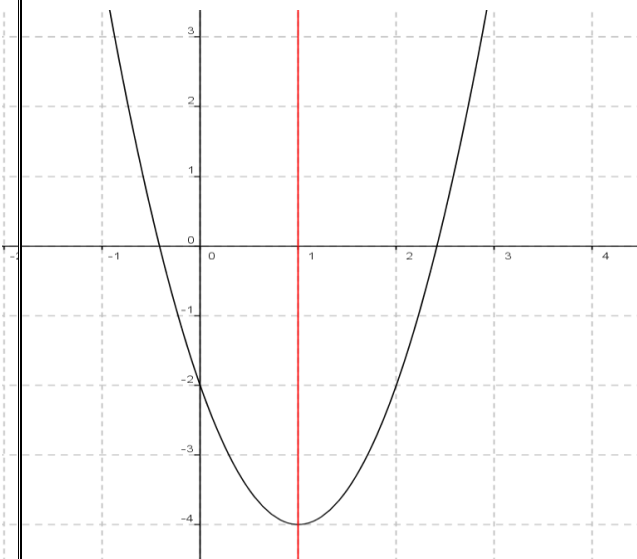
Soit $W(1; -4)$ Donc dans le repère $(0; \vec{i}; \vec{j})$ |

a courbe (C_f) c'est une parabole de sommet $W(1; -4)$ et d'axe de symétrie la droite $x = 1$

Tableau de variations de f

On a $a = 2 > 0$ donc :

x	$-\infty$	1	$+\infty$
$f(x)$			



$W(1; -4)$

Exercice 30 : Soit g une fonction numérique

tq : $g(x) = -\frac{1}{2}x^2 + 2x + 1$

étudier les variations de g et dresser le tableau de variation et tracer la dans le repère $(0; \vec{i}; \vec{j})$

la courbe (C_g) de g

Solution : $g(x) = -\frac{1}{2}x^2 + 2x + 1$

on a g est une fonction polynôme donc $D_g = \mathbb{R}$

On a $a = -\frac{1}{2}$ et $b = 2$ et $c = 1$ ($g(x) = ax^2 + bx + c$)

Donc $-\frac{b}{2a} = 2$ et $\beta = -\frac{\Delta}{4a} = -\frac{4+2}{-2} = 3$

Donc pour tout réel $x \in \mathbb{R}$ on peut écrire sous la

forme : $g(x) = a\left(x + \frac{b}{2a}\right)^2 - \frac{\Delta}{4a} = -\frac{1}{2}(x-2)^2 + 3$

$\left(g(2) = -\frac{1}{2}(2-2) + 3 = 3\right)$

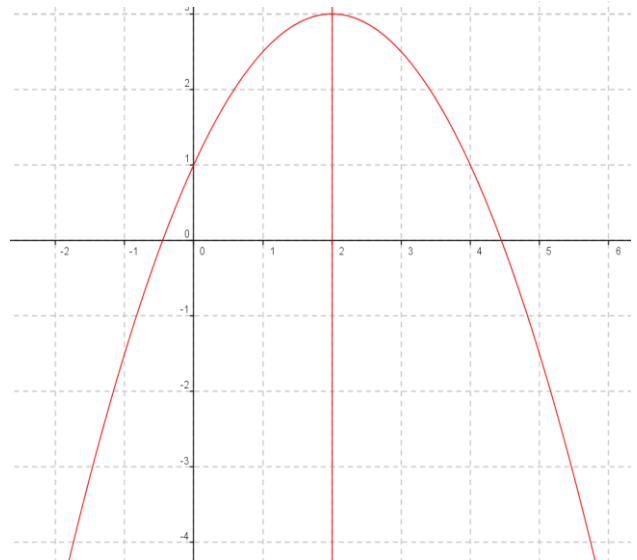
Soit $W(2; 3)$ Donc dans le repère $(0; \vec{i}; \vec{j})$ la

courbe (C_g) c'est une parabole de sommet $W(2; 3)$ et d'axe de symétrie la droite $x = 2$

Tableau de variations de f

On a $a = -\frac{1}{2} < 0$ donc :

x	$-\infty$	2	$+\infty$
$f(x)$			



Exercice 31 Soit f une fonction numérique tq :

$f(x) = \frac{2x+1}{x-1}$

étudier les variations de f et dresser le tableau de variation et tracer la dans le repère $(0; \vec{i}; \vec{j})$

la courbe (C_f) de f

Solution :

on a $f(x) \in \mathbb{R}$ ssi $x-1 \neq 0$ ssi $x \neq 1$

Donc $D_f = \mathbb{R} - \{1\}$ $\Delta = \begin{vmatrix} 2 & 1 \\ 1 & -1 \end{vmatrix} = -2 - 1 = -3 < 0$

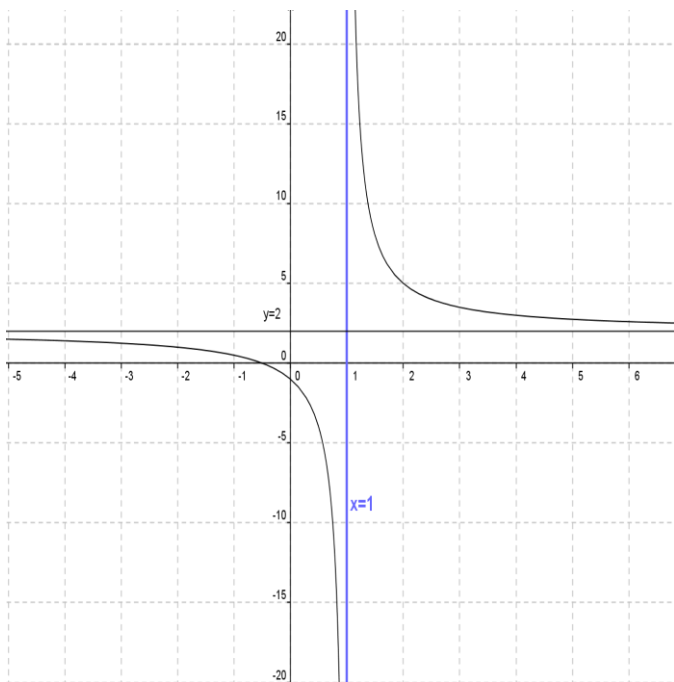
• Donc le tableau de variations de $x \rightarrow \frac{2x+1}{x-1}$

x	$-\infty$	1	$+\infty$
$f(x)$	↘		↘

• Représentation graphique

(C_f) est l'hyperbole de centre $W(1;2)$ et d'asymptotes les droites d'équations respectives $x=1$ et $y=2$

-2	1-	0	1	2	3	4
1	$\frac{1}{2}$	-1		5	$\frac{7}{2}$	3



Exercice 32 : Soit f une fonction numérique tq :

$g(x) = \frac{-x}{x-2}$ étudier les variations de g et

dresser le tableau de variation et tracer la dans le repère $(O; \vec{i}; \vec{j})$ la courbe (C_g) de g

Solution : on a $g(x) \in \mathbb{R}$ ssi $x-2 \neq 0$ ssi $x \neq 2$

Donc $D_g = \mathbb{R} - \{2\}$

$\Delta = \begin{vmatrix} -1 & 0 \\ 1 & -2 \end{vmatrix} = 2 > 0$

• Donc le tableau de variations

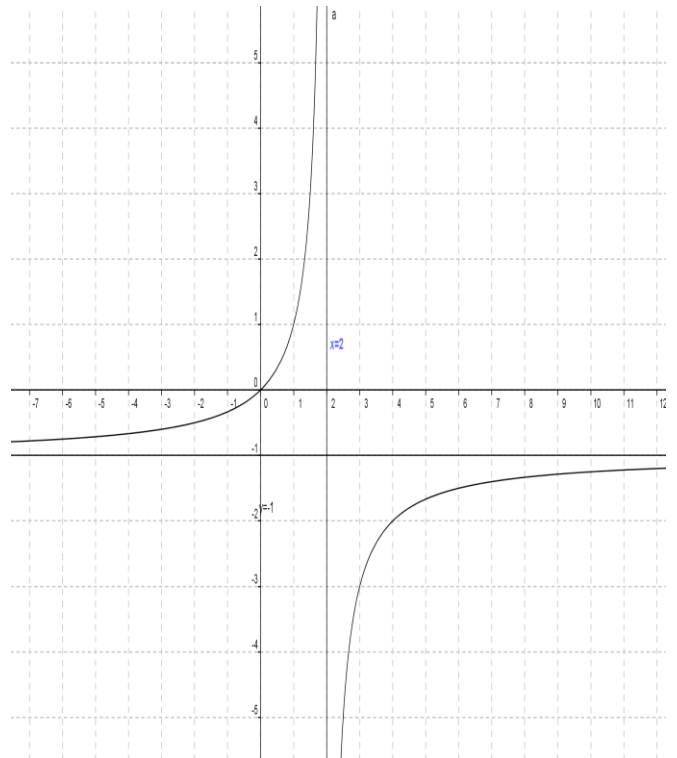
x	$-\infty$	2	$+\infty$
$f(x)$	↗		↗

• Représentation graphique

prof : atmani najib

(C_f) est l'hyperbole de centre $W(2;-1)$ et d'asymptotes les droites d'équations respectives $x=2$ et $y=-1$

-1	0	1	2	3	4	5
-1/3	0	1		-3	-2	-5/3



Exercice 33 : Soit f une fonction numérique

définie par : $f(x) = \frac{1}{4}x^3$

- 1) Déterminer D_f
- 2) étudier les variations de f et dresser le tableau de variation
- 3) tracer la dans le repère $(O; \vec{i}; \vec{j})$ la courbe (C_f) de f

Solutions : 1) $D_f = x \in \mathbb{R}$

2) soient $x_1 \in \mathbb{R}$ et $x_2 \in \mathbb{R}$ tq $x_1 < x_2$

Donc : $x_1^3 < x_2^3$ Donc : $\frac{1}{4}x_1^3 < \frac{1}{4}x_2^3$

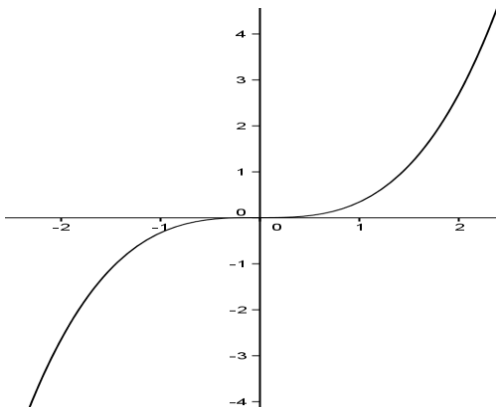
Donc : $f(x_1) < f(x_2)$

Donc f est strictement croissante

Tableau de variation

x	$-\infty$	$+\infty$
$f(x)$	↗	

x	-3	-2	-1	0	1	2	3
f(x)	6.5	-2	-1/4	0	1/4	2	6.5



Exercice 34 : Soit f une fonction numérique

définie par : $f(x) = \sqrt{x+2}$

1) Déterminer D_f

2) étudier les variations de f et dresser le tableau de variation

3) tracer la dans le repère $(O; \vec{i}; \vec{j})$ la courbe (C_f) de f

Solutions : 1)

$$D_f = \{x \in \mathbb{R} / x+2 \geq 0\} = \{x \in \mathbb{R} / x \geq -2\} = [-2, +\infty[$$

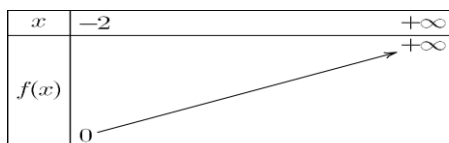
2) soient $x_1 \in [-2; +\infty[$ et $x_2 \in [-2; +\infty[$ tq $x_1 < x_2$

$$\text{Donc : } x_1 + 2 < x_2 + 2 \text{ Donc : } \sqrt{x_1 + 2} < \sqrt{x_2 + 2}$$

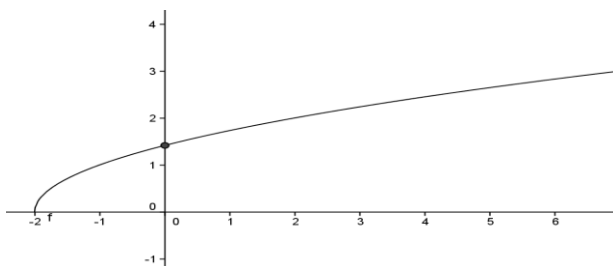
$$\text{Donc : } f(x_1) < f(x_2)$$

Donc f est strictement croissante

Tableau de variation :



x	-2	-1	0	2	7
f(x)	0	1	$\sqrt{2}$	2	3



prof : atmani najib

Exercice 35 : Soit les fonctions f et g

tel que : $f(x) = x^2 - 2x + 3$ et $g(x) = 2x + 1$

Déterminer : $g \circ f$ et $f \circ g$

Solution : on a : $D_f = \mathbb{R}$ et $D_g = \mathbb{R}$ donc

$$D_{g \circ f} = \mathbb{R} \text{ et } D_{f \circ g} = \mathbb{R}$$

$$(g \circ f)(x) = g(f(x)) = g(x^2 - 2x + 3) = 2(x^2 - 2x + 3) + 1$$

$$(g \circ f)(x) = 2x^2 - 4x + 7$$

$$(f \circ g)(x) = f(g(x)) = f(2x + 1) = (2x + 1)^2 - 2(2x + 1) + 3$$

$$(f \circ g)(x) = 4x^2 + 4x + 1 - 4x - 2 + 3 = 4x^2 + 2$$

Exercice 36 : Soit les fonctions f et g définies

par : $f(x) = 3x + 4$ et $g(x) = \frac{1}{x+1}$

1) Déterminer $D_{g \circ f}$

2) déterminer : $(g \circ f)(x)$

Solution : 1) $D_{g \circ f} = \{x \in \mathbb{R} / x \in D_f \text{ et } f(x) \in D_g\}$

On a $D_f = \mathbb{R}$ et $D_g = \mathbb{R} - \{-1\}$ donc

$$D_{g \circ f} = \{x \in \mathbb{R} / x \in \mathbb{R} \text{ et } f(x) \neq -1\}$$

$$f(x) = -1 \Leftrightarrow 3x + 4 = -1 \Leftrightarrow 3x = -5 \Leftrightarrow -\frac{5}{3} = x$$

$$\text{donc : } D_{g \circ f} = \mathbb{R} - \left\{-\frac{5}{3}\right\}$$

2) on a : $D_f = \mathbb{R}$ et $D_g = \mathbb{R} - \{-1\}$

$$\text{et } D_{g \circ f} = \mathbb{R} - \left\{-\frac{5}{3}\right\}$$

$$(g \circ f)(x) = g(f(x)) = g(3x + 4) = \frac{1}{3x + 4 + 1}$$

$$(g \circ f)(x) = \frac{1}{3x + 5}$$

Exercice 37 : Soit les fonctions f et g définies

par : $g(x) = \frac{x}{x+2}$ et $f(x) = \frac{x+3}{x+1}$

On pose : $h(x) = (g \circ f)(x)$

1) Déterminer D_h 2) déterminer : $h(x)$

3) Soit la fonction k définie par : $k(x) = \frac{x+3}{3x+5}$

Les fonctions h et k sont-elles égales ?

Solution : 1) on a : $D_f = \mathbb{R} - \{-1\}$ et

$$D_g = \mathbb{R} - \{-2\}$$

$$D_{g \circ f} = \{x \in \mathbb{R} / x \in D_f \text{ et } f(x) \in D_g\}$$

$$D_{g \circ f} = \{x \in \mathbb{R} / x \neq -1 \text{ et } f(x) \neq -2\}$$

$$f(x) = -2 \Leftrightarrow \frac{x+3}{x+1} = -2$$

$$\Leftrightarrow -2(x+1) = x+3 \Leftrightarrow -3x = 5 \Leftrightarrow x = -\frac{5}{3}$$

donc : $D_{g \circ f} = \mathbb{R} - \left\{ -\frac{5}{3}; -1 \right\}$

$$h(x) = (g \circ f)(x) = g(f(x)) = g\left(\frac{x+3}{x+1}\right)$$

$$h(x) = \frac{\frac{x+3}{x+1}}{\frac{x+3}{x+1} + 2} = \frac{\frac{x+3}{x+1}}{\frac{x+3+2x+2}{x+1}} = \frac{\frac{x+3}{x+1}}{\frac{3x+5}{x+1}} = \frac{x+3}{3x+5}$$

Donc : $h(x) = \frac{x+3}{3x+5}$

3) Les fonctions h et k ne sont pas égales car ils n'ont pas le même ensemble de définition :

$$D_h = \mathbb{R} - \left\{ -\frac{5}{3}; -1 \right\} \quad \text{et} \quad D_k = \mathbb{R} - \left\{ -\frac{5}{3} \right\}$$

Exercice 38 : exprimer les fonctions suivantes à l'aide de fonctions élémentaires :

1) $h_1(x) = \frac{1}{3x-1}$ 2) $h_2(x) = \sqrt{x+3}$

3) $h_3(x) = 3\sqrt{x} + 4$

Solution : 1) $h_1(x) = \frac{1}{3x-1}$ on a : $h_1(x) = (g \circ f)(x)$

avec $f(x) = 3x-1$ et $g(x) = \frac{1}{x}$

2) $h_2(x) = \sqrt{x+3}$ on a : $h_2(x) = (g \circ f)(x)$

avec $f(x) = x+3$ et $g(x) = \sqrt{x}$

3) $h_3(x) = 3\sqrt{x} + 4$ on a : $h_3(x) = (g \circ f)(x)$

avec $f(x) = \sqrt{x}$ et $g(x) = 3x+4$

Exercice 39 : Soit f la fonction f définie sur un intervalle $[0; +\infty[$ tel que : $f(x) = -5x^2 + 7$

Décomposer la fonction f en fonctions élémentaire et étudier les variations de f

Solution :

$$v(x) = -5x+7 \quad \text{et} \quad u(x) = x^2$$

La fonctions $f = v \circ u$

La fonction u est croissante sur $[0; +\infty[$ et

$u(x) = x^2 \in [0; +\infty[$ et v est décroissante sur

$[0; +\infty[$ Donc d'après le théorème des fonctions

composées, $f = v \circ u$ est décroissante sur

$[0; +\infty[$

Exercice 40 : Soit la fonction h définie sur $] -\infty; 1]$ par $h(x) = \sqrt{1-x}$

1) Décomposer h en deux fonctions élémentaires.

2) Déterminer les variations de h .

Solution : 1) La fonction h se décompose de cette façon $h = g \circ f$

on a alors : $f(x) = 1-x$ et $g(x) = \sqrt{x}$

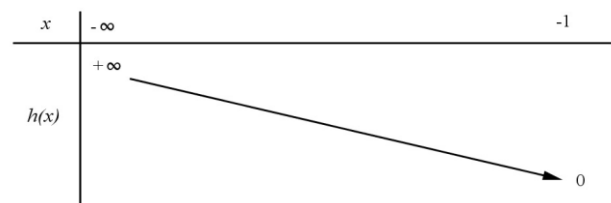
2) On sait que :

$\Leftrightarrow f$ est décroissante sur $] -\infty; 1]$

$\Leftrightarrow g$ est croissante sur $f(] -\infty; 1]) = [0; +\infty[$

Donc La fonction h décroissante sur $] -\infty; 1]$

On a alors le tableau de variation suivant



Exercice 41 : 1) Quelle est la période des fonctions suivantes :

a) $f : x \rightarrow \sin(4x-1)$ b) $g : x \rightarrow \cos(5x)$

2) Trouver une fonction de période $T = \frac{3}{4}$

Solution : 1)a) $T = \frac{2\pi}{a} = \frac{2\pi}{4} = \frac{\pi}{2}$ 1)b) $T = \frac{2\pi}{5}$

2) Une fonction est. $h : x \rightarrow \cos\left(\frac{8\pi}{3}x\right)$

Exercice 42 : Soit f une fonction numérique définie sur \mathbb{R} et périodique de période $T = 2$

tel que : $f(x) = 2x - x^2 \quad \forall x \in [0; 2[$
 1) Tracer la représentation graphique de la fonction sur $[-2; 8]$ dans un repère $(0; \vec{i}; \vec{j})$
 2) calculer : $f(4.1)$; $f(-3.5)$; $f(265.11)$
 3) donner l'expression de : $f(x) = 2x - x^2$ sur les intervalles : $I_k = [2k; 2(k+1)[\quad k \in \mathbb{Z}$

Solution : dans l'intervalle $I_0 = [0; 2[$
 on a f est une fonction polynôme donc $D_f = \mathbb{R}$
 On a $a = -1$ et $b = 2$ et $c = 0$
 $(f(x) = ax^2 + bx + c)$
 Donc $-\frac{b}{2a} = -\frac{-2}{2 \times (-1)} = 1$ et $(f(1) = 2 - 1 = 1)$

Donc la courbe (C_f) c'est une portion parabole de sommet $A(1; 1)$ et d'axe de symétrie la droite $x = 1$

Pour Tracer la représentation graphique de la fonction sur $[-2; 8]$ il suffit de Tracer la représentation graphique de la fonction sur $I_0 = [0; 2[$

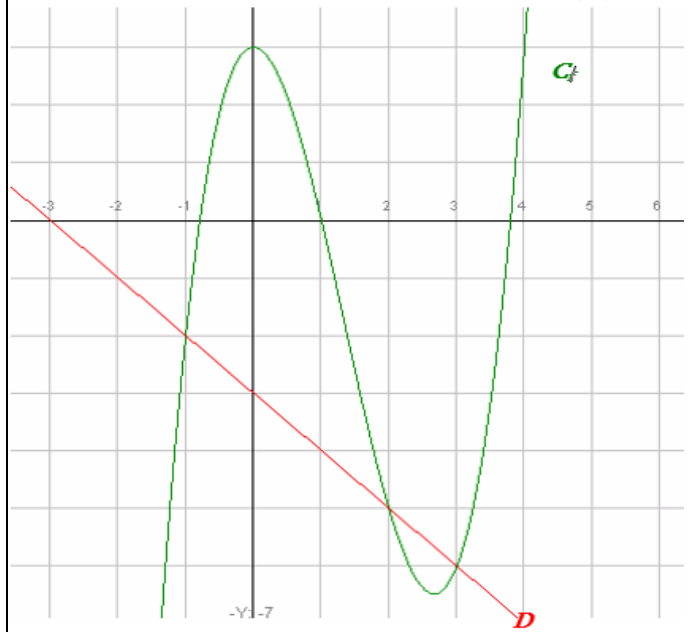
et utiliser les translation $2k\vec{i}$ avec $k \in \mathbb{Z}$

2) calculer :
 $f(4.1) = f(2 + 2.1) = f(2.1) = f(2 + 0.1) = f(0.1)$
 $f(4.1) = 2(0.1) - (0.1)^2 = 0.19$
 $f(-3.5) = f(-4 + 0.5) = f(0.5)$
 $f(-3.5) = 2(0.5) - (0.5)^2 = 0.75$
 $f(265.11) = f(2 \times 132 + 1.11) = f(1.11)$
 $f(1.11) = 2(1.11) - (1.11)^2 \approx 0.98$

3) l'expression de : $f(x) = 2x - x^2$ sur les intervalles : $I_k = [2k; 2(k+1)[\quad k \in \mathbb{Z}$
 $x \in I_k = [2k; 2(k+1)[\Leftrightarrow 2k \leq x < 2(k+1)$
 $x \in I_k \Leftrightarrow 0 \leq x - 2k < 2 \Leftrightarrow f(x - 2k) = f(x)$
 $x \in I_k \Leftrightarrow f(x) = 2(x - 2k) - (x - 2k)^2$ avec
 $k \leq \frac{x}{2} < k + 1$ cad $k = E\left(\frac{x}{2}\right)$

Exercice 43 : Soit la courbe (C_f) représentative de f telle que $f(x) = x^3 - 4x^2 + 3$ et la droite (D) d'équation $y = -x - 3$

1- Résoudre graphiquement l'équation $f(x) = 3$



puis l'inéquation $f(x) < 3$.

2- Résoudre graphiquement l'équation $f(x) = 0$

puis l'inéquation $f(x) \geq 0$

3- Résoudre graphiquement l'équation $f(x) = -x - 3$ puis l'inéquation $f(x) \leq -x - 3$

Réponses : 1) $f(x) = 3$ La solution est l'ensemble des antécédents de 3 : $S = \{0; 4\}$

2- $f(x) = 0$ La solution est l'ensemble des antécédents de 0 : $S = \{a; 1; b\}$ Avec $-1 < a < -0.5$ et $3.5 < b < 4$

$f(x) \geq 0 \quad S = [a; 1] \cup [b; +\infty[$

3- $f(x) = -x - 3$ La solution l'ensemble des abscisses des points d'intersection de (C_f) et de D : $y = -x - 3$ donc $S = \{-1; 2; 3\}$

$f(x) \leq -x - 3 \quad S =]-\infty; -1] \cup [2; 3]$

Exercice 44 : Soient f et g les deux fonctions définies sur \mathbb{R} par : $f(x) = x^2 - 3x - 4$ et $g(x) = 3x + 12$

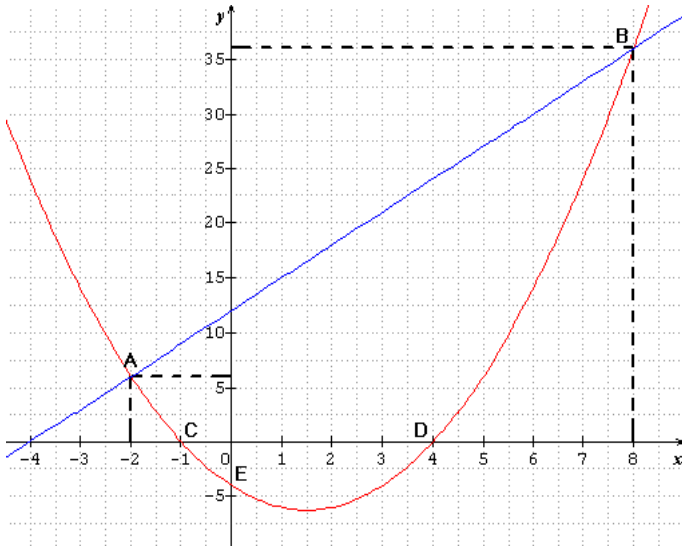
1) Tracer Les courbes (C_f) et (C_g)

2) Résoudre graphiquement et algébriquement l'équation $f(x) = g(x)$

3) Résoudre graphiquement et algébriquement l'inéquation $f(x) \geq g(x)$

4) Trouver les points d'intersection de la courbe (C_f) avec les axes du repère

Réponses : 1) Les courbes représentatives (C_f) (en rouge) et (C_g) (en bleu) sont données dans le repère ci-dessous



2) a) résolution graphique de l'équation $f(x) = g(x)$

Il suffit de chercher les abscisses des points d'intersection des courbes (C_f) et (C_g)

On a donc $x = -2$ et $x = 8$ donc $S = \{-2; 8\}$

b) résolution algébrique de l'équation $f(x) = g(x)$

$$f(x) = g(x) \text{ ssi } x^2 - 3x - 4 = 3x + 12 \text{ ssi } x^2 - 6x - 16 = 0$$

$$a = 1 \text{ et } b = -6 \text{ et } c = -16$$

$$\Delta = b^2 - 4ac = (-6)^2 - 4 \times 1 \times (-16) = 36 + 64 = 100 = (10)^2 > 0$$

$$x_1 = \frac{-b + \sqrt{\Delta}}{2a} \text{ et } x_2 = \frac{-b - \sqrt{\Delta}}{2a}$$

$$x_1 = \frac{-(-6) + \sqrt{100}}{2 \times 1} = \frac{6 + 10}{2} = \frac{16}{2} = 8 \text{ et}$$

$$x_2 = \frac{-(-6) - \sqrt{100}}{2 \times 1} = \frac{6 - 10}{2} = \frac{-4}{2} = -2$$

donc $S = \{-2; 8\}$

3) a) résolution graphique de l'inéquation $f(x) > g(x)$

La courbe (C_f) est au-dessus de (C_g) si $x \in]-\infty; -2[\cup]8; +\infty[$

prof : atmani najib

Donc $S =]-\infty; -2[\cup]8; +\infty[$

b) résolution algébrique de l'inéquation $f(x) > g(x)$

$$f(x) > g(x) \text{ ssi } x^2 - 3x - 4 > 3x + 12 \text{ ssi } x^2 - 6x - 16 > 0$$

Les racines sont : $x_1 = 8$ et $x_2 = -2$

x	$-\infty$	-2	8	$+\infty$	
$x^2 - 6x - 16$	+	0	-	0	+

Donc $S =]-\infty; -2[\cup]8; +\infty[$

5) a) Intersection de la courbe (C_f) avec l'axe des abscisses

Les points d'intersection C et D de la courbe (C_f) avec l'axe des abscisses ont leurs ordonnées nulles, et leurs abscisses sont les solutions de l'équation $f(x) = 0$

$$f(x) = 0 \text{ ssi } x^2 - 3x - 4 = 0$$

$$a = 1 \text{ et } b = -3 \text{ et } c = -4$$

$$\Delta = b^2 - 4ac = (-3)^2 - 4 \times 1 \times (-4) = 9 + 16 = 25 = (5)^2 > 0$$

$$x_1 = \frac{-(-3) + \sqrt{25}}{2 \times 1} = \frac{3 + 5}{2} = \frac{8}{2} = 4 \text{ et } x_2 = \frac{-(-3) - \sqrt{25}}{2 \times 1} = \frac{-2}{2} = -1$$

donc les points d'intersection de la courbe (C_f) avec l'axe des abscisses sont :

$C(-1; 0)$ et $D(4; 0)$

b) Intersection de la courbe (C_f) avec l'axe des ordonnées

le point d'intersection de la courbe (C_f) avec l'axe des ordonnées a une abscisse nulle et on a $f(0) = 0^2 - 3 \times 0 - 4 = -4$

donc le point d'intersection de la courbe (C_f) avec l'axe des ordonnées est : $E(-4; 0)$

Exercice 45 : Soient f et g les deux fonctions définies sur \mathbb{R} par : $f(x) = -x^2 - 2x + 3$ et

$$g(x) = \frac{x-1}{x+2} \text{ et } (C_f) \text{ et } (C_g)$$

Les courbes représentatives de f et g

1) dresser le Tableau de variations de f et de g

2) a) Trouver les points d'intersection de la courbe (C_f) avec l'axes des abscisses

b) Trouver le point d'intersection de la courbe (C_g) avec l'axe des abscisses

3) Tracer Les courbes représentatives (C_f) et (C_g) dans le même repère

4) a) Résoudre graphiquement l'équation $f(x) = g(x)$

b) Résoudre graphiquement l'inéquation $f(x) \geq g(x)$

Réponses : 1) a) $f(x) = -x^2 - 2x + 3$

on a f est une fonction polynôme donc $D_f = \mathbb{R}$

On a $a = -1$ et $b = -2$ et $c = 3$

$$(f(x) = ax^2 + bx + c)$$

Donc $-\frac{b}{2a} = -\frac{-2}{2 \times (-1)} = -1$ et $(f(-1) = 4)$

Donc la courbe (C_f) c'est une parabole de sommet $A(-1; 4)$

et d'axe de symétrie la droite $x = -1$

Donc le tableau de variations de f

x	$-\infty$	-1	$+\infty$
$f(x)$			

1) b) $g(x) = \frac{x-1}{x+2}$ on a $g(x) \in \mathbb{R}$ ssi $x+2 \neq 0$

ssi $x \neq -2$ Donc $D_g = \mathbb{R} - \{-2\}$

$$\Delta = \begin{vmatrix} 1 & -1 \\ 1 & 2 \end{vmatrix} = 2 + 1 = 3 > 0$$

(C_g) est l'hyperbole de centre $W(-2; 1)$ et d'asymptotes les droites d'équations respectives $x = -2$ et $y = 1$

Donc le tableau de variations de g

x	$-\infty$	-2	$+\infty$
$g(x)$			

2) a) Intersection de la

courbe (C_f) avec l'axe des abscisses

Les points d'intersection C et D de la courbe (C_f)

avec l'axe des abscisses ont leurs ordonnées nulles, et leurs abscisses sont les solutions de l'équation $f(x) = 0$

$$f(x) = 0 \text{ ssi } -x^2 - 2x + 3 = 0$$

$$\Delta = b^2 - 4ac = (-2)^2 - 4 \times 3 \times (-1) = 4 + 12 = 16 > 0$$

$$x_1 = \frac{-(-2) + \sqrt{16}}{2 \times (-1)} = \frac{2 + 4}{-2} = \frac{6}{-2} = -3 \text{ et}$$

$$x_2 = \frac{-(-2) - \sqrt{16}}{2 \times (-1)} = 1 \text{ donc les points d'intersection}$$

de la courbe (C_f) avec l'axe des abscisses sont :

$A(-3; 0)$ et $B(1; 0)$

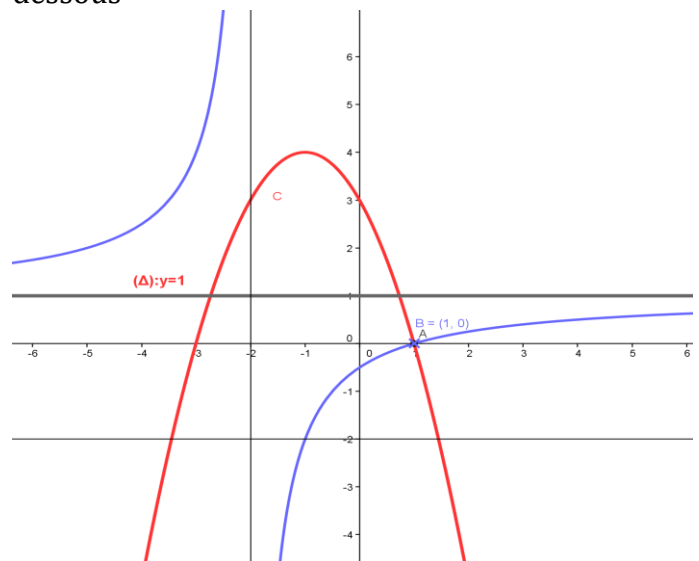
b) Intersection de la courbe (C_g) avec l'axe des abscisses

$$g(x) = 0 \text{ ssi } \Leftrightarrow \frac{x-1}{x+2} = 0 \Leftrightarrow x-1 = 0 \Leftrightarrow x = 1$$

le point d'intersection de la courbe (C_g) avec l'axe des abscisses est : $C(1; 0)$

3) Représentation graphique

Les courbes représentatives (C_f) (en rouge) et (C_g) (en bleu) sont données dans le repère ci-dessous



4) a) résolution graphique de l'équation $f(x) = g(x)$

Il suffit de chercher les abscisses des points d'intersection des courbes (C_f) et (C_g)

On a donc $x = 1$ donc $S = \{1\}$

4) b) résolution graphique de l'inéquation $f(x) \geq g(x)$

La courbe (C_f) est au-dessus de (C_g) si $x \in]-2; 1]$

Donc $S =]-2;1]$

Exercice 46 : Soit f une fonction numérique tq :

$$f(x) = \sqrt{x+\sqrt{x}} - \sqrt{x}$$

1) Déterminer D_f

2) Démontrer que f est minorée.

3) Démontrer que f est majorée par $\frac{1}{2}$ Conclure

Solution : 1) $D_f = \{x \in \mathbb{R} / x \geq 0\} = \mathbb{R}^+$

2) soit $x \in \mathbb{R}^+$ on a $x + \sqrt{x} \geq x$

Donc : $\sqrt{x+\sqrt{x}} \geq \sqrt{x}$ donc

$$f(x) = \sqrt{x+\sqrt{x}} - \sqrt{x} \geq 0$$

f est donc minorée sur \mathbb{R}^+ par $m=0$

2) soit $x \in \mathbb{R}^+$

$$f(x) = \sqrt{x+\sqrt{x}} - \sqrt{x} = \frac{(\sqrt{x+\sqrt{x}} - \sqrt{x})(\sqrt{x+\sqrt{x}} + \sqrt{x})}{(\sqrt{x+\sqrt{x}} + \sqrt{x})} \geq 0$$

$$f(x) = \frac{x + \sqrt{x} - x}{(\sqrt{x+\sqrt{x}} + \sqrt{x})} = \frac{\sqrt{x}}{\sqrt{x}(\sqrt{\frac{x+\sqrt{x}}{x}} + 1)} = \frac{1}{\left(\sqrt{1 + \frac{1}{\sqrt{x}}} + 1\right)}$$

Si $x \in \mathbb{R}^+ : \frac{1}{\sqrt{x}} > 0$ donc $1 + \frac{1}{\sqrt{x}} > 1$

donc $\sqrt{1 + \frac{1}{\sqrt{x}}} > 1$ donc $\sqrt{1 + \frac{1}{\sqrt{x}}} + 1 > 2$

donc $\frac{1}{\left(\sqrt{1 + \frac{1}{\sqrt{x}}} + 1\right)} < \frac{1}{2}$ donc $f(x) < \frac{1}{2}$

et on a : $f(0) = 0 < \frac{1}{2}$ donc $\forall x \in \mathbb{R}^+ f(x) < \frac{1}{2}$

par suite f est majorée par $\frac{1}{2}$.

conclusion : $0 < f(x) < \frac{1}{2} \quad \forall x \in \mathbb{R}^+$

f est donc bornée sur \mathbb{R}^+ .

Exercice 47 : Soit f une fonction numérique tq :

$$f(x) = x^2 + 2x\sqrt{x} + x - 4$$

1) Démontrer que f admet une valeur minimale

3) Démontrer que f n'est pas majorée

Solution : 1) $D_f = \{x \in \mathbb{R} / x \geq 0\} = \mathbb{R}^+$

soit $x \in \mathbb{R}^+$

$$f(x) = x^2 + 2x\sqrt{x} + x - 4 = x^2 + 2x\sqrt{x} + (\sqrt{x})^2 - 4$$

$$f(x) = (x + \sqrt{x})^2 - 4 \text{ donc}$$

$$f(x) + 4 = (x + \sqrt{x})^2 \geq 0$$

donc $f(x) + 4 \geq 0$ donc $f(x) \geq -4$

et on a : $f(0) = -4$ donc $f(x) \geq f(0)$

donc $f(0) = -4$ est une valeur minimale de f au point $x_0 = 0$

2) Démontrons que f est non majorée.

Supposons f majorée donc : $\exists M \in \mathbb{R} : f(x) \leq M$

$$\forall x \in \mathbb{R}^+$$

$$\Leftrightarrow \forall x \in \mathbb{R}^+ : (x + \sqrt{x})^2 - 4 \leq M$$

$$\Leftrightarrow \forall x \in \mathbb{R}^+ : (x + \sqrt{x})^2 \leq M + 4$$

$\Leftrightarrow \forall x \in \mathbb{R}^+ : x + \sqrt{x} \leq \sqrt{M + 4}$ (on peut toujours supposer $M \geq 0$)

$$\Leftrightarrow \forall x \in \mathbb{R}^+ : (\sqrt{x})^2 + 2 \times \frac{1}{2} \sqrt{x} + \left(\frac{1}{2}\right)^2 - \left(\frac{1}{2}\right)^2 \leq \sqrt{M + 4}$$

$$\Leftrightarrow \forall x \in \mathbb{R}^+ : \left(\sqrt{x} + \frac{1}{2}\right)^2 \leq \sqrt{M + 4} + \frac{1}{4}$$

$$\Leftrightarrow \forall x \in \mathbb{R}^+ : \sqrt{x} \leq \sqrt{\sqrt{M + 4} + \frac{1}{4}} - \frac{1}{2}$$

$$\Leftrightarrow \forall x \in \mathbb{R}^+ : x \leq \left(\sqrt{\sqrt{M + 4} + \frac{1}{4}} - \frac{1}{2}\right)^2 \text{ Absurde}$$

Donc f est non majorée

Exercice 48 : Soient f et g et h les trois fonctions définies par:

$$f(x) = \frac{6x^2 + 8x + 11}{(x-1)^2} \text{ et } g(x) = \frac{2x+3}{x-1} \text{ et}$$

$$h(x) = x^2 + 2$$

1)a) Etudier les variations de g et de h

b) étudier le signe de la fonction g

2) montrer que : $\forall x \in \mathbb{R} - \{1\} : f(x) = (h \circ g)(x)$

3) Etudier les variations de f dans les intervalles :

$$]1; +\infty[; \left[-\frac{3}{2}; 1\right[;]-\infty; -\frac{3}{2}]$$

Réponses : 1)a) $g(x) = \frac{2x+3}{x-1}$

on a $g(x) \in \mathbb{R}$ ssi $x-1 \neq 0$ ssi $x \neq 1$

Donc $D_g = \mathbb{R} - \{1\}$ $\Delta = \begin{vmatrix} 2 & 3 \\ 1 & -1 \end{vmatrix} = -5 < 0$

(C_g) est l'hyperbole de centre $W(1;2)$ et d'asymptotes les droites d'équations respectives $x=1$ et $y=2$

Donc le tableau de variations de g

x	$-\infty$	1	$+\infty$
$g(x)$		↘	↘

1) a) on a h est une fonction polynôme donc $D_h = \mathbb{R}$

Donc le tableau de variations de h

x	$-\infty$	0	$+\infty$
$h(x)$		↘	↗

b) étudions le signe de la fonction g sur $\mathbb{R} - \{1\}$

x	$-\infty$	$-\frac{3}{2}$	1	$+\infty$
$2x+3$	-	0	+	+
$x-1$	-	-	0	+
$\frac{2x+3}{x-1}$	+	0	-	+

$$D_{g \circ f} = \{x \in \mathbb{R} / x \in D_f \text{ et } f(x) \in D_g\}$$

2) montrons que : $\forall x \in \mathbb{R} - \{1\} : f(x) = (h \circ g)(x)$

$$(h \circ g)(x) = h(g(x)) = h\left(\frac{2x+3}{x-1}\right)$$

$$(h \circ g)(x) = \left(\frac{2x+3}{x-1}\right)^2 + 2 = \frac{4x^2 + 12x + 9 + 2x^2 - 4x + 2}{(x-1)^2}$$

$$(h \circ g)(x) = \frac{6x^2 + 8x + 11}{(x-1)^2}$$

Donc $\forall x \in \mathbb{R} - \{1\} : f(x) = (h \circ g)(x)$

3) Etude des variations de f dans les intervalles :

a) sur $]-\infty; -\frac{3}{2}[$:

On a $\forall x \in \mathbb{R} - \{1\} : f(x) = (h \circ g)(x)$

Puisque g est décroissante sur $]-\infty; -\frac{3}{2}[$ et

$\forall x \in]-\infty; -\frac{3}{2}[: g(x) \in [0; +\infty[$ et h est croissante

sur $[0; +\infty[$ alors $f = h \circ g$ est décroissante sur $]-\infty; -\frac{3}{2}[$

b) sur $[-\frac{3}{2}; 1[$

Puisque g est décroissante sur $[-\frac{3}{2}; 1[$ et

$\forall x \in [-\frac{3}{2}; 1[: g(x) \in]-\infty; 0]$ et h est décroissante sur $] -\infty; 0]$ alors $f = h \circ g$ est croissante sur

$[-\frac{3}{2}; 1[$

c) sur $]1; +\infty[$:

Puisque g est décroissante sur $]1; +\infty[$ et

$\forall x \in]1; +\infty[: g(x) \in]0; +\infty[$ et h est croissante sur $]0; +\infty[$ alors $f = h \circ g$ est décroissante sur $]1; +\infty[$

Donc le tableau de variations de f :

x	$-\infty$	$-\frac{3}{2}$	1	$+\infty$
$f(x)$		↘	↗	↘

« C'est en forgeant que l'on devient forgeron »
Dit un proverbe.

C'est en s'entraînant régulièrement aux calculs et exercices

Que l'on devient un mathématicien

Prof : Atmani najib

