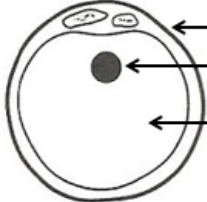



I. تنقسم العناصر المكونة للأعضاء التناسلية عند الرجل وعند المرأة إلى ثلاث مجموعات، قسم العناصر التالية حسب الجدول التالي: (4.5ن)
مبيض - احليل - قناة المبيض - موثة - عنق الرحم - خصية

عند المرأة		عند الرجل	
	الغدد التناسلية		الغدد التناسلية
	المسالك التناسلية		المسالك التناسلية
	الغدد الملحقة		الغدد الملحقة

II. حدد أسماء العناصر المكونة لكل من المشيج الذكري والمشيج الأنثوي: (4.5ن)

	<p>.....</p> <p>.....</p> <p>.....</p>		<p>.....</p> <p>.....</p>
---	--	---	---------------------------

III. عرف المصطلحات التالية: (2ن)

الهرمون:

الإخصاب:

IV. حدد ما يلي: (2ن)

الهرمون الذكري عند الرجل:

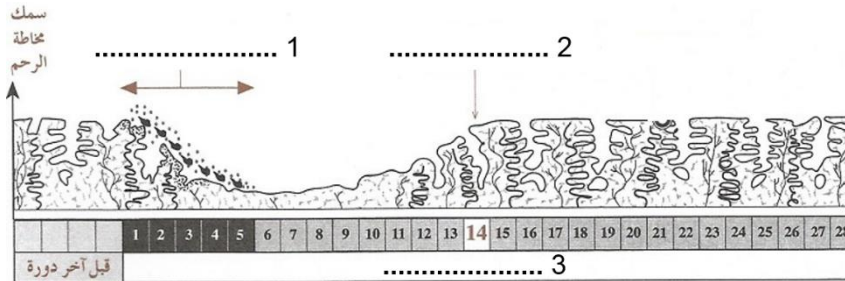
الهرمون أو الهرمونات الأنثوية عند المرأة:

V. تعرف على الظاهرة المبينة في الوثيقة التالية: (1ن)



الظاهرة هي:

VI. اتمم ملء الوثيقة التالية بتحديد مراحل الدورة الجنسية عند المرأة: (3ن)



VII. قدم بعض الأمثلة (ثلاث على الأقل) لبعض الأمراض المنقولة جنسيا: (1.5ن)

.....

VIII. قدم بعض الأمثلة (ثلاث على الأقل) لبعض وسائل تنظيم النسل: (1.5ن)

.....