

Durée : 1H	Examen régional normalisé		المملكة المغربية +oXHAξ+ HICΨoξΘ  وزارة التربية الوطنية والتكوين المهني والتعليم العالي والبحث العلمي +oLloO+ oXcξ oLξo Λ oLξ++X oXξoΛ Λ oLHCΛ oLHno Λ oXξ% oLξoΛ
Coefficient : 1 allal ben abdellah kenitra	Session : Juin 2016	Epreuve de physique chimie	
SAID BOUJNANE	Région Fes Meknès		

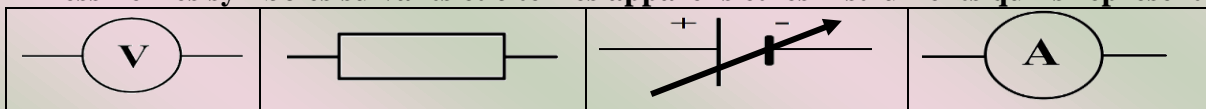
L'usage d'une calculatrice non programmable est autorisé

Barème

Exercice01

(8points)

- ① Recopiez les phrases suivantes après en avoir complété les vides :
 - ❖ Le mouvement et le repos d'un corps sont deux notions On ne peut les décrire que si on détermine un autre corps appelé
 - ❖ On distingue deux types essentiels de mouvement : mouvementet mouvement.....
- ② Ecrivez le numéro de chaque proposition sur la feuille de rédaction et répondez par vrai ou faux :
 - 1.2 Le respect du code de la route permet de réduire les accidents de la route. 2
 - 2.2 La masse d'un corps à la ville de Tanger est égale à celle du même corps se trouvant à lagouira dans le Sahara Marocain. 2
 - 3.2 Le poids net d'une boîte de thé est 120 g.
 - 4.2 Le dynamomètre indique l'intensité de la force qui lui est appliqué.
- ③ Déterminez l'unité internationale et l'instrument de mesure de chacune des deux grandeurs physiques suivantes :
 - 1.3 L'intensité du courant électrique. 2
 - 2.3 L'énergie Électrique..... 2
- ④ partie expérimentale
 - 1-4 Dessinez les symboles suivants et citer les appareils et les instruments qu'ils représentent : 1



- 2-4 Faites le schéma du circuit électrique nécessaire pour la confirmation expérimentale de la loi d'Ohm pour un conducteur ohmique 1

Exercice02

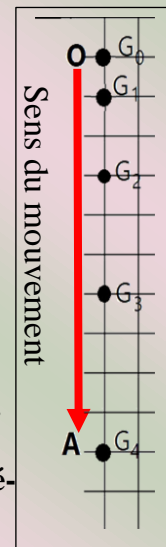
(8points)

Première partie : Etude du mouvement

On libère une balle homogène S à la position O et elle tombe vers la position A ; on enregistre les positions successives du point G la balle en (Go, G1, G2, G3 ,.....) comme le montre l'enregistrement ci-contre.

La durée entre deux positions successives est constante et vaut 0,1s et la distance OA = 1 m.

1. Déterminez la nature de la trajectoire du point G au cours de la chute de la balle. Justifier la réponse. 1
2. Déterminez la nature du mouvement de la balle de ce qui suit : uniforme-accélééré-retardé. Justifiez. 1
3. Calculez la durée de la chute de la balle de la position O à la position A. 1
4. Déduisez la vitesse moyenne V_m de la chute du point G entre les positions O et A en unité universelle. 1

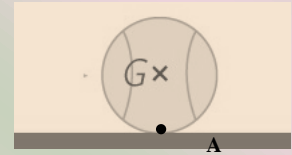


تم تحميل هذا الملف من موقع www.talamidi.com

Deuxième partie : Etude de l'équilibre sur une table horizontale, la balle S est stable à la position

A et conserve son équilibre comme montre la figure ci-contre.

1. Faites l'inventaire des forces appliquées sur S et classer les en forces de contact et forces à distances
2. Déterminez les caractéristiques du poids \vec{P} de la balle sachant que sa masse est $m=400g$. On donne $g=10N/Kg$
3. Déduisez les caractéristiques de la force \vec{R} , action de la surface de la table sur la balle.
4. Représentez la force de contact appliquée sur la balle à l'échelle 1cm correspond 2N.

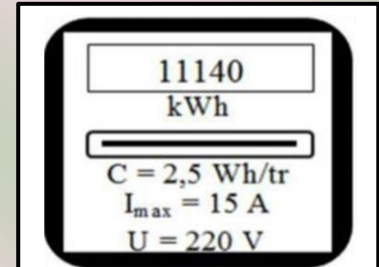


1
1
1
1

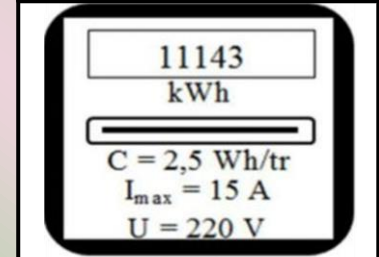
Exercice03 : (4points)

Ahmed possède, chez lui, un ensemble d'appareils électriques, parmi eux :

- ❖ Des lampes économiques identiques (220V, 30W)
- ❖ Une télévision (220V, 120W)
- ❖ Un four électrique (220V, P)



Avant le fonctionnement



Après une heure de fonctionnement

① Ahmed veut déterminer la puissance électrique P du four, il le branche seul pendant une durée $t=1h$ et relève les données du compteur électrique de la maison avant et après ce branchement. Voir figure ci-contre.

Aider Ahmed et montrer que la puissance électrique de ce four vaut $P=3 KW$.

- ② Calculez l'intensité du courant électrique passant dans le four lors de son fonctionnement normal et déduisez sa résistance R en le considérant tant que conducteur ohmique.
- ③ Citez le rôle du compteur dans le montage domestique et déduisez le nombre de tour de son disque après branchement du four pendant $t'=15 min$.
- ④ Quel est le nombre N de lampes économiques identiques qu'on peut brancher simultanément avec le four et la télévision sans que le disjoncteur coupe le courant électrique ?

1
1
1
1

