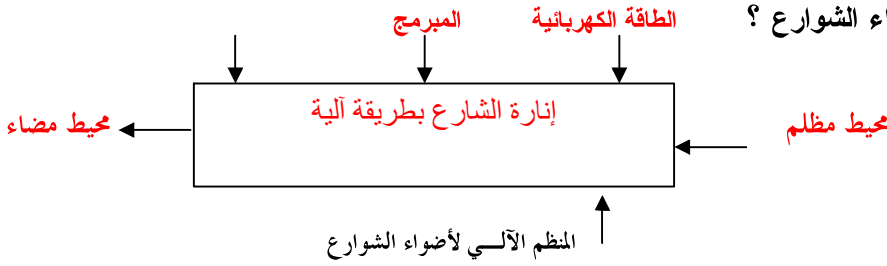


## التصحيح

1- مانوع المنظم المعبر عنه في الوضعية ؟

نوع المنظم آلي

3- أتمم بياني التمثيل الوظيفي للمنظم الآلي لأضواء الشوارع ؟



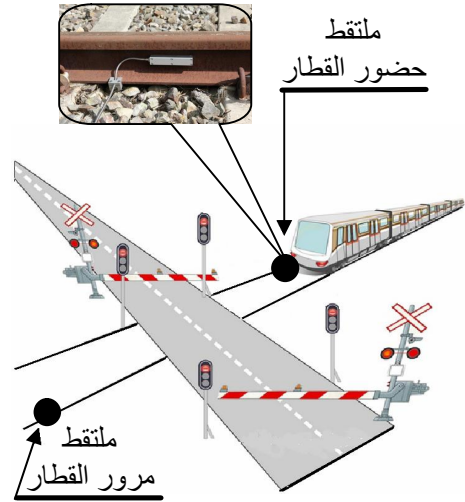
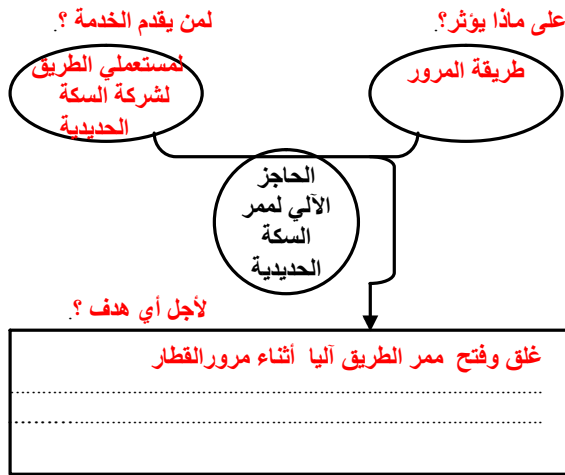
4- أتمم جدول المقارنة التالي ؟

	FC1	FC2	FC3	FC4	المجموع	النسبة %
FP	FP <sub>2</sub>	FP <sub>2</sub>	FP <sub>2</sub>	FP <sub>2</sub>	8	40
	FC1	FC1 <sub>3</sub>	FC1 <sub>1</sub>	FC1 <sub>2</sub>	6	30
		FC2	FC2 <sub>2</sub>	FC2 <sub>2</sub>	4	20
			FC3	FC3 <sub>2</sub>	2	10
				FC4	0	0
					20	100%

5- ما هي قراءتك للخلية المشار إليها بالحرف A ؟

في هذه الخلية تم : تفضيل الوظيفة FC2 على الوظيفة FC3 بدرجتين ( أي تفضيل متوسط ).

6- عبر عن الحاجة إلى الحاجز الآلي لممر السكة الحديدية؟ « Passage à niveau »



7- عرف الملتقط (capteur) :

الملتقط هو كل عنصر قادر على إنقاط مقدار فيزيائي من محيط المنظم.

8- إملأ الجدول بما يناسب ؟

إسم المنظم	نوع المنظم	مادة العمل	القيمة المضافة
مجفف الشعر	ممكـن	شعر المستعمل	التجفيف
مفتاح USB	ممكـن	المعلومات الرقمية	التخزين

9- أذكر مراحل تحليل الحاجة مع ذكر النشاط الذي تقوم به المقابلة في كل مرحلة؟

مراحل تحليل الحاجة	النشاط الذي تقوم به المقابلة
إدراك الحاجة	إنجاز التسأل
التعبير عن الحاجة	الإجابة عن أسئلة بياني الحاجة
إقرار الحاجة	الإجابة عن أسئلة إقرار الحاجة