


<b>Partie 1 : La matière</b>	<b>Physique chimie</b>	<b>Année scolaire : 2018/2019</b>
Niveau : 2 AC BOUDJAJ EL MAHDI	<b>Série 2</b>	<b>Collège : Bougafer</b>

<p><b>Exercice 1</b></p> <p>La réaction chimique bilan entre le carbone C dans le dioxygène O<sub>2</sub> se fait selon :</p> $C + O_2 \longrightarrow CO_2$ <ol style="list-style-type: none"> <li>1) Quel est le combustibles ?</li> <li>2) Quel est le comburant ?</li> <li>3) Quel est le produit</li> <li>4) Quels sont les réactifs ?</li> <li>5) Comment on peut prouver la présence de ce produit ?</li> </ol>	<p><b>Exercice2 traduire les termes suivants en arabe :</b></p> <p>Le combustible : .....</p> <p>Le comburant : .....</p> <p>Les réactifs : .....</p> <p>Les produits : .....</p> <p>Eau de chaux .....</p> <p>Trouble .....</p> <p>Incandescent .....</p> <p>Réaction chimique .....</p> <p>Transformation chimique .....</p>
<p><b>Exercice 3</b></p> <p><b>Quelles sont les formules chimiques de</b></p> <ul style="list-style-type: none"> <li>- L'eau</li> <li>- Dioxyde de carbone</li> <li>- Monoxyde de carbone</li> <li>- Le butane</li> <li>- Le carbone</li> </ul>	<p><b>Exercice 4</b></p> <p><b>Relie entre les expressions par des flèches</b></p> <p>Le combustible • il aide à la combustion</p> <p>Le comburant • il subit la combustion</p> <p>Les réactifs • ils apparaissent pendant la réaction</p> <p>Les produits • ils disparaissent pendant la réaction</p>
<p><b>Exercice 5</b></p> <p>La combustion <b>complet</b> du butane est une réaction chimique (transformation chimique) qui produit une <b>grande</b> quantité de la chaleur,</p> <p>Butane + dioxygène <math>\longrightarrow</math> eau + dioxyde de carbone</p> <ol style="list-style-type: none"> <li>1) Dans ce cas quelle est la couleur de la flamme (feu)</li> <li>2) Comment est la quantité l'air (dioxygène)</li> <li>3) Quel est le comburant ? .....</li> <li>4) Quel est le combustible ? .....</li> <li>5) Quels sont les réactifs ?</li> <li>6) Quels sont les produits .....</li> <li>7) Comment on peut prouver la présence de ces produits ?</li> <li>8) Ecrire cette réaction bilan en utilisant les formules chimiques</li> </ol>	<p><b>Exercice 6</b></p> <p>La combustion <b>incomplet</b> du butane est une réaction chimique (transformation chimique) qui produit une <b>petite</b> quantité de la chaleur,</p> <p>Butane + dioxygène <math>\longrightarrow</math> eau + dioxyde de carbone + monoxyde de carbone</p> <ol style="list-style-type: none"> <li>1) quelle est la couleur de la flamme (feu)</li> <li>2) Comment est la quantité l'air (dioxygène)</li> <li>3) Quel est le comburant ? .....</li> <li>4) Quel est le combustible ? .....</li> <li>5) Quels sont les réactifs ?</li> <li>6) Quels sont les produits ?</li> <li>7) Comment on peut prouver la présence de ces produits ?</li> <li>8) Ecrire cette réaction bilan en utilisant les formules chimiques</li> </ol>
<p><b>Exercice 7</b></p> <p>Soit la réaction chimique bilan de 2g de carbone avec 5g de dioxygène :</p> <ol style="list-style-type: none"> <li>1) Ecrire la réaction chimique bilan de cette transformation</li> <li>2) En appliquant la loi de conservation de la masse, Calculer la masse de dioxyde de carbone qui va se former</li> <li>3) Quel est le test qui met en évidence CO<sub>2</sub> ?</li> </ol>	<p><b>Exercice 8</b></p> <p>La réaction chimique bilan de 8g de Fer de formule chimique Fe avec le soufre de formule S produit 12g de sulfate de fer FeS .</p> <ol style="list-style-type: none"> <li>1) Ecrire la réaction chimique bilan de cette transformation</li> <li>2) En appliquant la loi de conservation de la masse, Calculer la masse de soufre S qu'on doit utilisé.</li> </ol>
<p><b>Exercice 9</b></p> <p>Equilibrer les équations chimiques de combustion suivantes en utilisant la loi de conservation des atomes</p> $CH_4 + O_2 \longrightarrow CO_2 + H_2O$ $C_3H_8 + O_2 \longrightarrow CO_2 + H_2O$ $C_5H_{12} + O_2 \longrightarrow CO_2 + H_2O$ $Ag + O_2 \longrightarrow Ag_2O$	<p><b>Exercice 10</b></p> <p>Equilibrer les équations chimiques de combustion suivantes</p> $C_2H_6 + O_2 \longrightarrow CO_2 + H_2O$ $C_4H_{10} + O_2 \longrightarrow CO_2 + H_2O$ $Fe + O_2 \longrightarrow Fe_2O_3$ $H_2 + Cl_2 \longrightarrow HCl$

### Exercice 11

La combustion de méthane se fait selon la réaction suivante



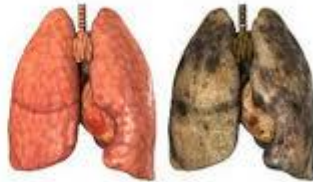
- 1) Equilibrer cette réaction
- 2) Modéliser cette réaction par les modèles moléculaire des molécules
- 3) Citer les lois de la réaction chimique

### Exercice 12 (exposé à faire chez soi)

La terre (planète bleue) est en danger à cause de la pollution de l'air

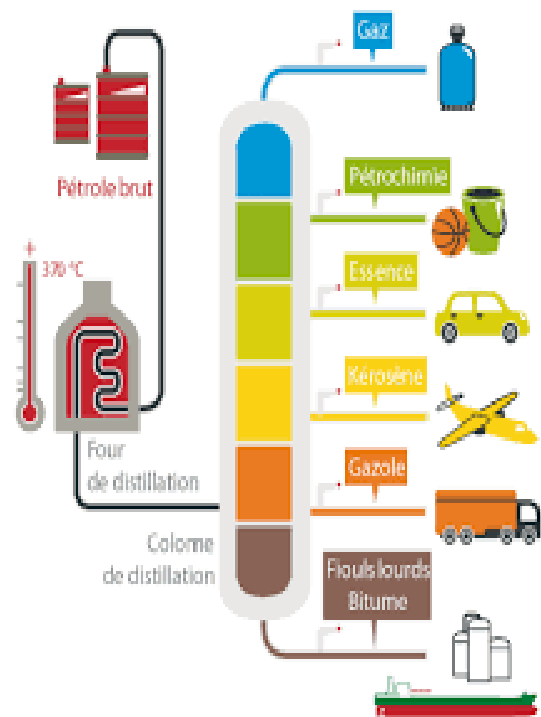
- 1) Définir la pollution de l'air
- 2) Citer les origines naturelles et industrielles de la pollution
- 3) Quelles sont les solutions de la pollution de l'air

### Exercice 13 (exposé à faire chez soi)



- 1) Quels sont les produits du fumé d'une cigarette
- 2) Citer quelques dangers du fumé d'une cigarette sur la santé
- 3) Présenter des conseils aux personnes qui fument pour arrête la fumé

### Exercice 14



- 1) Quelle est la source du pétrole
- 2) Citer les dérivés du pétrole
- 3) Comment appelée cette technique qui permet de sépare ces dérivés