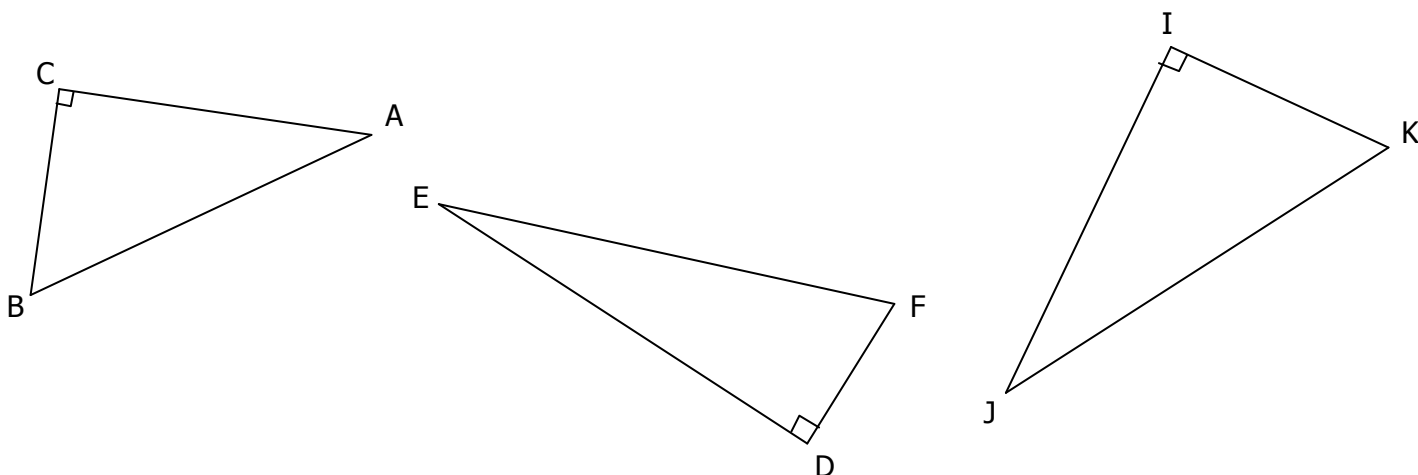


**CERCLE CIRCONSCRIT AU TRIANGLE RECTANGLE**

**EXERCICE 2**

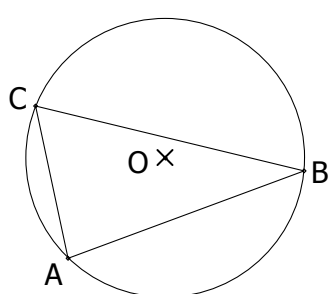
**EXERCICE 1**

Sans tracer les médiatrices de ces 3 triangles, construire leur cercle circonscrit :

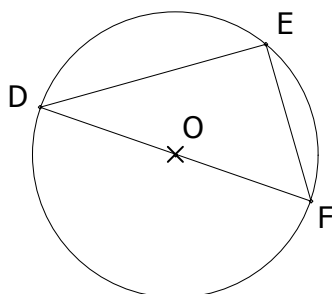


**EXERCICE 2**

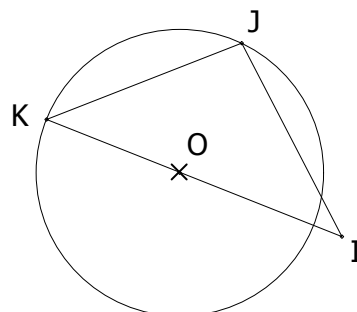
Sans utiliser le moindre instrument de géométrie, les triangles suivants sont ils rectangles ?  
(O est le centre du cercle).



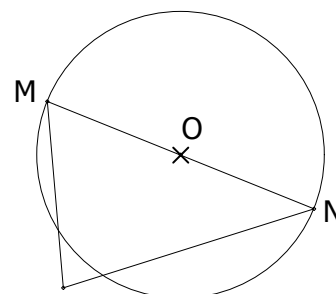
Oui  Non



Oui  Non



Oui  Non



Oui  Non

**EXERCICE 3**

Parmi les points suivants, entourer ceux qui appartiennent au demi-cercle de diamètre [MN] **sans tracer ce demi-cercle**, en utilisant uniquement l'équerre.

